

## БЛАНК ЗАДАНИЙ

муниципального этапа всероссийской олимпиады школьников  
по ИСТОРИИ

2021/2022 учебный год

9 класс

3, 7, 3, 5, 5, 0, 3, 5, 6, 20 = 575

Общее время выполнения работы – 150 минут.  
Максимальное количество баллов – 100.

**Задание 1.** Выберите один правильный ответ. Ответы впишите в таблицу.

35

1.1. Какая из указанных мер относится к реформам Избранной Рады?

- А) отмена местничества      Б) бессрочный сыск беглых крестьян  
В) введение Юрьева дня      Г) отмена кормлений

1.2. Кто из ордынских правителей был современником Ивана Калиты?

- А) Батый    Б) Ахмат    В) Тохтамыш     Г) Узбек

1.3. В каком древнерусском городе располагалось Ярославово дворище?

- А) Ярославль    Б) Тверь     В) Великий Новгород    Г) Владимир

1.4. Кто из указанных правителей освободил дворян от обязательной службы?

- А) Петр I    Б) Анна Иоанновна    В) Елизавета Петровна     Г) Екатерина II

1.5. Кому из указанных исторических деятелей посвящены данные строки А.С. Пушкина?

«Если мысленно перенесемся мы к 1791 году, если вспомним тогдашние политические обстоятельства, если представим себе силу нашего правительства, наши законы, не изменившиеся со времен Петра I, их строгость <...>; если подумаем: какие суровые люди окружали еще престол Екатерины, – то преступление [...] покажется нам действием сумасшедшего. Мелкий чиновник, человек безо всякой власти, безо всякой опоры, дерзает вооружиться противу общего порядка, противу самодержавия, противу Екатерины! И заметьте: заговорщик надеется на соединенные силы своих товарищей <...>»

- А) Тадеуш Костюшко      Б) Александр Радищев  
В) Михаил Сперанский      Г) Денис Фонвизин

1.1.	1.2.	1.3.	1.4.	1.5.
A 0	Г 10	В 10	Г 0	Б 1

Максимальное количество баллов – 5.

Члены жюри: \_\_\_\_\_, \_\_\_\_\_, \_\_\_\_\_

№5 - 09-15

**Задание 2.** Выберите несколько правильных ответов. Ответы впишите в таблицу.

70

2.1. Какие из указанных событий относятся к эпохе Смутного времени в России?

- А) восстание Ивана Болотникова      Б) битва при Молодях      В) создание Совета Всея Земли  
 Г) Стоглавый собор      Д) восстание Степана Разина      Е) оборона Смоленска

2.2. Выберите из списка современников:

- А) Борис Годунов      Б) Жанна Д'Арк      В) Уильям Шекспир  
 Г) Исаак Ньютон      Д) Ричард I Львиное Сердце      Е) Франсуа-Мари Вольтер

2.3. Кто из указанных правителей инициировал принятие в России нового свода законов?

- А) Иван III Великий      Б) Алексей Михайлович      В) Борис Годунов      Г) Петр I      Д) Екатерина II

2.4. Какие из указанных категорий населения существовали в России во второй половине XVIII века?

- А) посессионные крестьяне      Б) холопы      В) закупы      Г) мещане      Д) почетные граждане



2.1.	2.2.	2.3.	2.4.
A, B, E	A, B	A, B, D	B, A

Максимальное количество баллов – 8.

**Задание 3.** Укажите, по какому принципу образован ряд. Дайте

38

максимально точный ответ расположены в Кембридже



Члены жюри

*[Handwritten signature]*

Определите, какое из изображений лишнее? Укажите букву, которой обозначено это изображение, и объясните, почему оно является лишним.

Буква	Объяснение
Д	<del>Под буквой Д то</del> Данное изображение является фортал

Впишите в таблицу названия архитектурных памятников, запечатленных на изображениях:

А	Фридрихские ворота 1
Б	
В	
Г	
Д	

Максимальное количество баллов - 9

Задание 4. Установите соответствие между московскими князьями и территориями, которые были присоединены в годы их правления.

	Князья		Территории
1	Даниил Александрович	А	Ярославль, Великий Новгород, Тверь
2	Дмитрий Донской	Б	Нижний Новгород, Муром, Вологда
3	Василий I	В	Коломна, Переславль-Залесский
4	Иван III	Г	Углич, Белоозеро, Кострома, Галич
5	Василий III	Д	Псков, Рязань, Смоленск

1	2	3	4	5
В 1	Г 1	Б 1	А 1	Д 1

Максимальное количество баллов - 5.

Задание №5. В 2021 году исполняется 300 лет победе России в Северной войне.

Ниже приведены исторические факты, относящиеся к трем важнейшим сражениям периода Северной войны. Заполните таблицу, указав порядковые номера соответствующих каждому сражению исторических фактов. Обратите внимание, что одно утверждение не относится ни к одному из сражений и является лишним.

- 1) В этом сражении принял личное участие король Швеции Карл XII.
- 2) Петр I лично не принимал участие в этом сражении.

Члены жюри: \_\_\_\_\_, \_\_\_\_\_, \_\_\_\_\_

№5 - 09-15

- 3) Это сражение Петр Великий назвал «Матерью Полтавской баталии».
- 4) А.С. Пушкин в 1828 году посвятил данному сражению поэму.
- 5) Для победы в этом сражении по приказу Петра I была построена переволока.
- 6) Это сражение являлось последним крупным сражением Северной войны.
- 7) Победа в этом сражении является днём воинской славы России, который отмечается 10 июля по новому стилю.
- 8) Для чествования победителей в этом сражении по приказу Петра Великого была сооружена Триумфальная арка с изображением орла, сидевшего на спине у слона.
- 9) После победы в этом сражении был восстановлен Северный союз.
- 10) Это сражение является генеральным сухопутным сражением Северной войны.

Полтавская битва	Гангутское сражение	Гренгамское сражение
1, 4, 10	3, 8, 9	6, 7

Укажите номер утверждения, которое является лишним, и назовите сражение Северной войны, к которому оно относится.

--	--

Максимальное количество баллов - 11




**Задание №6.** Расположите в хронологической последовательности указанные события зарубежной истории. Внесите буквенные обозначения событий в приведенную таблицу.

- А) Захват турками Константинополя
- Б) Первый крестовый поход
- В) Варфоломеевская ночь во Франции
- Г) Образование герцогства Варшавского
- Д) Первый раздел Речи Посполитой
- Е) Вестфальский мир

Б	В	Г	А	Е	Д
---	---	---	---	---	---

Максимальное количество баллов - 6

Члены жюри:



**Задание 7.** Ознакомьтесь с фрагментом исторического документа и ответьте на предложенные вопросы.

«По божией воле и по нашему жалованью мы, великий государь Василий, божиего милостию царь и государь всея Руси и великий князь владимирский и проч., дали есьмы сию свою грамоту Альбрехту, немецкого чина высокому магистру прусскому, на то, что к нам прислал своих послов бить челом о том, чтобы нам его жаловать и беречь и на своего бы недруга, на короля польского и великого князя литовского. И мы пожаловали, во единачестве есьмы его с собою учинили и за него, и за его землю хотим стоять и оборонять его от своего недруга, от короля польского».

Вопросы	Ответы
Определите часть века, к которому относятся события, указанные в данном документе	Первая половина <u>XV</u> 0
Укажите имя и отчество (или порядковый номер), а также годы правления российского правителя, упомянутого в тексте	Василий I 0
	1389 - 1425 0
Укажите название государства, правителем которого был названный в тексте Альбрехт	Литовский орден 2
Опираясь на знания по истории России, приведите исторический факт, подтверждающий, что в указанный период польский король и великий князь литовский был недругом, то есть противником Российского государства.	1404 - захват маленького литовского князя Витовта 1/30

**Максимальное количество баллов – 8.**

55

**Задание №8.** Определите пропущенные в тексте слова или словосочетания, обозначенные порядковыми номерами. Необходимые вставки впишите под соответствующими номерами в помещённую ниже таблицу.

В XVIII в. в России начинает развиваться университетское образование. В 1724 г. (1 – имя монарха) был подписан указ о создании (2 – название учреждения). В ее структуре были предусмотрены гимназия и университет. В 1750-е годы М.В. Ломоносов сосредотачивает свои усилия на организации в (3 – город) университета, который должен был стать центром образования и науки. С [...] университетом связано создание в 1757 г. (4 – название учреждения), выросшей из художественных классов университетской гимназии. В

Члены жюри:



петровские времена было положено начало собирания научных коллекций. В 1719 г. для всеобщего обозрения была открыта (5 – название учреждения), собрание «раритетов» которой послужило основой для коллекций будущих музеев [...].

В середине и во второй половине XVIII в. исторические знания превращаются в науку, и создается ряд крупных исторических трудов [...]. Во многом этому способствовала «История Российская» (4 части) Василия Никитича (6 – фамилия), где он довел изложение российской истории до конца XVI в. Во второй половине XVIII в. историей плодотворно занимался (7 – фамилия), который в противовес норманистским построениям Г. Миллера и З. Байера в своей «Древней Российской истории...» писал об автохтонном происхождении славян, южном славянском происхождении этнонима Русь. Огромную роль в организации научно-исследовательской работы сыграла княгиня (8 – фамилия), назначенная в 1783 г. директором Петербургской Академии наук.

Вторая половина XVIII в. отмечена большими успехами в развитии техники. Механик-самоучка Иван (9 – фамилия) [...] изобрел «зеркальный фонарь» – прототип прожектора, семафорный телеграф, лифт, новый часовой механизм и пролет одноарочного моста через (10 – название реки) длиной в 298 м. Иван (11 – фамилия) создал проект парового двигателя и в 1765 г. построил первую паросиловую установку для заводских нужд.

Первый русский профессиональный театр был создан царским указом в 1756 г. на базе театра, возникшего в (12 – город) в 1750 г. по инициативе купца Ф. Г. Волкова. Во второй половине XVIII в. была создана новая художественная литература с развитой системой жанров [...]. Известным литератором был Александр (13 – фамилия) (9 трагедий, в том числе «Хорев», «Дмитрий самозванец», и 12 комедий). В русской литературе второй половины XVIII в. начинает оформляться художественно-реалистическое направление. Здесь крупный след оставил (14 – фамилия) – автор комедий «Бригадир» и «Недоросль». (Зув М.Н.)

1	Петр I Анна Ивановна 0	8	
2	ИГУ 0	9	Кундлин 1
3	Москва 1	10	
4	0	11	
5	Кунтшаммера 1	12	
6	0	13	
7	Михаил Васильевич Ломоносов 1	14	Алексей Иванович Фомин 1

Максимальное количество баллов – 14.

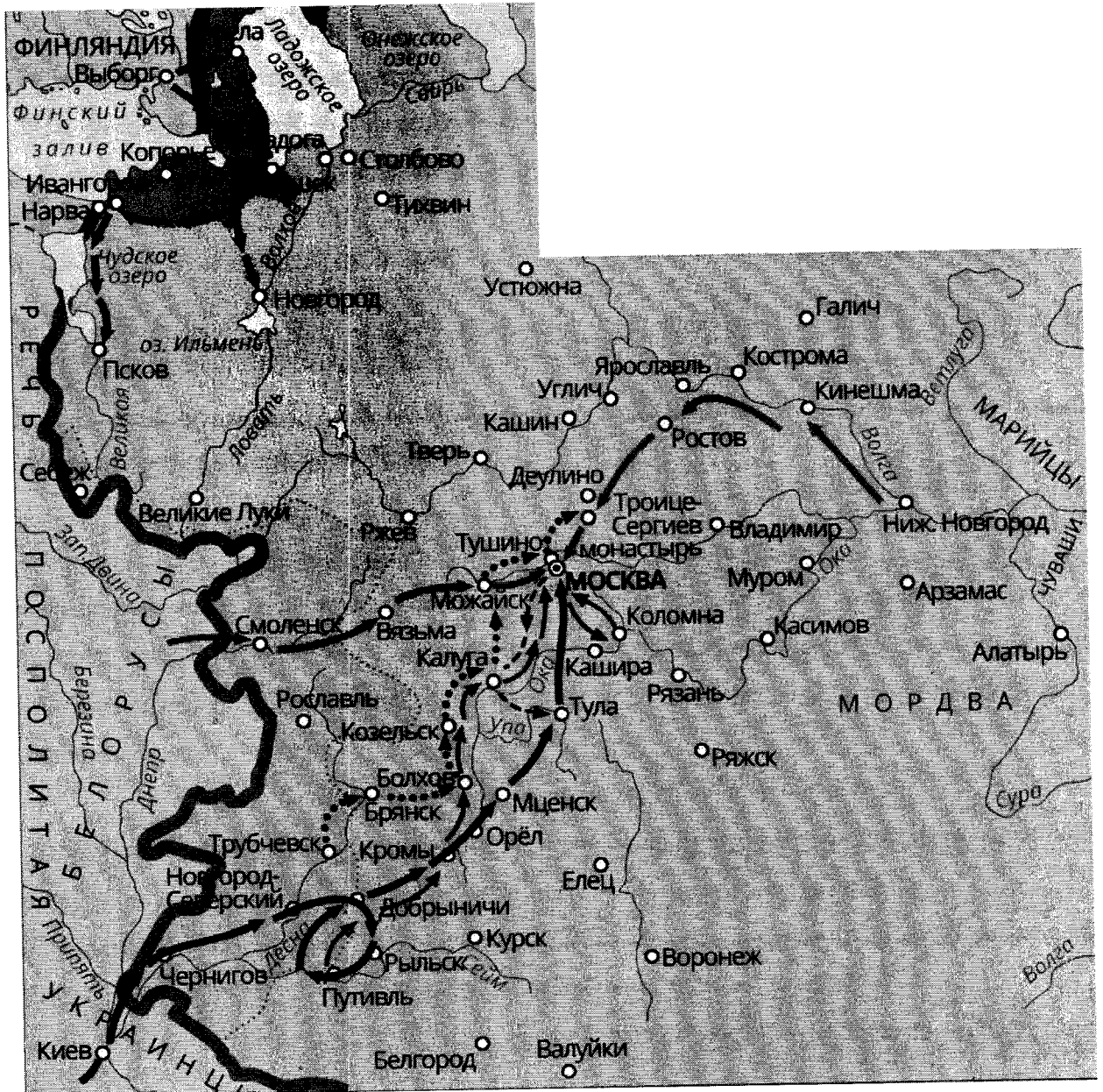
Члены жюри: \_\_\_\_\_, \_\_\_\_\_, \_\_\_\_\_

Задание №9. Внимательно изучите карту-схему, характеризующую одно

из важнейших событий истории России, и определите, какие

из предложенных утверждений соответствуют действительности, а какие - нет. Ответы впишите в таблицу.

60



1. На карте-схеме изображен один из эпизодов феодальной войны в Московском государстве второй трети XV века.
2. В событиях, которые изображены на карте-схеме, показано участие армии Османской империи и Крымского ханства.
3. Во время событий, изображенных на данной карте-схеме, Ярославль выполнял роль «альтернативной столицы» России.

Члены жюри:


*[Handwritten signature]*

4. По результатам событий, изображенных на карте-схеме, Россия заключила Плюсское перемирие и Ям-Запольской мирный договор.
5. В ходе указанных событий Москва несколько раз подвергалась осаде как русскими, так и иностранными войсками;
6. На карте-схеме изображен ход одного из крупнейших народных выступлений в истории России с участием крестьян, холопов, казаков и дворянства;
7. В ходе указанных событий в состав России вошла Левобережная Украина;
8. Начало событий, изображенных на карте схеме, пришлось на годы правления Бориса Годунова.

Верно	Неверно
✓ ✓ ✓ 6, 8, 4, 5	✓ ✓ ✓ 1, 2, 7, 3

Укажите, какое историческое событие изображено на карте-схеме

Иностранная интервенция в Россию (начало XVI века)  
 Максимальное количество баллов – 9.



**Задание 10.** Вам предстоит работать с высказываниями историков и современников о событиях и деятелях отечественной истории. Выберите из них одно, которое станет темой Вашего сочинения-эссе. Ваша задача – сформулировать собственное отношение к данному утверждению и обосновать его аргументами, представляющимися Вам наиболее существенными

При выборе темы исходите из того, что Вы:

1. Ясно понимаете смысл высказывания (не обязательно полностью или даже частично быть согласным с автором, но необходимо понимать, что именно он утверждает).
2. Можете выразить свое отношение к высказыванию (аргументировано согласиться с автором либо полностью или частично опровергнуть его высказывание).
3. Располагаете конкретными знаниями (факты, статистические данные, примеры) по данной теме.
4. Владаете терминами, необходимыми для грамотного изложения своей точки зрения.

При написании работы постарайтесь исходить из того, что Жюри, оценивая Ваше эссе, будет руководствоваться следующими критериями:

1. Обоснованность выбора темы, постановка проблемы и формулировка трёх задач, которые ставит в своей работе участник.
2. Творческий характер восприятия темы, ее осмысления.
3. Грамотность использования исторических фактов и терминов.

Члены жюри: \_\_\_\_\_, \_\_\_\_\_, \_\_\_\_\_



№5 - 09-15

4. Четкость и доказательность основных положений работы.
5. Знание различных точек зрения по избранному вопросу.
6. Выводы (три вывода по поставленным задачам и обобщение по проблеме).

## Темы эссе

1. «Святослав представлен образцом воина и только воина, который с своею отборною дружиною покинул Русскую землю для подвигов отдаленных, славных для него и бесполезных для родной земли». (С.М. Соловьев)
2. «Несмотря на опустошения, произведенные монгольскими войсками, несмотря на все поборы баскаков, в период монгольского владычества было положено начало не только политическому возрождению России, но и дальнейшим успехам русской культуры. (В. Бартольд)
3. «Война была главным движущим рычагом преобразовательной деятельности Петра I, военная реформа - ее начальным моментом» (В.О. Ключевский)
4. «Екатерина II была истинною преемницею величия Петрова и второю образовательницею новой России. Главное дело сей незабвенной монархини состоит в том, что ею смягчилось самодержавие, не утратив силы своей» (Н.М. Карамзин)
5. «Нет ни одной отрасли государственного управления, которая не была бы преобразована, исправлена, дополнена в его царствование; многие части созданы им совершенно» (Н.И. Греч об Александре I)

Максимальное количество баллов – 25.

«Святослав представлен образцом воина и только воина, который с своею отборною дружиною покинул Русскую землю для подвигов отдаленных, славных для него и бесполезных для родной земли»

С.М. Соловьев

Из всех заданий тем я решил выбрать именно эту, потому что личность Святослава Игоревича является интересной и заманчивой. Годы «мощный + воин» провел все свое правление в военных походах, что привело к созданию государства и в равной степени традиции правления через жюри:

1. Какие подвиги совершил Святослав?
2. Что происходило в стране во время отсутствия князя?
3. Как повлиял Святослав на развитие истории нашей страны? Чем заманились все доблестные воины?

В качестве примера можно считать урочище Казаринское в 965, который произошёл захватом Ити-и (станица), Сарына, Кемурер. Также городом был от-

Члены жюри:



№5 09-15

направлен умышленный посыл на Волжскую Булгарию в 966. Очевидные походы хань и сарматы подвернулись но стали реверсией под князь, много правки пришлось за Булгарией. Видимо 2-х мейнотная оборона держала. Усталость и потеря заставила Святослава покинуть мир в 971 году.


2.1. Во время отлучения правителя на Руси произошло одно важное событие - падение печенегов на Киев в 969 году. Несмотря на отлучение, князь Олег в Булгарии, Киев усталось увидеть заставил двараря Олега (шань Святослава, князь (945-969), Емил для Киев заставили, но князь государство в томномо прекратило существование

3.1. Все походы можно считать закончить в 972, когда князь Олег ушел печенегам. Революция, именно гвардийская интервенция начала печенегов, тогда они ушли Святослава.

После Святослава остались Олег, <sup>после смерти</sup> там же была смерть маренца отлучились оставили мейнотна к Руси. Падение печенегов похвали, то не надо убивать похвалу, а ~~то~~ ~~были~~ ~~для~~ ~~влада~~ ~~не~~ ~~помимо~~ ~~Киеву~~ ~~Киево~~, ~~князь~~ ~~Афанасий~~, ~~то~~ ~~для~~ ~~существо~~ ~~Святослава~~ привело в разрыве и усидеже там же его смерть была Булгария Византии, план князь ~~такой~~ князь навозвал угрозу маренца на Константинополь. Все эти события привели и усидеже между Яранском, Восток Владимиром, Олегом то ~~то~~ ~~помимо~~ началось усидеже после алергии князь ит мейнотна князь.

k1-5 k2-5, k3-5, k4-5

Желаем удачи!

Члены жюри:  , \_\_\_\_\_ , \_\_\_\_\_

## БЛАНК ЗАДАНИЙ

муниципального этапа всероссийской олимпиады школьников  
по ИСТОРИИ

2021/2022 учебный год

9 класс

5, 4, 3, 2, 8, 0, 0, 8, 8, 15 = 535.

Общее время выполнения работы – 150 минут.

Максимальное количество баллов – 100.

Задание 1. Выберите один правильный ответ. Ответы впишите в таблицу.

55

1.1. Какая из указанных мер относится к реформам Избранной Рады?

А) отмена местничества      Б) бессрочный сыск беглых крестьян

В) введение Юрьева дня      Г) отмена кормлений

1.2. Кто из ордынских правителей был современником Ивана Калиты?

А) Батый    Б) Ахмат    В) Тохтамыш    Г) Узбек

1.3. В каком древнерусском городе располагалось Ярославово дворище?

А) Ярославль    Б) Тверь    В) Великий Новгород    Г) Владимир

1.4. Кто из указанных правителей освободил дворян от обязательной службы?

А) Петр I    Б) Анна Иоанновна    В) Елизавета Петровна     Екатерина II

1.5. Кому из указанных исторических деятелей посвящены данные строки А.С. Пушкина?

«Если мысленно перенесемся мы к 1791 году, если вспомним тогдашние политические обстоятельства, если представим себе силу нашего правительства, наши законы, не изменившиеся со времен Петра I, их строгость <...>; если подумаем: какие суровые люди окружали еще престол Екатерины, – то преступление [...] покажется нам действием сумасшедшего. Мелкий чиновник, человек безо всякой власти, безо всякой опоры, дерзает вооружиться противу общего порядка, противу самодержавия, противу Екатерины! И заметьте: заговорщик надеется на соединенные силы своих товарищей <...>»

А) Тадеуш Костюшко

Б) Александр Радищев

В) Михаил Сперанский

Г) Денис Фонвизин

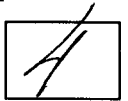
1.1.	1.2.	1.3.	1.4.	1.5.
Г 1	Г 1	В 1	Г 1	Б 1

Максимальное количество баллов – 5.

Члены жюри:



**Задание 2.** Выберите несколько правильных ответов. Ответы впишите в таблицу.



2.1. Какие из указанных событий относятся к эпохе Смутного времени в России?

- А) восстание Ивана Болотникова      Б) битва при Молодях      В) создание Совета Всея Земли  
Г) Стоглавый собор      Д) восстание Степана Разина      Е) оборона Смоленска

2.2. Выберите из списка современников:

- А) Борис Годунов      Б) Жанна Д'Арк      В) Уильям Шекспир  
Г) Исаак Ньютон      Д) Ричард I Львиное Сердце      Г) Франсуа-Мари Вольтер

2.3. Кто из указанных правителей инициировал принятие в России нового свода законов?

- А) Иван III Великий      Б) Алексей Михайлович      В) Борис Годунов      Г) Петр I      Д) Екатерина II


2.4. Какие из указанных категорий населения существовали в России во второй половине XVIII века?

- А) посессионные крестьяне      Б) холопы      В) закупы      Г) мещане      Д) почетные граждане



2.1.	2.2.	2.3.	2.4.
А, В, Е. 2	Б, Д, Г. 0	А, Б, Д. 1	В, Г, А. 1

Максимальное количество баллов – 8.

**Задание 3.** Укажите, по какому принципу образован ряд. Дайте



максимально точный ответ Ворота на территории Калининградской обл.



Члены жюри: , \_\_\_\_\_ , \_\_\_\_\_

Определите, какое из изображений лишнее? Укажите букву, которой обозначено это изображение, и объясните, почему оно является лишним.

Буква	Объяснение
В	Ворока не находится на территории Калининградской области

Впишите в таблицу названия архитектурных памятников, запечатленных на изображениях:

А	
Б	
В	
Г	
Д	

Максимальное количество баллов - 9

Задание 4. Установите соответствие между московскими князьями и территориями, которые были присоединены в годы их правления

	Князья		Территории
1	Даниил Александрович	А	Ярославль, Великий Новгород, Тверь
2	Дмитрий Донской	Б	Нижний Новгород, Муром, Вологда
3	Василий I	В	Коломна, Переславль-Залесский
4	Иван III	Г	Углич, Белоозеро, Кострома, Галич
5	Василий III	Д	Псков, Рязань, Смоленск

1	2	3	4	5
В 1	А 0	Г 0	Б 0	Д 1


Максимальное количество баллов - 5.

Задание №5. В 2021 году исполняется 300 лет победе России в Северной войне.

Ниже приведены исторические факты, относящиеся к трем важнейшим сражениям периода Северной войны. Заполните таблицу, указав порядковые номера соответствующих каждому сражению исторических фактов. Обратите внимание, что одно утверждение не относится ни к одному из сражений и является лишним.

- 1) В этом сражении принял личное участие король Швеции Карл XII.
- 2) Петр I лично не принимал участие в этом сражении.

Члены жюри:

 , \_\_\_\_\_ , \_\_\_\_\_

- 3) Это сражение Петр Великий назвал «Матерью Полтавской баталии».
- 4) А.С. Пушкин в 1828 году посвятил данному сражению поэму.
- 5) Для победы в этом сражении по приказу Петра I была построена переволока.
- 6) Это сражение являлось последним крупным сражением Северной войны.
- 7) Победа в этом сражении является днём воинской славы России, который отмечается 10 июля по новому стилю.
- 8) Для чествования победителей в этом сражении по приказу Петра Великого была сооружена Триумфальная арка с изображением орла, сидевшего на спине у слона.
- 9) После победы в этом сражении был восстановлен Северный союз.
- 10) Это сражение является генеральным сухопутным сражением Северной войны.

Полтавская битва	Гангутское сражение	Гренгамское сражение
✓✓ 1, 4, 5, 10, 8	✗	✓ 6, 8, 2

Укажите номер утверждения, которое является лишним, и назовите сражение Северной войны, к которому оно относится.

✓ 3	✓ Битва при Лесной
--------	-----------------------

Максимальное количество баллов - 11



**Задание №6.** Расположите в хронологической последовательности указанные события зарубежной истории. Внесите буквенные обозначения событий в приведенную таблицу.

- А) Захват турками Константинополя
- Б) Первый крестовый поход
- В) Варфоломеевская ночь во Франции
- Г) Образование герцогства Варшавского
- Д) Первый раздел Речи Посполитой
- Е) Вестфальский мир

Б	А	В	Д	Е	Г
---	---	---	---	---	---

Максимальное количество баллов - 6

Члены жюри:



петровские времена было положено начало собирания научных коллекций. В 1719 г. для всеобщего обозрения была открыта (5 – название учреждения), собрание «раритетов» которой послужило основой для коллекций будущих музеев [...].


В середине и во второй половине XVIII в. исторические знания превращаются в науку, и создается ряд крупных исторических трудов [...]. Во многом этому способствовала «История Российская» (4 части) Василия Никитича (6 – фамилия), где он довел изложение российской истории до конца XVI в. Во второй половине XVIII в. историей плодотворно занимался (7 – фамилия), который в противовес норманистским построениям Г. Миллера и З. Байера в своей «Древней Российской истории...» писал об автохтонном происхождении славян, южном славянском происхождении этнонима Русь. Огромную роль в организации научно-исследовательской работы сыграла княгиня (8 – фамилия), назначенная в 1783 г. директором Петербургской Академии наук.

Вторая половина XVIII в. отмечена большими успехами в развитии техники. Механик-самоучка Иван (9 – фамилия) [...] изобрел «зеркальный фонарь» – прототип прожектора, семафорный телеграф, лифт, новый часовой механизм и пролет одноарочного моста через (10 – название реки) длиной в 298 м. Иван (11 – фамилия) создал проект парового двигателя и в 1765 г. построил первую паросиловую установку для заводских нужд.

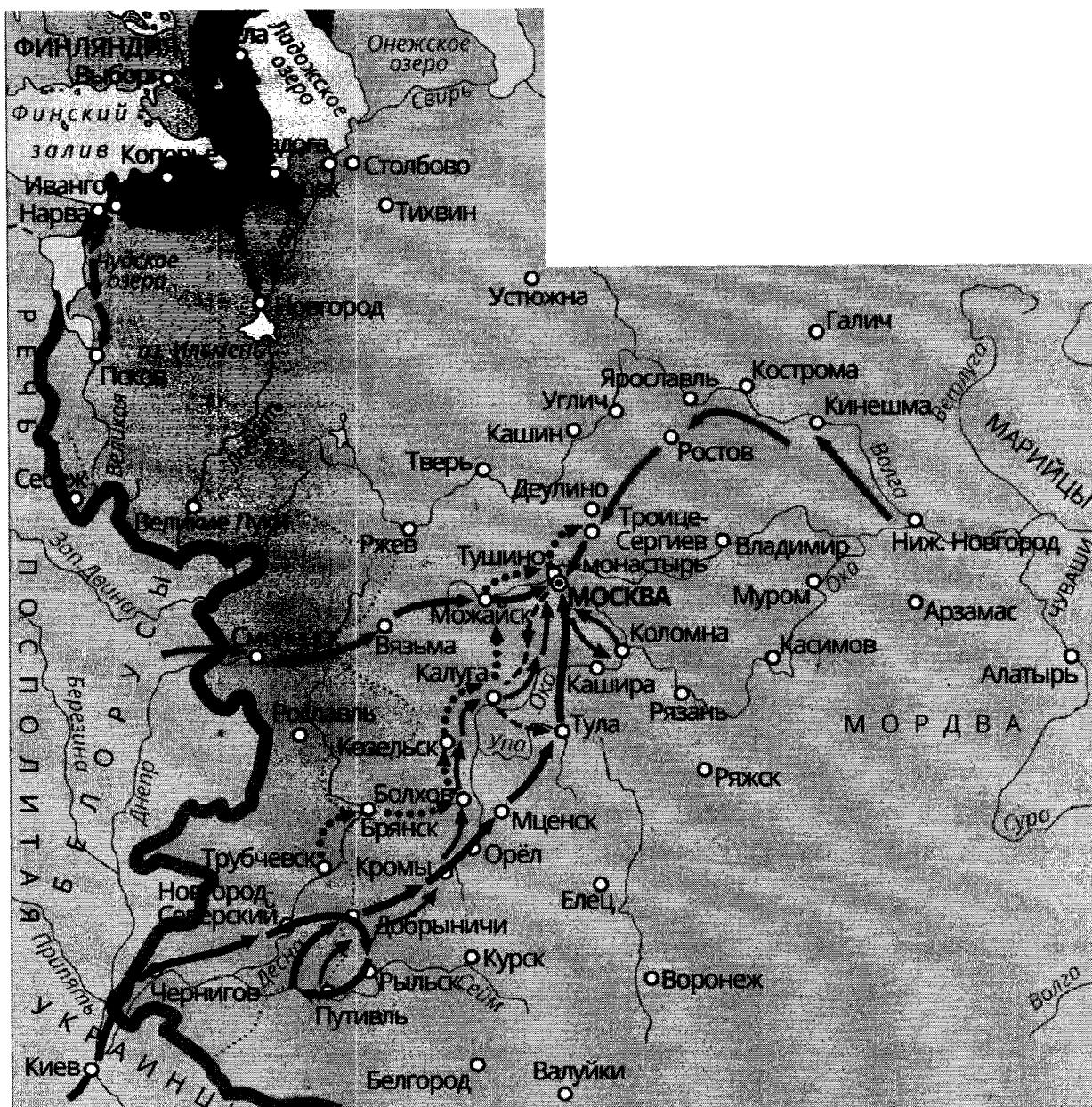
Первый русский профессиональный театр был создан царским указом в 1756 г. на базе театра, возникшего в (12 – город) в 1750 г. по инициативе купца Ф. Г. Волкова. Во второй половине XVIII в. была создана новая художественная литература с развитой системой жанров [...]. Известным литератором был Александр (13 – фамилия) (9 трагедий, в том числе «Хорев», «Дмитрий самозванец», и 12 комедий). В русской литературе второй половины XVIII в. начинает оформляться художественно-реалистическое направление. Здесь крупный след оставил (14 – фамилия) – автор комедий «Бригадир» и «Недоросль. (Зуев М.Н.)

1	Петр I	1	8	Дарья Дашкова	1
2	Академия искусств	0	9	Кушубин	1
3	Москва	1	10	Реву	1
4	ИТЭ СПбГУ	0	11	Кушубин	0
5	Кушубин	1	12	Москва	0
6	Карамзин	0	13		0
7	М.В. Ломоносов	1	14	Денис Яввишин	1

Максимальное количество баллов – 14.

Члены жюри:  , \_\_\_\_\_ , \_\_\_\_\_

**Задание №9.** Внимательно изучите карту-схему, характеризующую одно из важнейших событий истории России, и определите, какие из предложенных утверждений соответствуют действительности, а какие - нет. Ответы впишите в таблицу.



1. На карте-схеме изображен один из эпизодов феодальной войны в Московском государстве второй трети XV века.
2. В событиях, которые изображены на карте-схеме, показано участие армии Османской империи и Крымского ханства.
3. Во время событий, изображенных на данной карте-схеме, Ярославль выполнял роль «альтернативной столицы» России.

Члены жюри:



4. По результатам событий, изображенных на карте-схеме, Россия заключила Плюсское перемирие и Ям-Запольской мирный договор.
5. В ходе указанных событий Москва несколько раз подвергалась осаде как русскими, так и иностранными войсками;
6. На карте-схеме изображен ход одного из крупнейших народных выступлений в истории России с участием крестьян, холопов, казаков и дворянства;
7. В ходе указанных событий в состав России вошла Левобережная Украина;
8. Начало событий, изображенных на карте схеме, пришлось на годы правления Бориса Годунова.

Верно	Неверно
VVV 5, 6, 8.	VV VV 1, 2, 3, 7, 4.

Укажите, какое историческое событие изображено на карте-схеме

Сигута.



Максимальное количество баллов – 9.



**Задание 10.** Вам предстоит работать с высказываниями историков и современников о событиях и деятелях отечественной истории. Выберите из них одно, которое станет темой Вашего сочинения-эссе. Ваша задача – сформулировать собственное отношение к данному утверждению и обосновать его аргументами, представляющимися Вам наиболее существенными

При выборе темы исходите из того, что Вы:

1. Ясно понимаете смысл высказывания (не обязательно полностью или даже частично быть согласным с автором, но необходимо понимать, что именно он утверждает).
2. Можете выразить свое отношение к высказыванию (аргументировано согласиться с автором либо полностью или частично опровергнуть его высказывание).
3. Располагаете конкретными знаниями (факты, статистические данные, примеры) по данной теме.
4. Владеете терминами, необходимыми для грамотного изложения своей точки зрения.

При написании работы постарайтесь исходить из того, что Жюри, оценивая Ваше эссе, будет руководствоваться следующими критериями:

1. Обоснованность выбора темы, постановка проблемы и формулировка трёх задач, которые ставит в своей работе участник.
2. Творческий характер восприятия темы, ее осмысления.
3. Грамотность использования исторических фактов и терминов.

Члены жюри:

, \_\_\_\_\_ , \_\_\_\_\_

4. Четкость и доказательность основных положений работы.
5. Знание различных точек зрения по избранному вопросу.
6. Выводы (три вывода по поставленным задачам и обобщение по проблеме).

## Темы эссе

1. «Святослав представлен образцом воина и только воина, который с своею отборною дружиною покинул Русскую землю для подвигов отдаленных, славных для него и бесполезных для родной земли». (С.М. Соловьев)
2. «Несмотря на опустошения, произведенные монгольскими войсками, несмотря на все поборы баскаков, в период монгольского владычества было положено начало не только политическому возрождению России, но и дальнейшим успехам русской культуры. (В. Бартольд)
3. «Война была главным движущим рычагом преобразовательной деятельности Петра I, военная реформа - ее начальным моментом» (В.О. Ключевский)
4. «Екатерина II была истинною преемницею величия Петрова и второю образовательницею новой России. Главное дело сей незабвенной монархини состоит в том, что ею смягчилось самодержавие, не утратив силы своей» (Н.М. Карамзин)
5. «Нет ни одной отрасли государственного управления, которая не была бы преобразована, исправлена, дополнена в его царствование; многие части созданы им совершенно» (Н.И. Греч об Александре I)

Максимальное количество баллов - 25.

~~Война была главным движущим рычагом преобразовательной деятельности Петра I, военная реформа ее начальным моментом. Я согласен с высказыванием В.О. Ключевского. Реформаторство Петра I можно разделить на 2 плана: 1 - реформы, направленные на победу в Северной войне, 2 - укреплений~~

~~Я согласен с высказыванием В.О. Ключевского. Северная война началась в 1700 году, на тот момент Петр I управляет еще страной, которая была не готова к противостоению сильнейшей в Европе Швеции. Навсегда изменив дату отмены во это время. Поэтому первым делом Петр начал реформировать государственную организацию, направив на выживание и укрепление соответствующих реформ. Главным шагом была войска Северная война.~~

~~В. Екатерина II была истинною преемницею величия Петрова и второю образовательницею новой России. Главное дело сей незабвенной монархини состоит в том, что ею смягчилось самодержавие, не утратив своей силы.~~

Члены жюри: \_\_\_\_\_, \_\_\_\_\_, \_\_\_\_\_

Светослав - великий воин. Он не пролеви себе ни как транирный кнезь, ни как хороший отец. Всю свою жизнь он провел в битвах, он дама, граишь Волжскую Бугарию, замеч Харзский каганам и Болгарии. Даже после похорон он остался в Перемславице, живие шетной мерески сюда сташу.

Все его завоевания не принесли никакой пользы родной земле, во время осады Киева, обороняясь там, он и его мать Ольга. Похоронен в Перемславице, охраняем по всей восточной Европе и рошии до Византии. Императору не удалось был переждать войну. Историческая сестра виленин - батари константин колоне - болгария, была захвачена барбарамми, от которых не знаем что жрама. Искенно по этому Император кажет по-орной иу версии кажет кажет рле убийства Светослава. Искенно мерамговурность пошудина пледу.


Но с одной стороны, ~~вот тут~~ ~~узнала~~ о Руси. Завоевание Киевской Руси и Европа узнала о ~~тот~~ ~~моу~~ ~~российской~~ армии.

Я согласен с ~~востановлением~~ С. М. Соловьева. По-моему искинно Светославу нехватало познаний дипломатии, ее мониторинг и правли. Он стал бы хорошим воеводой, но как кнезь Светослав не пролеви себе ни как, оставив все обязанности на матери Ольге.

к2-5, к3-5. к4-5

Желаем удачи!

Члены жюри:



## БЛАНК ЗАДАНИЙ

муниципального этапа всероссийской олимпиады школьников  
по ИСТОРИИ

2021/2022 учебный год

9 класс

1, 2, 1, 3, 6, 0, 5, 2, 7, 6 = 335

Общее время выполнения работы – 150 минут.

Максимальное количество баллов – 100.

Задание 1. Выберите один правильный ответ. Ответы впишите в таблицу.

1.1. Какая из указанных мер относится к реформам Избранной Рады?

А) отмена местничества      Б) бессрочный сыск беглых крестьян

 В) введение Юрьева дня      Г) отмена кормлений

1.2. Кто из ордынских правителей был современником Ивана Калиты?

А) Батый      Б) Ахмат       В) Тохтамыш      Г) Узбек

1.3. В каком древнерусском городе располагалось Ярославово дворище?

 А) Ярославль      Б) Тверь      В) Великий Новгород      Г) Владимир

1.4. Кто из указанных правителей освободил дворян от обязательной службы?

А) Петр I      Б) Анна Иоанновна      В) Елизавета Петровна       Г) Екатерина II

1.5. Кому из указанных исторических деятелей посвящены данные строки А.С. Пушкина?

«Если мысленно перенесемся мы к 1791 году, если вспомним тогдашние политические обстоятельства, если представим себе силу нашего правительства, наши законы, не изменившиеся со времен Петра I, их строгость <...>; если подумаем: какие суровые люди окружали еще престол Екатерины, – то преступление [...] покажется нам действием сумасшедшего. Мелкий чиновник, человек безо всякой власти, безо всякой опоры, дерзает вооружиться противу общего порядка, противу самодержавия, противу Екатерины! И заметьте: заговорщик надеется на соединенные силы своих товарищей <...>»

 А) Гадеуш Костюшко

Б) Александр Радищев

В) Михаил Сперанский

Г) Денис Фонвизин

1.1.	1.2.	1.3.	1.4.	1.5.
0	0	0	1	0

Максимальное количество баллов – 5.

Члены жюри: \_\_\_\_\_, \_\_\_\_\_, \_\_\_\_\_

Определите, какое из изображений лишнее? Укажите букву, которой обозначено это изображение, и объясните, почему оно является лишним.

Буква	Объяснение

Впишите в таблицу названия архитектурных памятников, запечатленных на изображениях:

А	
Б	
В	Бранденбургские ворота 1
Г	
Д	Эриксенские ворота

Максимальное количество баллов - 9

Задание 4. Установите соответствие между московскими князьями и территориями, которые были присоединены в годы их правления

Ж

Князья	Территории
1 Даниил Александрович	А Ярославль, Великий Новгород, Тверь
2 Дмитрий Донской	Б Нижний Новгород, Муром, Вологда
3 Василий I	В Коломна, Переславль-Залесский
4 Иван III	Г Углич, Белоозеро, Кострома, Галич
5 Василий III	Д Псков, Рязань, Смоленск

1	2	3	4	5
В 1	Б	Г	А 1	Д 1

Максимальное количество баллов - 5.


65

Задание №5. В 2021 году исполняется 300 лет победе России в Северной войне.

Ниже приведены исторические факты, относящиеся к трем важнейшим сражениям периода Северной войны. Заполните таблицу, указав порядковые номера соответствующих каждому сражению исторических фактов. Обратите внимание, что одно утверждение не относится ни к одному из сражений и является лишним.

1) В этом сражении принял личное участие король Швеции Карл XII.

2) Петр I лично не принимал участие в этом сражении.

Члены жюри:  , \_\_\_\_\_ , \_\_\_\_\_

№8 - 09 - 06

- 3) Это сражение Петр Великий назвал «Матерью Полтавской баталии».
- 4) А.С. Пушкин в 1828 году посвятил данному сражению поэму.
- 5) Для победы в этом сражении по приказу Петра I была построена переволока.
- 6) Это сражение являлось последним крупным сражением Северной войны.
- 7) Победа в этом сражении является днём воинской славы России, который отмечается 10 июля по новому стилю.
- 8) Для чествования победителей в этом сражении по приказу Петра Великого была сооружена Триумфальная арка с изображением орла, сидевшего на спине у слона.
- 9) После победы в этом сражении был восстановлен Северный союз.
- 10) Это сражение является генеральным сухопутным сражением Северной войны.

Полтавская битва	Гангутское сражение	Гренгамское сражение
✓ 1, 4, 5, 7, 9, 10.	✓ 2	✓ 6, 8.

Укажите номер утверждения, которое является лишним, и назовите сражение Северной войны, к которому оно относится.

--	--

Максимальное количество баллов - 11



**Задание №6.** Расположите в хронологической последовательности указанные события зарубежной истории. Внесите буквенные обозначения событий в приведенную таблицу.

- А) Захват турками Константинополя
- Б) Первый крестовый поход
- В) Варфоломеевская ночь во Франции
- Г) Образование герцогства Варшавского
- Д) Первый раздел Речи Посполитой
- Е) Вестфальский мир

Б	А)	Е)	В)	Д)	Г.
---	----	----	----	----	----

Максимальное количество баллов - 6

Члены жюри:



**Задание 7.** Ознакомьтесь с фрагментом исторического документа и ответьте на предложенные вопросы.

«По божией воле и по нашему жалованью мы, великий государь Василий, божиего милостию царь и государь всея Руси и великий князь владимирский и проч., дали есьмы сию свою грамоту Альбрехту, немецкого чина высокому магистру прусскому, на то, что к нам прислал своих послов бить челом о том, чтобы нам его жаловать и беречь и на своего бы недруга, на короля польского и великого князя литовского. И мы пожаловали, во единачестве есьмы его с собою учинили и за него, и за его землю хотим стоять и оборонять его от своего недруга, от короля польского».


Вопросы	Ответы
Определите часть века, к которому относятся события, указанные в данном документе	16 1
Укажите имя и отчество (или порядковый номер), а также годы правления российского правителя, упомянутого в тексте	Василий Иванович (1505-1533) 1 1505-1533. 2
Укажите название государства, правителем которого был названный в тексте Альбрехт	Ливонский орден
Опираясь на знания по истории России, приведите исторический факт, подтверждающий, что в указанный период польский король и великий князь литовский был недругом, то есть противником Российского государства.	У России и Литвы была граница спорная территория - Смоленск 1

Максимальное количество баллов – 8.

**Задание №8.** Определите пропущенные в тексте слова или словосочетания, обозначенные порядковыми номерами. Необходимые вставки впишите под соответствующими номерами в помещённую ниже таблицу.

В XVIII в. в России начинает развиваться университетское образование. В 1724 г. (1 – имя монарха) был подписан указ о создании (2 – название учреждения). В ее структуре были предусмотрены гимназия и университет. В 1750-е годы М.В. Ломоносов сосредотачивает свои усилия на организации в (3 – город) университета, который должен был стать центром образования и науки. С [...] университетом связано создание в 1757 г. (4 – название учреждения), выросшей из художественных классов университетской гимназии. В

Члены жюри:



25

петровские времена было положено начало собирания научных коллекций. В 1719 г. для всеобщего обозрения была открыта (5 – название учреждения), собрание «раритетов» которой послужило основой для коллекций будущих музеев [...].

В середине и во второй половине XVIII в. исторические знания превращаются в науку, и создается ряд крупных исторических трудов [...]. Во многом этому способствовала «История Российская» (4 части) Василия Никитича (6 – фамилия), где он довел изложение российской истории до конца XVI в. Во второй половине XVIII в. историей плодотворно занимался (7 – фамилия), который в противовес норманистским построениям Г. Миллера и З. Байера в своей «Древней Российской истории...» писал об автохтонном происхождении славян, южном славянском происхождении этнонима Русь. Огромную роль в организации научно-исследовательской работы сыграла княгиня (8 – фамилия), назначенная в 1783 г. директором Петербургской Академии наук.

Вторая половина XVIII в. отмечена большими успехами в развитии техники. Механик-самоучка Иван (9 – фамилия) [...] изобрел «зеркальный фонарь» – прототип прожектора, семафорный телеграф, лифт, новый часовой механизм и пролет одноарочного моста через (10 – название реки) длиной в 298 м. Иван (11 – фамилия) создал проект парового двигателя и в 1765 г. построил первую паросиловую установку для заводских нужд.

Первый русский профессиональный театр был создан царским указом в 1756 г. на базе театра, возникшего в (12 – город) в 1750 г. по инициативе купца Ф. Г. Волкова. Во второй половине XVIII в. была создана новая художественная литература с развитой системой жанров [...]. Известным литератором был Александр (13 – фамилия) (9 трагедий, в том числе «Хорев», «Дмитрий самозванец», и 12 комедий). В русской литературе второй половины XVIII в. начинает оформляться художественно-реалистическое направление. Здесь крупный след оставил (14 – фамилия) – автор комедий «Бригадир» и «Недоросль. (Зуев М.Н.)

1	Тема 1	1	8
2	Рос. архитектура	1	9
3	Рос. архитектура	1	10
4	Рос. архитектура	1	11
5			12
6			13
7			14

Максимальное количество баллов – 14.

Члены жюри: \_\_\_\_\_, \_\_\_\_\_, \_\_\_\_\_



4. Четкость и доказательность основных положений работы.
5. Знание различных точек зрения по избранному вопросу.
6. Выводы (три вывода по поставленным задачам и обобщение по проблеме).

## Темы эссе

1. «Святослав представлен образом воина и только воина, который с своею отборною дружиною покинул Русскую землю для подвигов отдаленных, славных для него и бесполезных для родной земли». (С.М. Соловьев)
2. «Несмотря на опустошения, произведенные монгольскими войсками, несмотря на все поборы баскаков, в период монгольского владычества было положено начало не только политическому возрождению России, но и дальнейшим успехам русской культуры. (В. Бартольд)
3. «Война была главным движущим рычагом преобразовательной деятельности Петра I, военная реформа - ее начальным моментом» (В.О. Ключевский)
4. «Екатерина II была истинною преемницею величия Петрова и второю образовательницею новой России. Главное дело сей незабвенной монархини состоит в том, что ею смягчилось самодержавие, не утратив силы своей» (Н.М. Карамзин)
5. «Нет ни одной отрасли государственного управления, которая не была бы преобразована, исправлена, дополнена в его царствование; многие части созданы им совершенно» (Н.И. Греч об Александре I)

Максимальное количество баллов - 25.

Начавшаяся в 1700 году Северная война затронула почти все европейские страны. В войне участвовали также страны южной России: Крым, Молдавия, Османская и даже Англия. Эта война сильно изменила Россию - из отсталой от европейских стран она стала крупнейшей и сильнейшей державой мира, подняла моральный Северный полюс. Петр I провел в значительной мере реформы, в ходе которых длился процесс преобразования по европейскому образцу. Страны существовали с помощью Петра IV, предельно существовать. Также мы видим, что шведы привнесли новые европейские нравы, мораль и др. Своеобразные традиции установили. Тридцать

Члены жюри:

*(Handwritten signature)*


[Empty box for code/number]

миров переводы не означают.  
 Дать 1-ый перевод известия на  
 коллегий срок 1-го часа шведский  
 переводчик известия в 1-ый том  
 № 5 в сокращенном виде того же  
 содержания в 1-ом томе в  
 том же 1-ом томе в 1-ом томе  
 поименовать что-то в 1-ом томе со  
 шведским.

Второй перевод в 1-ом томе по-  
 следний в 1-ом томе в 1-ом томе - в  
 1-ом томе в 1-ом томе в 1-ом томе, снос-  
 кой переводить шведский. Если бы  
 Дать 1-ый перевод шведский и по ско-  
 рости всего шведский переводчик  
 1-ый п. в. в 1-ом томе в 1-ом томе  
 в 1-ом томе в 1-ом томе в 1-ом томе  
 и в 1-ом томе в 1-ом томе в 1-ом томе  
 в 1-ом томе в 1-ом томе в 1-ом томе

K1-0, K2-5, K3-0, K4-0, K5-0, K6-1

Желаем удачи!

Члены жюри:  , \_\_\_\_\_ , \_\_\_\_\_

**БЛАНК ЗАДАНИЙ**  
**муниципального этапа всероссийской олимпиады школьников**  
**по ИСТОРИИ**

2021/2022 учебный год

9 класс

*3, 6, 5, 3, 6, 0, 1, 7, 2, 0 = 335*

Общее время выполнения работы – 150 минут.

Максимальное количество баллов – 100.

**Задание 1.** Выберите один правильный ответ. Ответы впишите в таблицу.

35

1.1. Какая из указанных мер относится к реформам Избранной Рады?

А) отмена местничества      Б) бессрочный сыск белых крестьян

В) введение Юрьева дня      Г) отмена кормлений

1.2. Кто из ордынских правителей был современником Ивана Калиты?

А) Батый      Б) Ахмат      В) Тохтамыш      Г) Узбек

1.3. В каком древнерусском городе располагалось Ярославово дворище?

А) Ярославль      Б) Тверь      В) Великий Новгород      Г) Владимир

1.4. Кто из указанных правителей освободил дворян от обязательной службы?

А) Петр I      Б) Анна Иоанновна      В) Елизавета Петровна      Г) Екатерина II

1.5. Кому из указанных исторических деятелей посвящены данные строки А.С. Пушкина?

«Если мысленно перенесемся мы к 1791 году, если вспомним тогдашние политические обстоятельства, если представим себе силу нашего правительства, наши законы, не изменившиеся со времен Петра I, их строгость <...>; если подумаем: какие суровые люди окружали еще престол Екатерины, — то преступление [...] покажется нам действием сумасшедшего. Мелкий чиновник, человек безо всякой власти, безо всякой опоры, дерзает вооружиться противу общего порядка, противу самодержавия, противу Екатерины! И заметьте: заговорщик надеется на соединенные силы своих товарищей <...>»

А) Гадеуш Костюшко

Б) Александр Радищев

В) Михаил Сперанский

Г) Денис Фонвизин

1.1.	1.2.	1.3.	1.4.	1.5.
Б	В	В 1	Г 1	Б 1

Максимальное количество баллов – 5.

Члены жюри:

*[Подпись]*

[ ]

Задание 2. Выберите несколько правильных ответов. Ответы впишите в таблицу.

65

2.1. Какие из указанных событий относятся к эпохе Смутного времени в России?

- А) восстание Ивана Болотникова    Б) битва при Молодях    В) создание Совета Всея Земли  
 Г) Стоглавый собор    Д) восстание Степана Разина    Е) оборона Смоленска

2.2. Выберите из списка современников:

- А) Борис Годунов    Б) Жанна Д'Арк    В) Уильям Шекспир  
 Г) Исаак Ньютон    Д) Ричард I Львиное Сердце    Е) Франсуа-Мари Вольтер

2.3. Кто из указанных правителей инициировал принятие в России нового свода законов?

- А) Иван III Великий    Б) Алексей Михайлович    В) Борис Годунов    Г) Петр I    Д) Екатерина II

2.4. Какие из указанных категорий населения существовали в России во второй половине XVIII века?


- А) помещичьи крестьяне    Б) холопы    В) закупы    Г) мещане    Д) почетные граждане

2.1.	2.2.	2.3.	2.4.
АГ 1	Б, В 1	АБ 2	АГ 2

Максимальное количество баллов – 8.

Задание 3. Укажите, по какому принципу образован ряд. Дайте максимально точный ответ Городские ворота Кенигсберга

55



Члены жюри:

[Signature]

Определите, какое из изображений лишнее? Укажите букву, которой обозначено это изображение, и объясните, почему оно является лишним.

Буква	Объяснение
Б <del>А</del> <del>В</del>	Не является воротами 1

Впишите в таблицу названия архитектурных памятников, запечатленных на изображениях:

А	Фридрихские ворота 1
Б	Башия Врангеля
В	Фридрихсбургские ворота
Г	Захаймские ворота 1
Д	Королевские ворота

Максимальное количество баллов - 9

Задание 4. Установите соответствие между московскими князьями и территориями, которые были присоединены в годы их правления.

	Князья		Территории
<input checked="" type="checkbox"/>	Даниил Александрович	<input checked="" type="checkbox"/>	Ярославль, Великий Новгород, Тверь
<input checked="" type="checkbox"/>	Дмитрий Донской	<input checked="" type="checkbox"/>	Пижний Новгород, Муром, Вологда
<input checked="" type="checkbox"/>	Василий I	<input checked="" type="checkbox"/>	Коломна, Переславль-Залесский
<input checked="" type="checkbox"/>	Иван III	<input checked="" type="checkbox"/>	Углич, Белоозеро, Кострома, Галич
<input checked="" type="checkbox"/>	Василий III	<input checked="" type="checkbox"/>	Псков, Рязань, Смоленск

1	2	3	4	5
В 1	Г 1	А 0	Б 0	Д 1

Максимальное количество баллов - 5.


Задание №5. В 2021 году исполняется 300 лет победе России в Северной войне.

Ниже приведены исторические факты, относящиеся к трем важнейшим сражениям периода Северной войны. Заполните таблицу, указав порядковые номера соответствующих каждому сражению исторических фактов. Обратите внимание, что одно утверждение не относится ни к одному из сражений и является лишним.

В этом сражении принял личное участие король Швеции Карл XII.

Петр I лично не принимал участие в этом сражении.

Члены жюри




- Это сражение Петр Великий назвал «Матерью Полтавской баталии».
- А.С. Пушкин в 1828 году посвятил данному сражению поэму.
- Для победы в этом сражении по приказу Петра I была построена перелома.
- Это сражение являлось последним крупным сражением Северной войны.
- Победа в этом сражении является днём воинской славы России, который отмечается 10 июля по новому стилю.
- Для чествования победителей в этом сражении по приказу Петра Великого была сооружена Триумфальная арка с изображением орла, сидевшего на спине у слона.
- После победы в этом сражении был восстановлен Северный союз.
- Это сражение является генеральным сухопутным сражением Северной войны.

Полтавская битва	Гангутское сражение	Гренгамское сражение
4 6 7 10	2 8 9	1 5

Укажите номер утверждения, которое является лишним, и назовите сражение Северной войны, к которому оно относится.

3 ✓ Битва при деревне Лесной ✓

Максимальное количество баллов - 11



**Задание №6.** Расположите в хронологической последовательности указанные события зарубежной истории. Внесите буквенные обозначения событий в приведенную таблицу.

- А) Захват турками Константинополя
- Б) Первый крестовый поход
- В) Варфоломеевская ночь во Франции
- Г) Образование герцогства Варшавского
- Д) Первый раздел Речи Посполитой
- Е) Вестфальский мир

А	Б	Г	В	Е	Д
---	---	---	---	---	---

Максимальное количество баллов - 6

Члены жюри:



**Задание 7.** Ознакомьтесь с фрагментом исторического документа и ответьте на предложенные вопросы.

«По божией воле и по нашему жалованью мы, великий государь Василий, божиего милостию царь и государь всея Руси и великий князь владимирский и проч., дали есьмы свою свою грамоту Альбрехту, немецкого чина высокому магистру прусскому, на то, что к нам прислал своих послов бить челом о том, чтобы нам его жаловать и беречь и на своего бы недруга, на короля польского и великого князя литовского. И мы пожаловали, во единогласии есьмы его с собою учинили и за него, и за его землю хотим стоять и оборонять его от своего недруга, от короля польского».

Вопросы	Ответы
Определите часть века, к которому относятся события, указанные в данном документе	XIV век 0
Укажите имя и отчество (или порядковый номер), а также годы правления российского правителя, упомянутого в тексте	Василий III 15
Укажите название государства, правителем которого был названный в тексте Альбрехт	Восточная Пруссия 0
Опираясь на знания по истории России, приведите исторический факт, подтверждающий, что в указанный период польский король и великий князь литовский был недругом, то есть противником Российского государства.	05 15

**Максимальное количество баллов – 8.**

15

**Задание №8.** Определите пропущенные в тексте слова или словосочетания, обозначенные порядковыми номерами. Необходимые вставки впишите под соответствующими номерами в помещённую ниже таблицу.

В XVIII в. в России начинает развиваться университетское образование. В 1724 г. (1 – ~~Екатерина~~ <sup>Петром I</sup> имя монарха) был подписан указ о создании (2 – <sup>Академия наук</sup> название учреждения). В ее структуре были предусмотрены гимназия и университет. В 1750-е годы М.В. Ломоносов сосредотачивает свои усилия на организации в (3 – <sup>Москве</sup> город) университета, который должен был стать центром образования и науки. С [...] университетом связано создание в 1757 г. (4 – <sup>Академии художеств</sup> название учреждения), выросшей из художественных классов университетской гимназии. В

Члены жюри:



петровские времена было положено начало собирания научных коллекций. В 1719 г. для всеобщего обозрения была открыта (5 – <sup>Кунсткамера</sup> название учреждения), собрание «раритетов» которой послужило основой для коллекций будущих музеев [...].

В середине и во второй половине XVIII в. исторические знания превращаются в науку, и создается ряд крупных исторических трудов [...]. Во многом этому способствовала «История Российская» (4 части) Василия Никитича (6 – фамилия), где он довел изложение российской истории до конца XVI в. Во второй половине XVIII в. историей плодотворно занимался (7 – фамилия), который в противовес норманистским построениям Г. Миллера и З. Байера в своей «Древней Российской истории...» писал об автохтонном происхождении славян, южном славянском происхождении этнонима Русь. Огромную роль в организации научно-исследовательской работы сыграла княгиня (8 – фамилия) <sup>Воронцова - Дашкова</sup>, назначенная в 1783 г. директором Петербургской Академии наук.

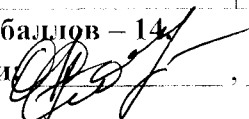
Вторая половина XVIII в. отмечена большими успехами в развитии техники. Механик-самоучка Иван (9 – фамилия) <sup>НИКИТИН</sup> [...] изобрел «зеркальный фонарь» – прототип прожектора, semaфорный телеграф, лифт, новый часовой механизм и пролет одноарочного моста через (10 – название реки) <sup>Волгу</sup> длиной в 298 м. Иван (11 – фамилия) <sup>Моторин</sup> создал проект парового двигателя и в 1765 г. построил первую паросиловую установку для заводских нужд.

Первый русский профессиональный театр был создан царским указом в 1756 г. на базе театра, возникшего в (12 – город) <sup>СПб</sup> в 1750 г. по инициативе купца Ф. Г. Волкова. Во второй половине XVIII в. была создана новая художественная литература с развитой системой жанров [...]. Известным литератором был Александр (13 – фамилия) (9 трагедий, в том числе «Хорев», «Дмитрий самозванец», и 12 комедий). В русской литературе второй половины XVIII в. начинает оформляться художественно-реалистическое направление. Здесь крупный след оставил (14 – фамилия) <sup>Фонвизин</sup> – автор комедий «Бригадир» и «Недоросль. (Зуев М.И.)

1	Театром I	1	8	Дашкова Воронцова-Дашкова	1
2	Академия наук	1	9	НИКИТИН	0
3	Москва	1	10	Волгу	0
4	Академия художеств	1	11	Моторин	0
5	Кунсткамера	1	12	Санкт-Петербург	0
6			13		
7			14	Фонвизин	1

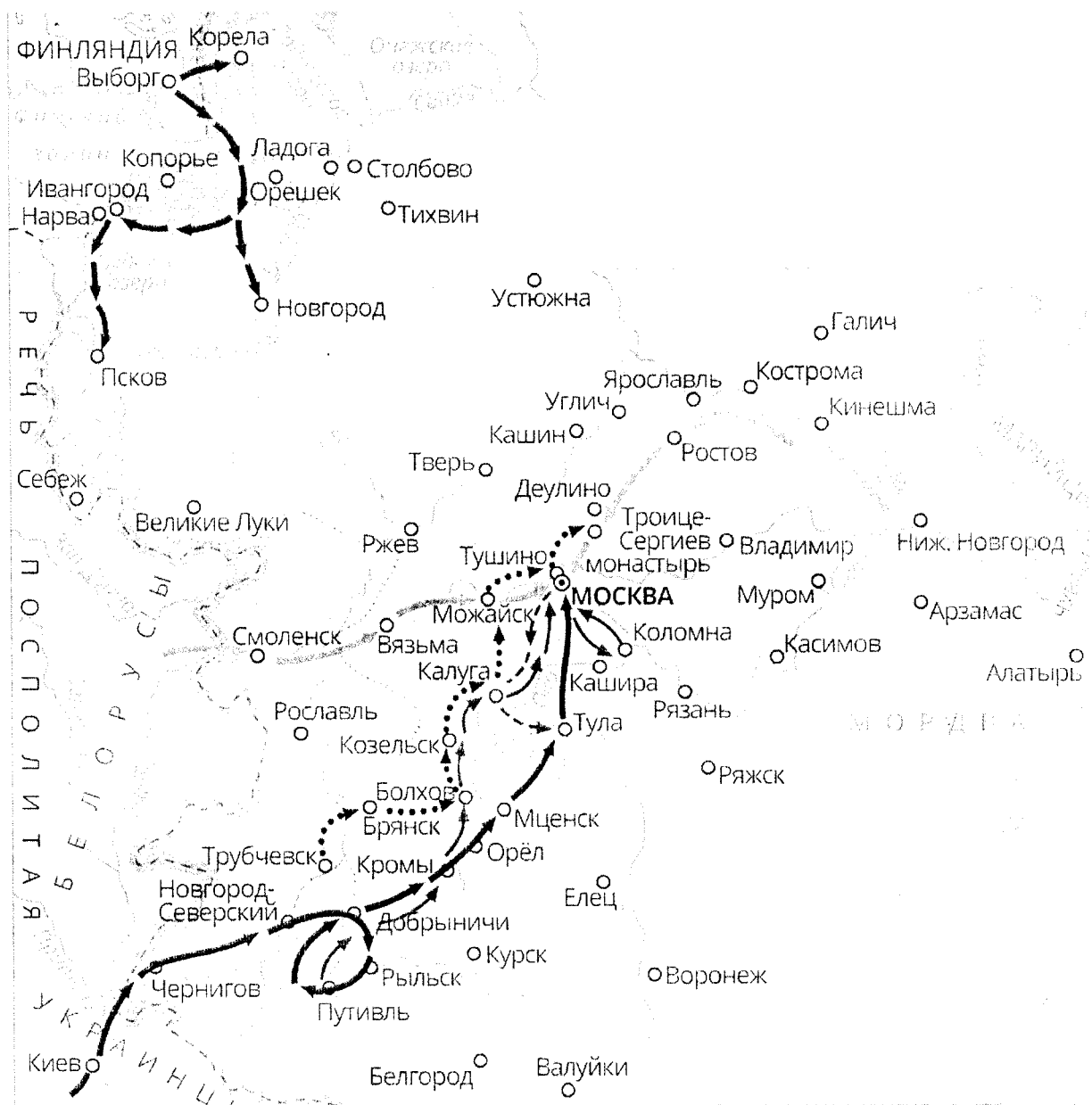
Максимальное количество баллов – 14

Члены жюри





**Задание №9.** Внимательно изучите карту-схему, характеризующую одно из важнейших событий истории России, и определите, какие из предложенных утверждений соответствуют действительности, а какие - нет. Ответы впишите в таблицу.



- 1. На карте-схеме изображен один из эпизодов феодальной войны в Московском государстве второй трети XV века.
- +2. В событиях, которые изображены на карте-схеме, показано участие армии Османской империи и Крымского ханства.
- 3. Во время событий, изображенных на данной карте-схеме, Ярославль выполнял роль «альтернативной столицы» России.


Члены жюри:

- А. 4. По результатам событий, изображенных на карте-схеме, Россия заключила Плюсское перемирие и Ям-Запольской мирный договор.
- + 5. В ходе указанных событий Москва несколько раз подвергалась осаде как русскими, так и иностранными войсками;
- 6. На карте-схеме изображен ход одного из крупнейших народных выступлений в истории России с участием крестьян, холопов, казаков и дворянства;
- + 7. В ходе указанных событий в состав России вошла Левобережная Украина;
- 8. Начало событий, изображенных на карте-схеме, пришлось на годы правления Бориса Годунова.

Верно	Неверно
✓ 2457	✓ 13168

Укажите, какое историческое событие изображено на карте-схеме

Максимальное количество баллов – 9.



**Задание 10.** Вам предстоит работать с высказываниями историков и современников о событиях и деятелях отечественной истории. Выберите из них одно, которое станет темой Вашего сочинения-эссе. Ваша задача – сформулировать собственное отношение к данному утверждению и обосновать его аргументами, представляющимися Вам наиболее существенными

При выборе темы исходите из того, что Вы:

1. Ясно понимаете смысл высказывания (не обязательно полностью или даже частично быть согласным с автором, но необходимо понимать, что именно он утверждает).
2. Можете выразить свое отношение к высказыванию (аргументировано согласиться с автором либо полностью или частично опровергнуть его высказывание).
3. Располагаете конкретными знаниями (факты, статистические данные, примеры) по данной теме.
4. Владете терминами, необходимыми для грамотного изложения своей точки зрения.

При написании работы постарайтесь исходить из того, что **Жюри**, оценивая Ваше эссе, будет руководствоваться следующими критериями:

1. Обоснованность выбора темы, постановка **проблемы** и формулировка **трёх задач**, которые ставит в своей работе участник.
2. Творческий характер восприятия темы, ее осмысления.
3. Грамотность использования исторических фактов и терминов.

Члены жюри:

4. Четкость и доказательность основных положений работы.
5. Знание различных точек зрения по избранному вопросу.
6. Выводы (три вывода по поставленным задачам и обобщение по проблеме).

#### Темы эссе

1. «Святослав представлен образцом воина и только воина, который с своею отборною дружиною покинул Русскую землю для подвигов отдаленных, славных для него и бесполезных для родной земли». (С.М. Соловьев)
2. «Несмотря на опустошения, произведенные монгольскими войсками, несмотря на все поборы баскаков, в период монгольского владычества было положено начало не только политическому возрождению России, но и дальнейшим успехам русской культуры. (В. Бартольд)
3. «Война была главным движущим рычагом преобразовательной деятельности Петра I, военная реформа - ее начальным моментом» (В.О. Ключевский)
4. «Екатерина II была истинною преемницею величия Петрова и второю образовательницею новой России. Главное дело сей незабвенной монархини состоит в том, что ею смягчилось самодержавие, не утратив силы своей» (И.М. Карамзин)
5. «Нет ни одной отрасли государственного управления, которая не была бы преобразована, исправлена, дополнена в его царствование; многие части созданы им совершенно» (П.И. Греч об Александре I)

**Максимальное количество баллов – 25.**

Члены жюри

