

**ВСЕРОССИЙСКАЯ ОЛИМПИАДА ШКОЛЬНИКОВ
МУНИЦИПАЛЬНЫЙ ЭТАП****ИСТОРИЯ****7 КЛАСС****50 баллов****Максимальное количество баллов – 100.****Общее время выполнения работы – 90 минут.**





25

Задание 1. Выберите один правильный ответ. Ответ внесите в таблицу.

1.1. Какое из указанных событий произошло в московском государстве в период правления сына Ивана III? А) присоединение новгородских земель Б) присоединение Рязани, Пскова и Смоленска В) строительство белокаменного Кремля Г) Куликовская битва

1.2. Какое из указанных орудий труда выполняло ту же функцию в хозяйстве древнерусского крестьянина, что и соха? А) борона Б) рало В) серп Г) горбуша Д) цеп

1.3. Какой из указанных соборов был возведен по приказу князя Андрея Боголюбского во Владимире?



1.4. Из указанных лиц современниками не были:

А) Ричард I Львиное Сердце и Всеволод Большое Гнездо; Б) Марко Поло и Иван I Калита; В) Гуго Капет и Владимир Святой; Г) Карл Великий и Олег Вещий

1.5. Какое событие произошло 6 декабря 1240 года? А) Ледовое побоище Б) битва на реке Сить В) Битва на реке Калка Г) взятие Киева монголами

1.1.	1.2.	1.3.	1.4.	1.5.
а, б	в, г	а, б	а, б	в

Количество баллов – 10.

Задание 2. Выберите несколько правильных ответов. Ответы внесите в таблицу.

2.1. Какие из указанных древних народов относятся к славянам?

А) пруссы Б) поляки В) жмудь Г) авары Д) готы Е) бужане

2.2. Какие исторические деятели не являлись современниками событий феодальной войны в Московском государстве в годы правления Василия II Темного? А) Василий Косой Б) Софья Витовтовна В) Феофан Грек Г) Дмитрий Шемяка Д) Сергей Радонежский

2.3. Какие два князя, будучи братьями, сумели благодаря совместным действиям впервые получить для Московского княжества ханский ярлык на Великое Владимирское княжение.

А) Дмитрий Донской Б) Иван Калита В) Андрей Боголюбский Г) Всеволод Большое Гнездо Д) Юрий Данилович

2.4. Какие из указанных событий произошли с разницей в сто лет? А) падение Византийской империи Б) образование Священной Римской империи германской нации В) призвание Рюрика в Новгород Г) крещение Руси Д) первый крестовый поход

2.1.	2.2.	2.3.	2.4.
б, г, в	б, г, а	а, б	б, г, д

Количество баллов – 12.

Задание 3. Соотнесите произведения древнерусской литературы и века, к которым относятся описанные в указанных произведениях события.

	Произведения древнерусской литературы		Век
1	«Хожение за три моря» купца Афанасия Никитина	А	XI
2	«Повесть о разорении Рязани Батыем»	Б	XII
3	«Сказание о мамаевом побоище»	В	XIII
4	«Слово о полку Игореве»	Г	XIV

5	«Слово о законе и благодати» митрополита Иллариона	Д	XV
---	---	---	----

25

25

1	2	3	4	5
9	0X	2	a	6

Количество баллов – 10.

65 Задание 4. По какому принципу образован ряд. Дайте максимально точный ответ. Определите, какое из перечисленных понятий лишнее? Лишнее слово зачеркните.

45 4.1. златари, скорняки, ~~баскаки~~, толмачи, зодчие, бортники

По принципу: исключение в древней Руси.

4.2. битва при Креси, битва при Пуатье, битва при Азенкуре, осада Орлеана, битва при Гастингсе, осада Руана

4.3. ~~война с Хазарским каганатом~~, война с половцами, война с Болгарским царством, война с Византией, война с печенегами, война с Волжской Булгарией

По принципу: войны древней Руси


Количество баллов – 12.

65 Задание 5. Внимательно изучите предложенные изображения. Определите, какие события изображены на почтовых марках, укажите годы, когда они произошли, а также назовите одного исторического деятеля-участника каждого из указанных событий. Внесите ответы в таблицу.




„И бысть стѣна белѣнка...“

А)



Б)



В)



Г)

	Событие	Год	Участник
А	Невская битва или битва на реке Неве	1240	Александр Невский
Б	Завоевание московскими князьями литовского княжества	1410	Василий II темный
В	Куликовская битва Ставки на реке Таре	1480	Дмитрий Донской Иван III
Г	Ледовое побоище	1242	Александр Невский

Количество баллов - 12.

Задание 6. Определите пропущенные в тексте слова, обозначенные порядковыми номерами. Необходимые вставки впишите под соответствующими номерами в помещённую ниже таблицу.

Старший сын Василия II Васильевича Темного стал великим московским князем в (1 – год начала правления) году. Продолжив политику отца, (2 – имя и порядковый номер правителя) силой или дипломатическими соглашениями

подчинил себе княжества: Ярославское (1463), Ростовское (1474), (3 – название княжества) (1485), Вятскую землю (1489) и др. В 1471 совершил поход на (4 – название города) и ... одержал победу в последней феодальной войне на Руси. В 1480 ордынский хан (5 - имя хана) двинул огромное войско на Русь, желая вновь подчинить страну, не платившую дань с 1476 года. В это время Русь воевала ... с (6 – название) орденом. К тому же (5 – имя хана) заключил договор с польско-(7 - название части государства) королем Казимиром. Началось "Стояние на (8 – название места)". Победа князя означала конец монголо-татарского (9 – исторический термин) на Руси. Москва ... приобрела новый облик. Началось строительство нового Кремля, (10 - названия сооружения) палаты. В Москве появилось много иностранцев: ...греческие родственники племянницы византийского императора Софьи (11 – фамилия), на которой женился князь. Появился и первый законодательный кодекс Русского централизованного государства - (12 – название документа) 1497 года. (Шикман А.П.)

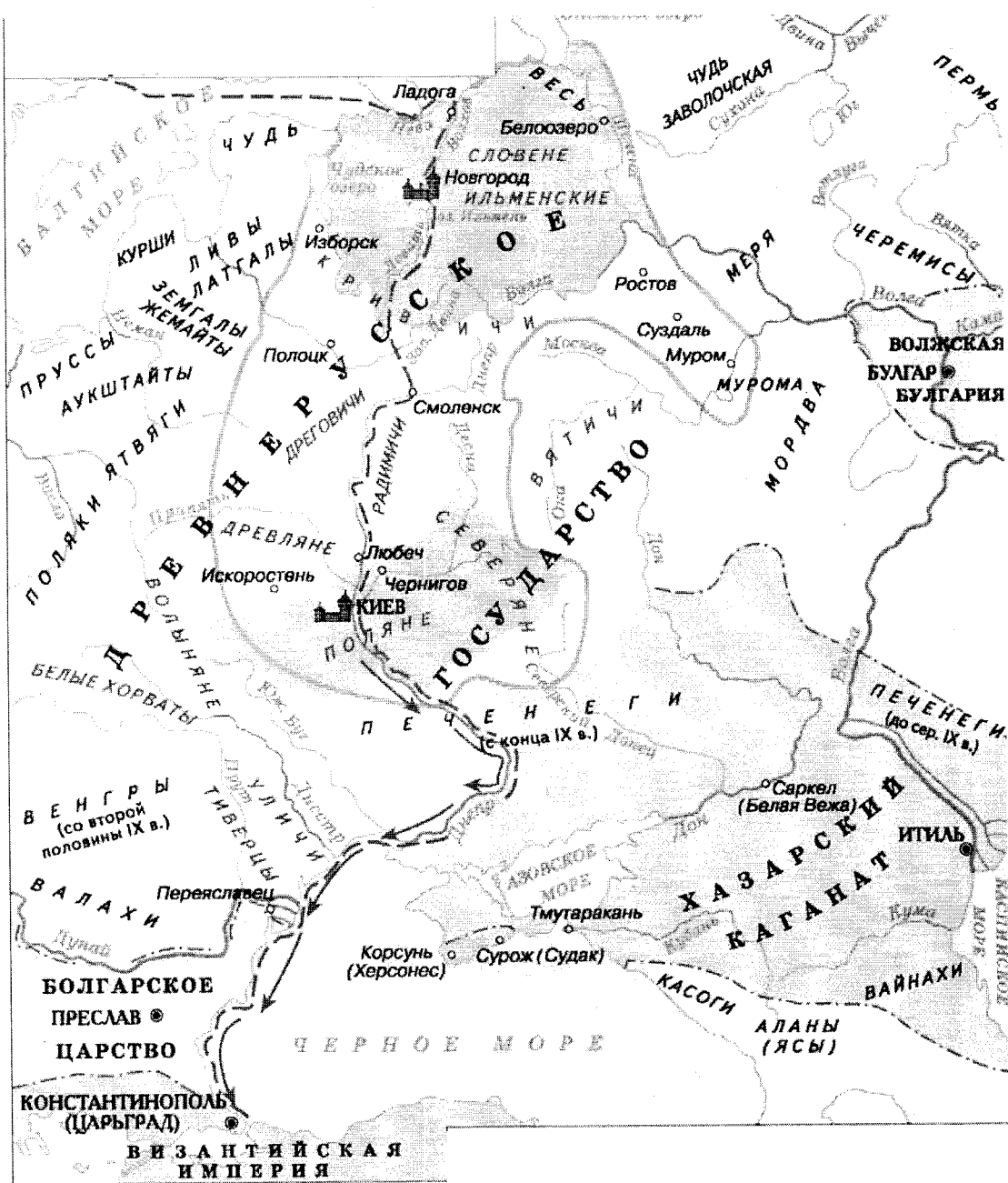
1	1	1461	7	Литовскими
1	2	Юрий Иван III	8	реки Грн
	3	Мамонское Рязанское	9	Вторжения владичества
	4	Псков	10	царской
	5	Мамай Тохтамыш	11	
	6	Псковскими	12	Русская Правда.

Количество баллов – 12.

58

Задание 7. Изучите предложенную карту-схему, после чего вставьте в текст пропущенные слова.

1. На схеме изображен период отечественной истории, который пришелся на конец 9 века – начало 10 века.
2. Правителем древнерусского государства в этот период был князь Владимир „Красное Солнышко“.
3. Столицей государства в этот период был город Киев.
4. Пунктиром на карте обозначены границы древней Руси.
5. Стрелками на карте обозначены походы древней Руси на Чары-град.
6. Приемником правящего в указанный период князя был князь Владимир Мономах.



Количество баллов – 9.

25

Задание 8. Перед Вами список событий, произошедших в периоды правления киевских князей Ярослава Мудрого и Владимира Мономаха. Запишите в таблицу порядковые номера соответствующих правлению каждого князя событий.

- 1) составление «Повести временных лет»;
- 2) основание города Юрьева;
- 3) составление «Поучения детям»;
- 4) составление «Устава о резах»;
- 5) разгром печенегов под Киевом;
- 6) закладка собора Святой Софии в Киеве;
- 7) основание Киево-Печерского монастыря;

Ярослав Мудрый	Владимир Мономах
21, 41, 61	11, 31, 51, 71

Количество баллов – 7.

75 Задание 9. Изучите представленные исторические термины. Впишите правильную букву (буквы) вместо пропусков (Количество точек, обозначающих пропуски, не равняется числу букв, которые следует вписать).

✓ 1	ка.?.анат	6	пе.?.енеги	✓
✓ 2	дру.?.ина	7	.?.олоп	✓
✓ 3	поса.?.ник	8	.?.уде.?.ник	
✓ 4	смер.?.ина	9	во.?.чина	✓
✓ 5	по.?.еся.?.е			

Количество баллов – 7.

95 Задание 10. Расположите в хронологической последовательности следующие события отечественной истории. Внесите буквенные обозначения событий в хронологическом порядке в приведенную таблицу.

А) Падение Константинополя под ударами турок-османов

Б) Образование Золотой Орды

В) Перенос резиденции митрополита русской православной церкви в Москву

Г) Поход Тохтамыша на Москву

Д) Первое летописное упоминание о Москве

Д+Г ✓	Г+Д ✓	А+Б ✓	В+А+З ✓	Б+А+З ✓
-------	-------	-------	---------	---------

Количество баллов – 9.

У. 07-09

Шифр

ВСЕРОССИЙСКАЯ ОЛИМПИАДА ШКОЛЬНИКОВ
МУНИЦИПАЛЬНЫЙ ЭТАП

ИСТОРИЯ

7 КЛАСС

Максимальное количество баллов – 100.

Общее время выполнения работы – 90 минут.


41 балл

Задание 1. Выберите один правильный ответ. Ответ внесите в таблицу.


1.1. Какое из указанных событий произошло в московском государстве в период правления сына Ивана III? А) присоединение новгородских земель Б) присоединение Рязани, Пскова и Смоленска В) строительство белокаменного Кремля Г) Куликовская битва

1.2. Какое из указанных орудий труда выполняло ту же функцию в хозяйстве древнерусского крестьянина, что и соха? А) борона Б) рало В) серп Г) горбуша Д) цеп


1.3. Какой из указанных соборов был возведен по приказу князя Андрея Боголюбского во Владимире?




А)



Б)



В)



Г)

1.4. Из указанных лиц современниками не были:

А) Ричард I Львиное Сердце и Всеволод Большое Гнездо; Б) Марко Поло и Иван I Калита; В) Гуго Капет и Владимир Святой; Г) Карл Великий и Олег Вещий

1.5. Какое событие произошло 6 декабря 1240 года? А) Ледовое побоище Б) битва на реке Сить В) Битва на реке Калка Г) взятие Киева монголами

1.1.	1.2.	1.3.	1.4.	1.5.
В	В	Б	Г	А

Количество баллов – 10.

Задание 2. Выберите несколько правильных ответов. Ответы внесите в таблицу.

2.1. Какие из указанных древних народов относятся к славянам?

А) пруссы Б) поляки В) жмудь Г) авары Д) готы Е) бужане

2.2. Какие исторические деятели не являлись современниками событий феодальной войны в Московском государстве в годы правления Василия II Темного? А) Василий Косой Б) Софья Витовтовна В) Феофан Грек Г) Дмитрий Шемяка Д) Сергей Радонежский

2.3. Какие два князя, будучи братьями, сумели благодаря совместным действиям впервые получить для Московского княжества ханский ярлык на Великое Владимирское княжение.

А) Дмитрий Донской Б) Иван Калита В) Андрей Боголюбский Г) Всеволод Большое Гнездо Д) Юрий Данилович

2.4. Какие из указанных событий произошли с разницей в сто лет? А) падение Византийской империи Б) образование Священной Римской империи германской нации В) призвание Рюрика в Новгород Г) крещение Руси Д) первый крестовый поход

2.1.	2.2.	2.3.	2.4.
А, Е	В	В, Г	А, В

Количество баллов – 12.

Задание 3. Соотнесите произведения древнерусской литературы и века, к которым относятся описанные в указанных произведениях события.

	Произведения древнерусской литературы		Век
1	«Хожение за три моря» купца Афанасия Никитина	А	XI
2	«Повесть о разорении Рязани Батыем»	Б	XII
3	«Сказание о мамаевом побоище»	В	XIII
4	«Слово о полку Игореве»	Г	XIV

5	«Слово о законе и благодати» митрополита Иллариона	Д	XV
---	---	---	----

1	2	3	4	5
б	в	г	а	г

Количество баллов – 10.

Задание 4. По какому принципу образован ряд. Дайте максимально точный ответ. Определите, какое из перечисленных понятий лишнее? Лишнее слово зачеркните.

4.1. златари, скорняки, ~~баскаки~~, толмачи, зодчие, бортники

4.2. битва при Креси, битва при Пуатье, битва при Азенкуре, ~~осада Орлеана~~, битва при Гастингсе, осада Руана ~~битвы при Гастингсе~~

4.3. война с Хазарским каганатом, война с половцами, война с Болгарским царством, ~~война с Византией~~, война с печенегами, война с Волжской Булгарией ~~война с Волжской Булгарией~~

Количество баллов – 12.

Задание 5. Внимательно изучите предложенные изображения. Определите, какие события изображены на почтовых марках, укажите годы, когда они произошли, а также назовите одного исторического деятеля-участника каждого из указанных событий. Внесите ответы в таблицу.

750 лет





„И БЫСТЬ СЪЧА ВЕЛИКА...“

А)



Б)

625



В)



Г)

	Событие	Год	Участник
А	Поход Олега на Византию		Князь Олег
Б	Война с Литвой	1488	Иван Грозный
В	Поход Олега на Византию		Князь Олег
Г	Борьба с Тюркскими орденами Крымская война	1480	Русь

Количество баллов - 12.

75

Задание 6. Определите пропущенные в тексте слова, обозначенные порядковыми номерами. Необходимые вставки впишите под соответствующими номерами в помещённую ниже таблицу.

Старший сын Василия II Васильевича Тёмного стал великим московским князем в (1 – год начала правления) году. Продолжив политику отца, (2 - имя и порядковый номер правителя) силой или дипломатическими соглашениями

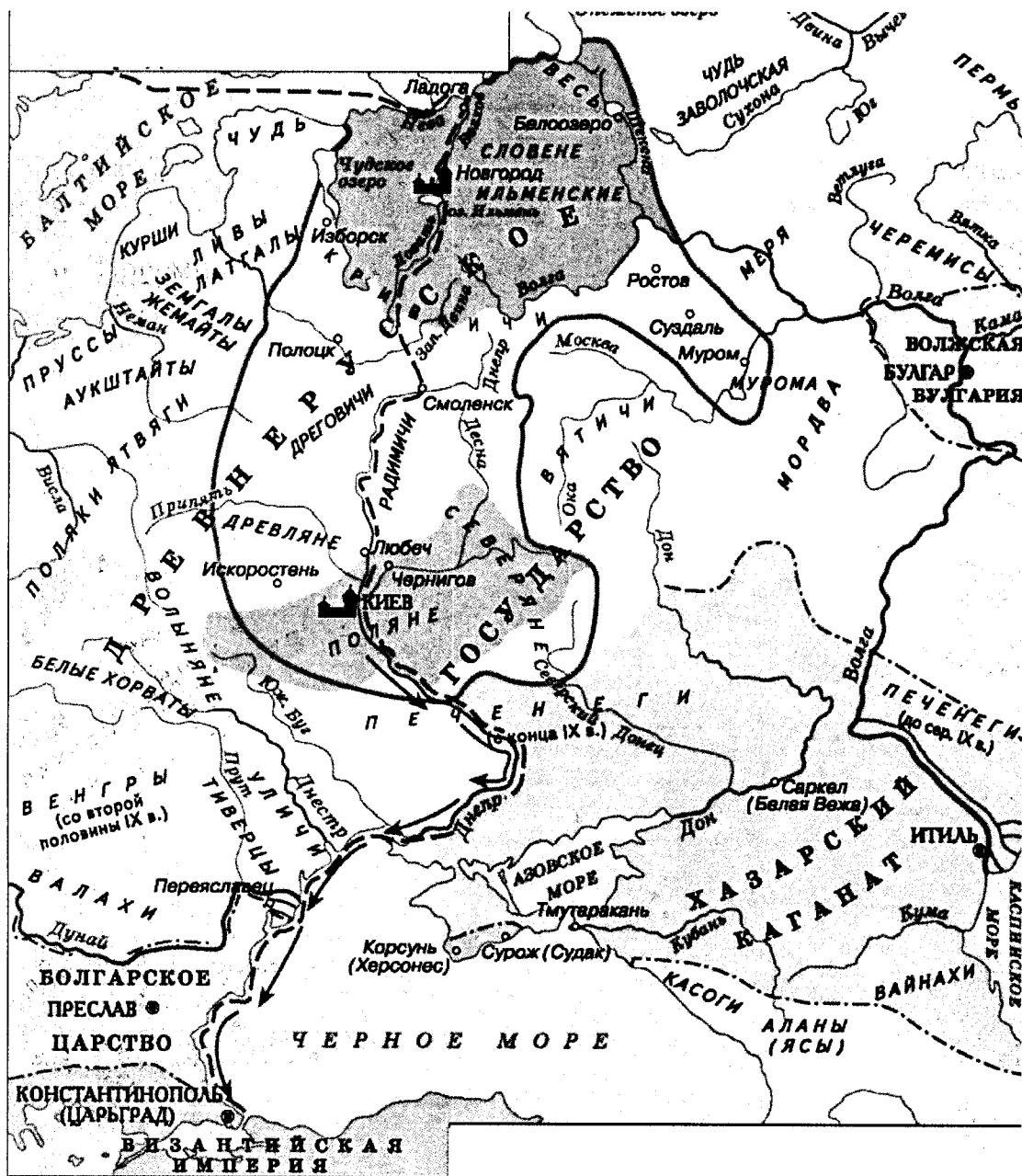
подчинил себе княжества: Ярославское (1463), Ростовское (1474), (3 – **название княжества**) (1485), Вятскую землю (1489) и др. В 1471 совершил поход на (4 – **название города**) и ... одержал победу в последней феодальной войне на Руси. В 1480 ордынский хан (5 – **имя хана**) двинул огромное войско на Русь, желая вновь подчинить страну, не платившую дань с 1476 года. В это время Русь воевала ... с (6 – **название**) орденом. К тому же (5 – **имя хана**) заключил договор с польско-(7 – **название части государства**) королем Казимиром. Началось "Стояние на (8 – **название места**)". Победа князя означала конец монголо-татарского (9 – **исторический термин**) на Руси. Москва ... приобрела новый облик. Началось строительство нового Кремля, (10 – **названия сооружения**) палаты. В Москве появилось много иностранцев: ...греческие родственники племянницы византийского императора Софьи (11 – **фамилия**), на которой женился князь. Появился и первый законодательный кодекс Русского централизованного государства - (12 – **название документа**) 1497 года. (Шикман А.П.)

1	1462	7	Литовский
2	Иван III	8	Угреша
3		9	МГД
4		10	Благовещенской
5	Батый	11	
6	тевтонский	12	Судебник

Количество баллов – 12.

Задание 7. Изучите предложенную карту-схему, после чего вставьте в текст пропущенные слова.

1. На схеме изображен период отечественной истории, который пришелся на конец 9 века – начало 10 века.
2. Правителем древнерусского государства в этот период был князь Олег.
3. Столицей государства в этот период был город Новгород Киев.
4. Пунктиром на карте обозначен торговый путь "из варяг в греки".
5. Стрелками на карте обозначен поход на Византию.
6. Приемником правящего в указанный период князя был князь _____.



Количество баллов – 9.

65

Задание 8. Перед Вами список событий, произошедших в периоды правления киевских князей Ярослава Мудрого и Владимира Мономаха. Запишите в таблицу порядковые номера соответствующих правлению каждого князя событий.

- 1) составление «Повести временных лет»;
- 2) основание города Юрьева;
- 3) составление «Поучения детям»;
- 4) составление «Устава о резах»;
- 5) разгром печенегов под Киевом;
- 6) закладка собора Святой Софии в Киеве;
- 7) основание Киево-Печерского монастыря;

Задание 8.

составление «Повести временных лет»;

основание города Юрьева;

составление «Поучения детям»;

составление «Устава о резах»;

разгром печенегов под Киевом;

85

35

Ярослав Мудрый	Владимир Мономах
2, 6, 7	1, 3, 4, 5

Количество баллов – 7.

75

Задание 9. Изучите представленные исторические термины. Впишите правильную букву (буквы) вместо пропусков (Количество точек, обозначающих пропуски, не равняется числу букв, которые следует вписать).

1	ка.р.анат	6	пе.Ч.енеги
2	дру.ш.ина	7	Х.олоп
3	поса.д.ник	8	К.уде.С.ник
4	смер.д.	9	во.Т.чина
5	по.М.ес.Т.ье		

Количество баллов – 7.

25

Задание 10. Расположите в хронологической последовательности следующие события отечественной истории. Внесите буквенные обозначения событий в хронологическом порядке в приведенную таблицу.

А) Падение Константинополя под ударами турок-османов

Б) Образование Золотой Орды

В) Перенос резиденции митрополита русской православной церкви в Москву

Г) Поход Тохтамыша на Москву

Д) Первое летописное упоминание о Москве

Д	А	Б	В	Г
---	---	---	---	---

Количество баллов – 9.

**ВСЕРОССИЙСКАЯ ОЛИМПИАДА ШКОЛЬНИКОВ
МУНИЦИПАЛЬНЫЙ ЭТАП**

**ИСТОРИЯ
7 КЛАСС**

Максимальное количество баллов – 100.

Общее время выполнения работы – 90 минут.

Задание 1. Выберите один правильный ответ. Ответ внесите в таблицу.

1.1. Какое из указанных событий произошло в московском государстве в период правления сына Ивана III? А) присоединение новгородских земель Б) присоединение Рязани, Пскова и Смоленска В) строительство белокаменного Кремля Г) Куликовская битва

1.2. Какое из указанных орудий труда выполняло ту же функцию в хозяйстве древнерусского крестьянина, что и соха? А) борона Б) рало В) серп Г) горбуша Д) цепь

1.3. Какой из указанных соборов был возведен по приказу князя Андрея Боголюбского во Владимире?

А)



Б)



В)



Г)



1.4. Из указанных лиц современниками не были:

А) Ричард I Львиное Сердце и Всеволод Большое Гнездо; Б) Марко Поло и Иван I Калита; В) Гуго Капет и Владимир Святой; Г) Карл Великий и Олег Вещий

1.5. Какое событие произошло 6 декабря 1240 года? А) Ледовое побоище Б) битва на реке Сить В) Битва на реке Калка Г) взятие Киева монголами

4

1.1.	1.2.	1.3.	1.4.	1.5.
2, Б +	А	А +	А, Б	А

Количество баллов – 10.

Задание 2. Выберите несколько правильных ответов. Ответы внесите в таблицу.

2.1. Какие из указанных древних народов относятся к славянам?

А) пруссы Б) поляки В) жмудь Г) авары Д) готы Е) бужане

2.2. Какие исторические деятели не являлись современниками событий феодальной войны в Московском государстве в годы правления Василия II Темного? А) Василий Косой Б) Софья Витовтовна В) Феофан Грек Г) Дмитрий Шемяка Д) Сергей Радонежский

2.3. Какие два князя, будучи братьями, сумели благодаря совместным действиям впервые получить для Московского княжества ханский ярлык на Великое Владимирское княжение.

А) Дмитрий Донской Б) Иван Калита В) Андрей Боголюбский Г) Всеволод Большое Гнездо Д) Юрий Данилович

2.4. Какие из указанных событий произошли с разницей в сто лет? А) падение Византийской империи Б) образование Священной Римской империи германской нации В) призвание Рюрика в Новгород Г) крещение Руси Д) первый крестовый поход

5

2.1.	2.2.	2.3.	2.4.
Б, Е + В	В	А, Б	Д

Количество баллов – 12.

Задание 3. Соотнесите произведения древнерусской литературы и века, к которым относятся описанные в указанных произведениях события.

	Произведения древнерусской литературы		Век
1	«Хождение за три моря» купца Афанасия Никитина	А	XI
2	«Повесть о разорении Рязани Батысом»	Б	XII
3	«Сказание о мамаевом побоище»	В	XIII

4	«Слово о полку Игореве»	Г	XIV
5	«Слово о законе и благодати» митрополита Иллариона	Д	XV

2	1	2	3	4	5
XIV	XIV	XIV	XV	XV	XIV

Количество баллов – 10.

Задание 4. По какому принципу образован ряд. Дайте максимально точный ответ. Определите, какое из перечисленных понятий лишнее? Лишнее слово зачеркните.

4.1. златари, скорняки, ~~баскаки~~, толмачи, ~~зодчие~~, бортники

римские легионы

4.2. битва при Креси, битва при Пуатье, битва при Азенкуре, осада Орлеана, ~~битва при Гастингсе~~, осада Руана Куликовская битва

4.3. война с Хазарским каганатом, война с половцами, ~~война с Болгарским царством~~, война с Византией, война с печенегами, война с Волжской Булгарией война с греками


Количество баллов – 12.

Задание 5. Внимательно изучите предложенные изображения. Определите, какие события изображены на почтовых марках, укажите годы, когда они произошли, а также назовите одного исторического деятеля-участника каждого из указанных событий. Внесите ответы в таблицу.



„И бысть сеча велика...“

А)



Б)

625



В)



Г)

	Событие	Год	Участник
А	невекая битва 2	1240г	Александр Н
Б			
В	Куликовская битва	1380	Дмитрий Д.
Г	Грюнвальдская б.	1410	

Количество баллов - 12.

Задание 6. Определите пропущенные в тексте слова, обозначенные порядковыми номерами. Необходимые вставки впишите под соответствующими номерами в помещённую ниже таблицу.

Старший сын Василия II Васильевича Тёмного стал великим московским князем в (1 – год начала правления) году. Продолжив политику отца, (2 - имя и порядковый номер правителя) силой или дипломатическими соглашениями

подчинил себе княжества: Ярославское (1463), Ростовское (1474), (3 – название княжества) (1485), Вятскую землю (1489) и др. В 1471 совершил поход на (4 – название города) и ... одержал победу в последней феодальной войне на Руси. В 1480 ордынский хан (5 – имя хана) двинул огромное войско на Русь, желая вновь подчинить страну, не платившую дань с 1476 года. В это время Русь воевала ... с (6 – название) орденом. К тому же (5 – имя хана) заключил договор с польско-(7 – название части государства) королем Казимиром. Началось "Стояние на (8 – название места)". Победа князя означала конец монголо-татарского (9 – исторический термин) на Руси. Москва ... приобрела новый облик. Началось строительство нового Кремля, (10 – названия сооружения) палаты. В Москве появилось много иностранцев: ... греческие родственники племянницы византийского императора Софьи (11 – фамилия), на которой женился князь. Появился и первый законодательный кодекс Русского централизованного государства - (12 – название документа) 1497 года. (Шикман А.П.)

1	1425	7	имя хана
2	Василий I	8	река Угра
3		9	мо
4	Ковров	10	
5	Ахемат	11	Палеолог
6	Тевтоцкий	12	Судебник

Количество баллов – 12.

Задание 7. Изучите предложенную карту-схему, после чего вставьте в текст пропущенные слова.

1. На схеме изображен период отечественной истории, который пришелся на конец 16 века – начало 14 века.

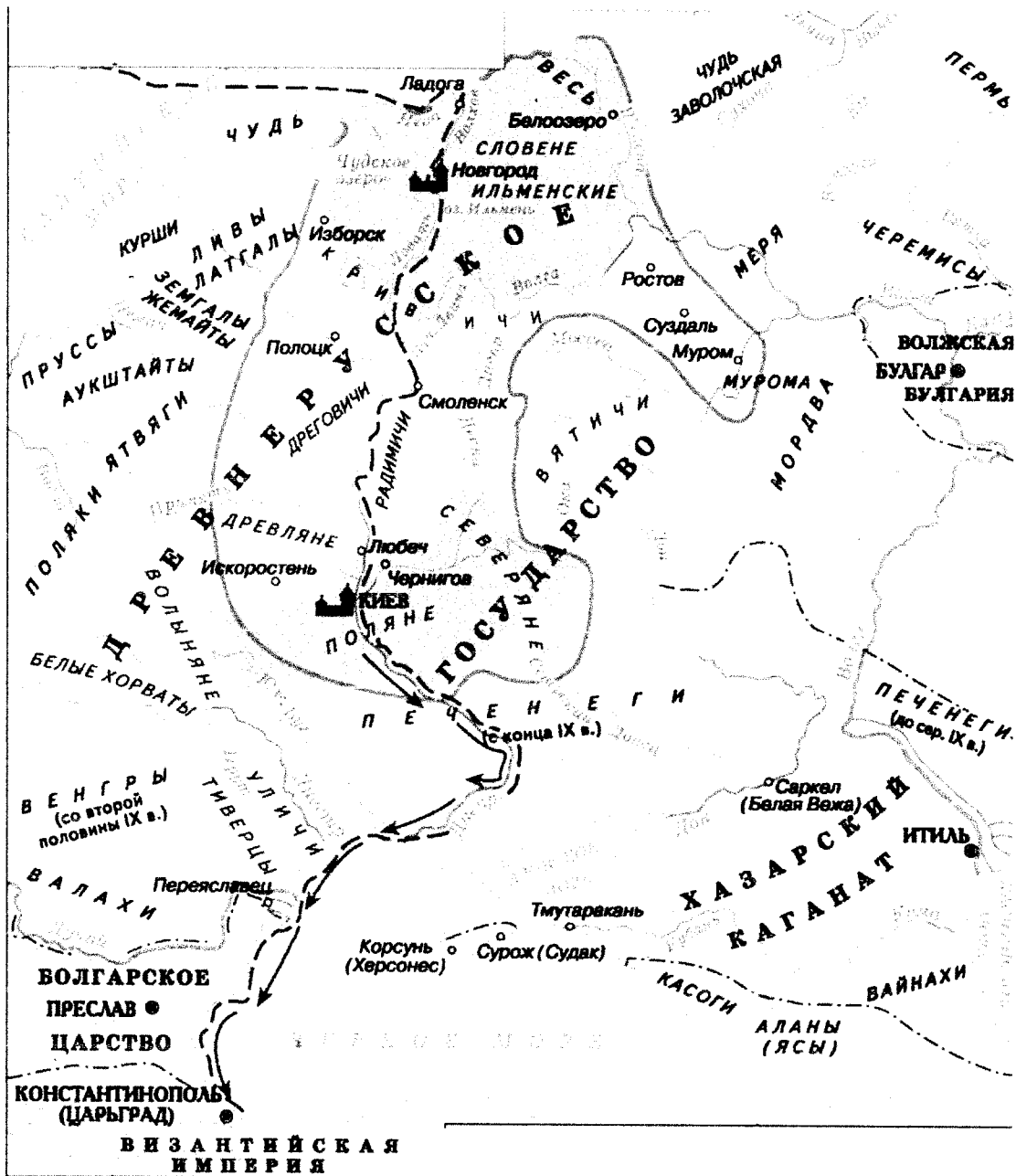
2. Правителем древнерусского государства в этот период был князь Владимир.

3. Столицей государства в этот период был город Киев.

4. Пунктиром на карте обозначен Византийская империя.

5. Стрелками на карте обозначен Восток и запад в Константинополе.

6. Приемником правящего в указанный период князя был князь Ярослав.



Количество баллов – 9.

Задание 8. Перед Вами список событий, произошедших в периоды правления киевских князей Ярослава Мудрого и Владимира Мономаха. Запишите в таблицу порядковые номера соответствующих правлению каждого князя событий.

- 1) составление «Повести временных лет»;
- 2) основание города Юрьева;
- 3) составление «Поучения детям»;
- 4) составление «Устава о резах»;
- 5) разгром печенегов под Киевом;
- 6) закладка собора Святой Софии в Киеве;
- 7) основание Киево-Печерского монастыря;

4

Ярослав Мудрый	Владимир Мономах
2, 6, 1	7, 43

Количество баллов – 7.

Задание 9. Изучите представленные исторические термины. Впишите правильную букву (буквы) вместо пропусков (Количество точек, обозначающих пропуски, не равняется числу букв, которые следует вписать).

Реш

7

1	ка. з анат	6	пе. с енеги
2	дру. ж ина	7	. ж олоп
3	поса. д ник	8	с. уде. д . ник
4	смер. д	9	во. л . чина
5	по. м ес. т . ье		

Количество баллов – 7.

Задание 10. Расположите в хронологической последовательности следующие события отечественной истории. Внесите буквенные обозначения событий в хронологическом порядке в приведенную таблицу.

- А) Падение Константинополя под ударами турок-османов
- Б) Образование Золотой Орды
- В) Перенос резиденции митрополита русской православной церкви в Москву
- Г) Поход Тохтамыша на Москву
- Д) Первое летописное упоминание о Москве

6

Б	Г	Д	А	В
--------------	--------------	--------------	--------------	--------------

Количество баллов – 9.

И. 07-04

Шифр

**ВСЕРОССИЙСКАЯ ОЛИМПИАДА ШКОЛЬНИКОВ
МУНИЦИПАЛЬНЫЙ ЭТАП**

ИСТОРИЯ

7 КЛАСС

Максимальное количество баллов – 100.

Общее время выполнения работы – 90 минут.

38
Баллов

05 **Задание 1.** Выберите один правильный ответ. Ответ внесите в таблицу.

1.1. Какое из указанных событий произошло в московском государстве в период правления сына Ивана III? А) присоединение новгородских земель Б) присоединение Рязани, Пскова и Смоленска В) строительство белокаменного Кремля Г) Куликовская битва

1.2. Какое из указанных орудий труда выполняло ту же функцию в хозяйстве древнерусского крестьянина, что и соха? А) борона Б) рало В) серп Г) горбуша Д) цеп

1.3. Какой из указанных соборов был возведен по приказу князя Андрея Боголюбского во Владимире?

А)



Б)



В)



Г)



1.4. Из указанных лиц современниками не были:

А) Ричард I Львиное Сердце и Всеволод Большое Гнездо; Б) Марко Поло и Иван I Калита; В) Гуго Капет и Владимир Святой; Г) Карл Великий и Олег Вещий

1.5. Какое событие произошло 6 декабря 1240 года? А) Ледовое побоище Б) битва на реке Сить В) Битва на реке Калка Г) взятие Киева монголами

1.1.	1.2	1.3	1.4	1.5
В	А	Б	Б	В

Количество баллов – 10.

35

Задание 2. Выберите несколько правильных ответов. Ответы внесите в таблицу.

2.1. Какие из указанных древних народов относятся к славянам?

А) пруссы Б) поляки В) жмудь Г) авары Д) готы Е) бужане

2.2. Какие исторические деятели не являлись современниками событий феодальной войны в Московском государстве в годы правления Василия II Темного? А) Василий Косой Б) Софья Витовтовна В) Феофан Грек Г) Дмитрий Шемяка Д) Сергей Радонежский

2.3. Какие два князя, будучи братьями, сумели благодаря совместным действиям впервые получить для Московского княжества ханский ярлык на Великое Владимирское княжение.

А) Дмитрий Донской Б) Иван Калита В) Андрей Боголюбский Г) Всеволод Большое Гнездо Д) Юрий Данилович

2.4. Какие из указанных событий произошли с разницей в сто лет? А) падение Византийской империи Б) образование Священной Римской империи германской нации В) призвание Рюрика в Новгород Г) крещение Руси Д) первый крестовый поход

2.1.	2.2.	2.3.	2.4.
ВЕ	Г В А	АВ	ВГ

Количество баллов – 12.

66

Задание 3. Соотнесите произведения древнерусской литературы и века, к которым относятся описанные в указанных произведениях события.

	Произведения древнерусской литературы		Век
1	«Хожение за три моря» купца Афанасия Никитина	А	XI
2	«Повесть о разорении Рязани Батыем»	Б	XII
3	«Сказание о мамаевом побоище»	В	XIII
4	«Слово о полку Игореве»	Г	XIV

5	«Слово о законе и благодати» митрополита Иллариона	Д	XV
---	---	---	----

✓	✓	✓	✓	✓
1	2	3	4	5
А	Б	Г	В	А

Количество баллов – 10.

18 **Задание 4.** По какому принципу образован ряд. Дайте максимально точный ответ. Определите, какое из перечисленных понятий лишнее? Лишнее слово зачеркните.

4.1. златари, скорняки, баскаки, толмачи, зодчие, бортники

4.2. битва при Креси, битва при Пуатье, битва при Азенкуре, осада Орлеана, битва при Гастингсе, осада Руана

1 4.3. война с Хазарским каганатом, война с половцами, война с Болгарским царством, ~~война с Византией~~, война с печенегами, война с Волжской Булгарией это войны Руси


Количество баллов – 12.

38 **Задание 5.** Внимательно изучите предложенные изображения. Определите, какие события изображены на почтовых марках, укажите годы, когда они произошли, а также назовите одного исторического деятеля-участника каждого из указанных событий. Внесите ответы в таблицу.




„И востъ сѣча бяше...“

А)



Б)



В)



Г)

	Событие	Год	Участник
А	Невская битва	1240	Александр Невский
Б			
В	Ледовое побоище	1242	Александр Невский
Г			

Количество баллов - 12.

Задание 6. Определите пропущенные в тексте слова, обозначенные порядковыми номерами. Необходимые вставки впишите под соответствующими номерами в помещённую ниже таблицу.

Старший сын Василия II Васильевича Тёмного стал великим московским князем в (1 – год начала правления) году. Продолжив политику отца, (2 - имя и порядковый номер правителя) силой или дипломатическими соглашениями

подчинил себе княжества: Ярославское (1463), Ростовское (1474), (3 – **название княжества**) (1485), Вятскую землю (1489) и др. В 1471 совершил поход на (4 – **название города**) и ... одержал победу в последней феодальной войне на Руси. В 1480 ордынский хан (5 – **имя хана**) двинул огромное войско на Русь, желая вновь подчинить страну, не платившую дань с 1476 года. В это время Русь воевала ... с (6 – **название**) орденом. К тому же (5 – **имя хана**) заключил договор с польско-(7 – **название части государства**) королем Казимиром. Началось "Стояние на (8 – **название места**)". Победа князя означала конец монголо-татарского (9 – **исторический термин**) на Руси. Москва ... приобрела новый облик. Началось строительство нового Кремля, (10 – **названия сооружения**) палаты. В Москве появилось много иностранцев: ...греческие родственники племянницы византийского императора Софьи (11 – **фамилия**), на которой женился князь. Появился и первый законодательный кодекс Русского централизованного государства - (12 – **название документа**) 1497 года.
(Шикман А.П.)

1	1461	7	
2		8	Урге
3	Новгородское	9	правления
4		10	
5	Батый	11	Витовтона
6	Певтоносий	12	

Количество баллов – 12.

8 Задание 7. Изучите предложенную карту-схему, после чего вставьте в текст пропущенные слова.

2 1. На схеме изображен период отечественной истории, который пришелся на конец IX века – начало X века.

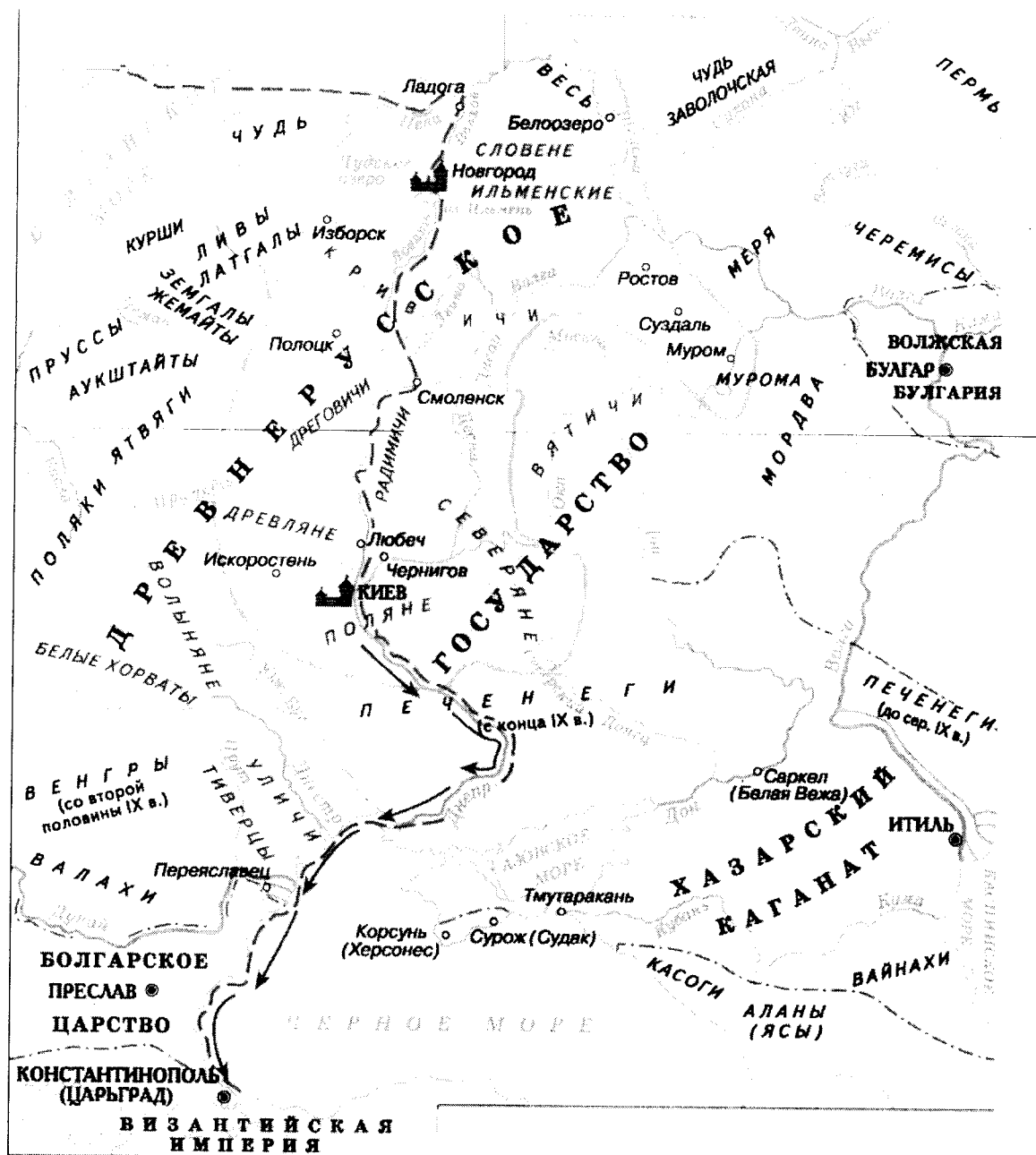
1 2. Правителем древнерусского государства в этот период был князь Олег.

1 3. Столицей государства в этот период был город Киев.

2 4. Пунктиром на карте обозначен Путь из варяг в греки.

2 5. Стрелками на карте обозначен Нападение Олега на Константинополь.

6. Приемником правящего в указанный период князя был князь Святослав.



Количество баллов – 9.

48

Задание 8. Перед Вами список событий, произошедших в периоды правления киевских князей Ярослава Мудрого и Владимира Мономаха. Запишите в таблицу порядковые номера соответствующих правлению каждого князя событий.

- 1) составление «Повести временных лет»;
- 2) основание города Юрьева;
- 3) составление «Поучения детям»;
- 4) составление «Устава о резах»;
- 5) разгром печенегов под Киевом;
- 6) закладка собора Святой Софии в Киеве;
- 7) основание Киево-Печерского монастыря;

У. 07-04

Ярослав Мудрый	Владимир Мономах
3 5 6	1 2 4 7

Количество баллов – 7.

Задание 9. Изучите представленные исторические термины. Впишите правильную букву (буквы) вместо пропусков (Количество точек, обозначающих пропуски, не равняется числу букв, которые следует вписать).

1	ка. <u>Л</u> анат ✓	6	пе. <u>Л</u> енеги ✓
2	дру. <u>Ж</u> ина ✓	7	<u>Ж</u> олоп ✓
3	поса. <u>Д</u> .ник ✓	8	<u>Л</u> уде. <u>С</u> .ник ✓
4	смер. <u>Д</u> . ✓	9	во. <u>М</u> чина
5	по. <u>М</u> .ес. <u>М</u> .ье ✓		

Количество баллов – 7.

Задание 10. Расположите в хронологической последовательности следующие события отечественной истории. Внесите буквенные обозначения событий в хронологическом порядке в приведенную таблицу.

- А) Падение Константинополя под ударами турок-османов
- Б) Образование Золотой Орды
- В) Перенос резиденции митрополита русской православной церкви в Москву
- Г) Поход Тохтамыша на Москву
- Д) Первое летописное упоминание о Москве

<u>Д</u>	<u>Б</u>	<u>Г</u>	<u>В</u>	<u>А</u>
----------	----------	----------	----------	----------

Количество баллов – 9.

Шифр 18-07-14

ВСЕРОССИЙСКАЯ ОЛИМПИАДА ШКОЛЬНИКОВ
МУНИЦИПАЛЬНЫЙ ЭТАП

ИСТОРИЯ

7 КЛАСС

36 баллов

Максимальное количество баллов – 100.





Общее время выполнения работы – 90 минут.

48 Задание 1. Выберите один правильный ответ. Ответ внесите в таблицу.

1.1. Какое из указанных событий произошло в московском государстве в период правления сына Ивана III? А) присоединение новгородских земель Б) присоединение Рязани, Пскова и Смоленска В) строительство белокаменного Кремля Г) Куликовская битва

1.2. Какое из указанных орудий труда выполняло ту же функцию в хозяйстве древнерусского крестьянина, что и соха? А) борона Б) рало В) серп Г) горбуша Д) цеп

1.3. Какой из указанных соборов был возведен по приказу князя Андрея Боголюбского во Владимире?



1.4. Из указанных лиц современниками не были:

А) Ричард I Львиное Сердце и Всеволод Большое Гнездо; Б) Марко Поло и Иван I Калита; В) Гуго Капет и Владимир Святой; Г) Карл Великий и Олег Вещий

1.5. Какое событие произошло 6 декабря 1240 года? А) Ледовое побоище Б) битва на реке Сить В) Битва на реке Калка Г) взятие Киева монголами

1.1.	1.2	1.3	1.4	1.5
А	В	А	Г	А

Количество баллов – 10.

68

Задание 2. Выберите несколько правильных ответов. Ответы внесите в таблицу.

2.1. Какие из указанных древних народов относятся к славянам?

А) пруссы Б) поляки В) жмудь Г) авары Д) готы Е) бужане

2.2. Какие исторические деятели не являлись современниками событий феодальной войны в Московском государстве в годы правления Василия II Темного? А) Василий Косой Б) Софья Витовтовна В) Феофан Грек Г) Дмитрий Шемяка Д) Сергей Радонежский

2.3. Какие два князя, будучи братьями, сумели благодаря совместным действиям впервые получить для Московского княжества ханский ярлык на Великое Владимирское княжение.

А) Дмитрий Донской Б) Иван Калита В) Андрей Боголюбский Г) Всеволод Большое Гнездо Д) Юрий Данилович

2.4. Какие из указанных событий произошли с разницей в сто лет? А) падение Византийской империи Б) образование Священной Римской империи германской нации В) призвание Рюрика в Новгород Г) крещение Руси Д) первый крестовый поход

2.1.	2.2.	2.3.	2.4.
А, Д, Е	В, А,	А, Б	Б, Г

Количество баллов – 12.

28

Задание 3. Соотнесите произведения древнерусской литературы и века, к которым относятся описанные в указанных произведениях события.

	Произведения древнерусской литературы		Век
1	«Хождение за три моря» купца Афанасия Никитина	А	XI
2	«Повесть о разорении Рязани Батыем»	Б	XII
3	«Сказание о мамеевом побоище»	В	XIII
4	«Слово о полку Игореве»	Г	XIV

5	«Слово о законе и благодати» митрополита Иллариона	Д	XV
---	---	---	----

1	2	3	4	5
В	А	Б	Г	Д

Количество баллов – 10.

Задание 4. По какому принципу образован ряд. Дайте максимально точный ответ. Определите, какое из перечисленных понятий лишнее? Лишнее слово зачеркните.

4.1. ~~златари~~, скорняки, баскаки, толмачи, зодчие, бортники

Все кроме златарей – воины

4.2. битва при Креси, битва при Пуатье, битва при Азенкуре, осада Орлеана, битва при Гастингсе, осада Руана

4.3. война с Хазарским каганатом, война с половцами, война с Болгарским царством, война с Византией, война с печенегами, война с Волжской Булгарией

Количество баллов – 12.

Задание 5. Внимательно изучите предложенные изображения. Определите, какие события изображены на почтовых марках, укажите годы, когда они произошли, а также назовите одного исторического деятеля-участника каждого из указанных событий. Внесите ответы в таблицу.




„И бысть сѣча велика...“

А)



Б)



В)



Г)

	Событие	Год	Участник
А.			
Б.			
В	Куликовская битва	1177 г.н.э.	
Г	Муромское побоище	1242 г.н.э.	

Количество баллов - 12.

Задание 6. Определите пропущенные в тексте слова, обозначенные порядковыми номерами. Необходимые вставки впишите под соответствующими номерами в помещённую ниже таблицу.

Старший сын Василия II Васильевича Тёмного стал великим московским князем в (1 – год начала правления) году. Продолжив политику отца, (2 - имя и порядковый номер правителя) силой или дипломатическими соглашениями

подчинил себе княжества: Ярославское (1463), Ростовское (1474), (3 – название княжества) (1485), Вятскую землю (1489) и др. В 1471 совершил поход на (4 – название города) и ... одержал победу в последней феодальной войне на Руси. В 1480 ордынский хан (5 – имя хана) двинул огромное войско на Русь, желая вновь подчинить страну, не платившую дань с 1476 года. В это время Русь воевала ... с (6 – название) орденом. К тому же (5 – имя хана) заключил договор с польско- (7 – название части государства) королем Казимиром. Началось "Стояние на (8 – название места)". Победа князя означала конец монголо-татарского (9 – исторический термин) на Руси. Москва ... приобрела новый облик. Началось строительство нового Кремля, (10 – названия сооружения) палаты. В Москве появилось много иностранцев: ... греческие родственники племянницы византийского императора Софьи (11 – фамилия), на которой женился князь. Появился и первый законодательный кодекс Русского централизованного государства - (12 – название документа) 1497 года. (Шикман А.П.)

1		7	Иванович
2	Иван II	8	
3	Ростовское	9	Владимир
4	Москва	10	
5	Тимур-Ленг	11	Витовт
6	Псков	12	Русская правда

Количество баллов – 12.

Задание 7. Изучите предложенную карту-схему, после чего вставьте в текст пропущенные слова.

1. На схеме изображен период отечественной истории, который пришелся на конец IX века – начало X века.

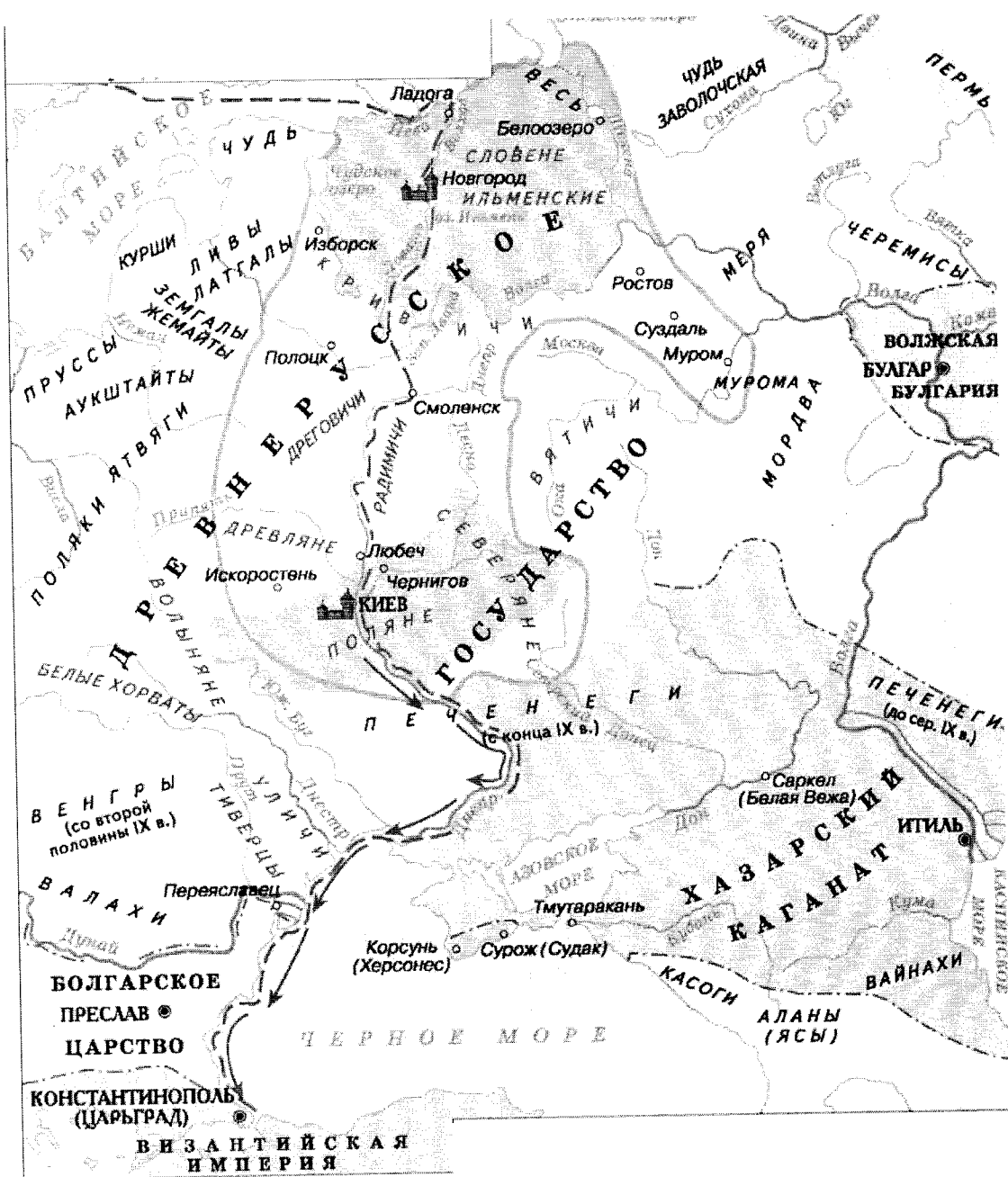
2. Правителем древнерусского государства в этот период был князь Владимир.

3. Столицей государства в этот период был город Москва.

4. Пунктиром на карте обозначен _____.

5. Стрелками на карте обозначен _____.

6. Приемником правящего в указанный период князя был князь Ярослав.



Количество баллов – 9.

9/8

Задание 8. Перед Вами список событий, произошедших в периоды правления киевских князей Ярослава Мудрого и Владимира Мономаха. Запишите в таблицу порядковые номера соответствующих правлению каждого князя событий.

- 1) составление «Повести временных лет»;
- 2) основание города Юрьева;
- 3) составление «Поучения детям»;
- 4) составление «Устава о резях»;
- 5) разгром печенегов под Киевом;
- 6) закладка собора Святой Софии в Киеве;
- 7) основание Киево-Печерского монастыря;

Ярослав Мудрый	Владимир Мономах
2), 5), 6), 7)	1), 3), 4)

Количество баллов – 7.

Задание 9. Изучите представленные исторические термины. Впишите правильную букву (буквы) вместо пропусков (Количество точек, обозначающих пропуски, не равняется числу букв, которые следует вписать).

1	ка.Чанат	6	пе.Ч.енеги
2	дру.Ш.ина	7	.Холоп
3	поса.А.ник	8	.Куде.Л.ник
4	смер.А.	9	во.А.чина
5	по.М.ес.Т.ье		

Количество баллов – 7.

Задание 10. Расположите в хронологической последовательности следующие события отечественной истории. Внесите буквенные обозначения событий в хронологическом порядке в приведенную таблицу.

А) Падение Константинополя под ударами турок-османов

Б) Образование Золотой Орды

В) Перенос резиденции митрополита русской православной церкви в Москву

Г) Поход Тохтамыша на Москву

Д) Первое летописное упоминание о Москве

А	Б	В	Г	Д
---	---	---	---	---

Количество баллов – 9.

У-07-07

Шифр

**ВСЕРОССИЙСКАЯ ОЛИМПИАДА ШКОЛЬНИКОВ
МУНИЦИПАЛЬНЫЙ ЭТАП**

ИСТОРИЯ

7 КЛАСС

32 балла

Максимальное количество баллов – 100.


Общее время выполнения работы – 90 минут.

08 **Задание 1.** Выберите один правильный ответ. Ответ внесите в таблицу.


1.1. Какое из указанных событий произошло в московском государстве в период правления сына Ивана III? А) присоединение новгородских земель Б) присоединение Рязани, Пскова и Смоленска В) строительство белокаменного Кремля Г) Куликовская битва

1.2. Какое из указанных орудий труда выполняло ту же функцию в хозяйстве древнерусского крестьянина, что и соха? А) борона Б) рало В) серп Г) горбуша Д) цеп


1.3. Какой из указанных соборов был возведен по приказу князя Андрея Боголюбского во Владимире?




А)



Б)



В)



Г)

1.4. Из указанных лиц современниками не были:

А) Ричард I Львиное Сердце и Всеволод Большое Гнездо; Б) Марко Поло и Иван I Калита; В) Гуго Капет и Владимир Святой; Г) Карл Великий и Олег Вещий

1.5. Какое событие произошло 6 декабря 1240 года? А) Ледовое побоище Б) битва на реке Сить В) Битва на реке Калка Г) взятие Киева монголами

1.1.	1.2	1.3	1.4	1.5
Г			А	Б, А

Количество баллов – 10.

58 **Задание 2.** Выберите несколько правильных ответов. Ответы внесите в таблицу:

2.1. Какие из указанных древних народов относятся к славянам?

А) пруссы Б) поляки В) жмудь Г) авары Д) готы Е) бужане

2.2. Какие исторические деятели не являлись современниками событий феодальной войны в Московском государстве в годы правления Василия II Темного? А) Василий Косой Б) Софья Витовтовна В) Феофан Грек Г) Дмитрий Шемяка Д) Сергей Радонежский

2.3. Какие два князя, будучи братьями, сумели благодаря совместным действиям впервые получить для Московского княжества ханский ярлык на Великое Владимирское княжение.

А) Дмитрий Донской Б) Иван Калита В) Андрей Боголюбский Г) Всеволод Большое Гнездо Д) Юрий Данилович

2.4. Какие из указанных событий произошли с разницей в сто лет? А) падение Византийской империи Б) образование Священной Римской империи германской нации В) призвание Рюрика в Новгород Г) крещение Руси Д) первый крестовый поход

2.1.	2.2.	2.3.	2.4.
А, Б	В, Д	В, Г	В, Г

Количество баллов – 12.

48 **Задание 3.** Соотнесите произведения древнерусской литературы и века, к которым относятся описанные в указанных произведениях события.

	Произведения древнерусской литературы		Век
1	«Хождение за три моря» купца Афанасия Никитина	А	XI
2	«Повесть о разорении Рязани Батыем»	Б	XII
3	«Сказание о мамаевом побоище»	В	XIII
4	«Слово о полку Игореве»	Г	XIV

5	«Слово о законе и благодати» митрополита Иллариона	Д	XV
---	---	---	----

1	2	3	4	5
А	В	Б	Г	Д

Количество баллов – 10.

08

Задание 4. По какому принципу образован ряд. Дайте максимально точный ответ. Определите, какое из перечисленных понятий лишнее? Лишнее слово зачеркните.

- 4.1. златари, скорняки, баскаки, толмачи, зодчие, бортники

бортники

- 4.2. битва при Креси, битва при Пуатье, битва при Азенкуре, осада Орлеана, битва при Гастингсе, осада Руана битва при

- 4.3. война с Хазарским каганатом, война с половцами, война с Болгарским царством, война с Византией, война с печенегами, война с Волжской Булгарией война с Византией

Количество баллов – 12.

28

Задание 5. Внимательно изучите предложенные изображения. Определите, какие события изображены на почтовых марках, укажите годы, когда они произошли, а также назовите одного исторического деятеля-участника каждого из указанных событий. Внесите ответы в таблицу.

750 лет



„И бысть съча велика...“

А)



Б)

625



В)



Г)

	Событие	Год	Участник
25 А	Ледовое побоище	1240	Александр Невский
Б		1410	
В		1380	
Г		1242	

Количество баллов - 12.

38

Задание 6. Определите пропущенные в тексте слова, обозначенные порядковыми номерами. Необходимые вставки впишите под соответствующими номерами в помещённую ниже таблицу.

Старший сын Василия II Васильевича Тёмного стал великим московским князем в (1 – год начала правления) году. Продолжив политику отца, (2 - имя и порядковый номер правителя) силой или дипломатическими соглашениями

подчинил себе княжества: Ярославское (1463), Ростовское (1474), (3 – **название княжества**) (1485), Вятскую землю (1489) и др. В 1471 совершил поход на (4 – **название города**) и ... одержал победу в последней феодальной войне на Руси. В 1480 ордынский хан (5 – **имя хана**) двинул огромное войско на Русь, желая вновь подчинить страну, не платившую дань с 1476 года. В это время Русь воевала ... с (6 – **название**) орденом. К тому же (5 – **имя хана**) заключил договор с польско-(7 – **название части государства**) королем Казимиром. Началось "Стояние на (8 – **название места**)". Победа князя означала конец монголо-татарского (9 – **исторический термин**) на Руси. Москва ... приобрела новый облик. Началось строительство нового Кремля, (10 – **названия сооружения**) палаты. В Москве появилось много иностранцев: ... греческие родственники племянницы византийского императора Софьи (11 – **фамилия**), на которой женился князь. Появился и первый законодательный кодекс Русского централизованного государства - (12 – **название документа**) 1497 года. (Шикман А.П.)

1		7	
2		8	Мне
3		9	наместник
4		10	
5	Полеман	11	Витовой
6	Каменим	12	Судебник

Количество баллов – 12.

48 Задание 7. Изучите предложенную карту-схему, после чего вставьте в текст пропущенные слова.

1. На схеме изображен период отечественной истории, который пришелся на конец XII века – начало XIII века.

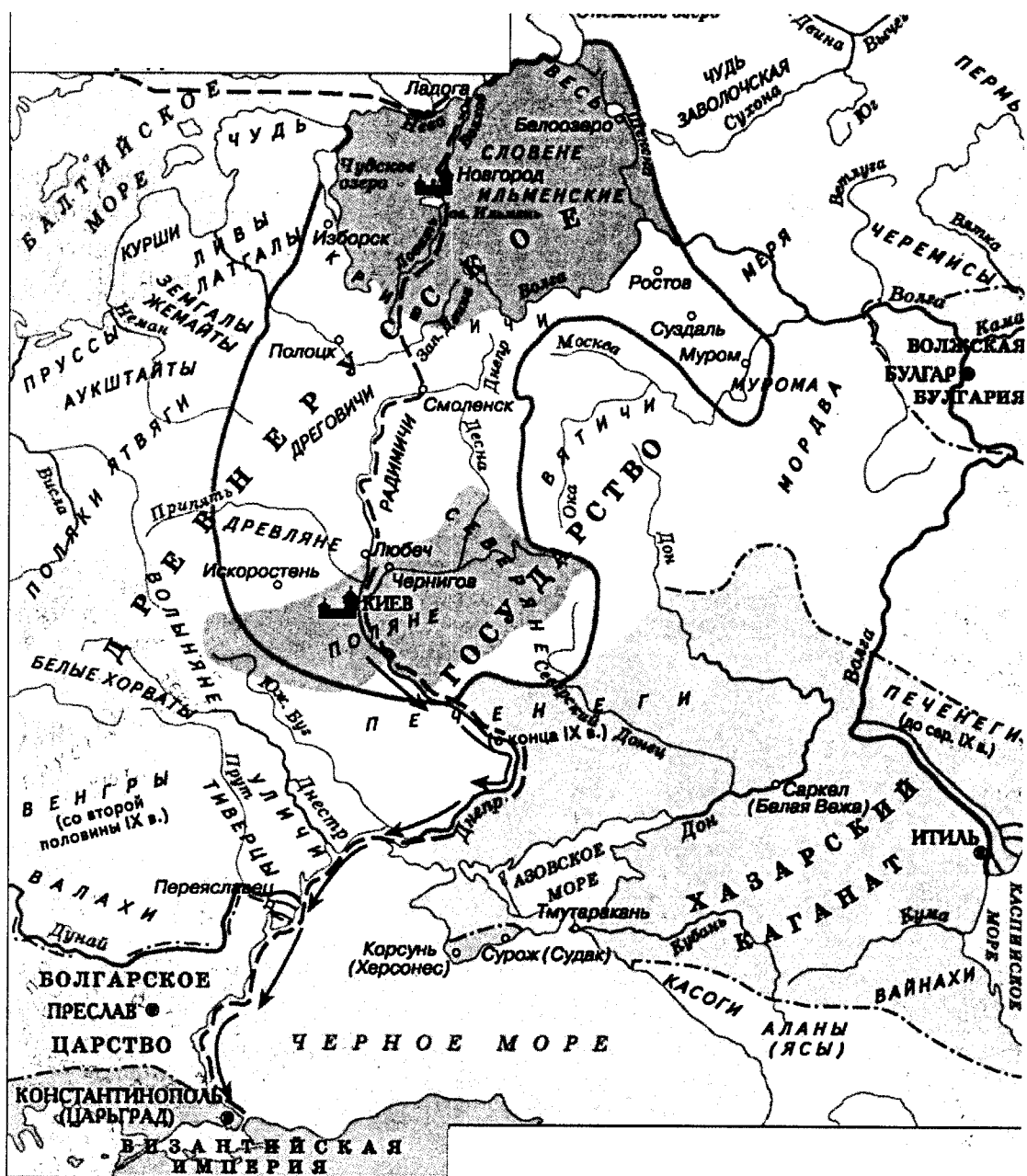
2. Правителем древнерусского государства в этот период был князь

1 3. Столицей государства в этот период был город Киев.

2 4. Пунктиром на карте обозначен Путь из варяг в греки.

7 5. Стрелками на карте обозначен Путь из Киева в Константинополь.

6. Приемником правящего в указанный период князя был князь



Количество баллов – 9.

58

Задание 8. Перед Вами список событий, произошедших в периоды правления киевских князей Ярослава Мудрого и Владимира Мономаха. Запишите в таблицу порядковые номера соответствующих правлению каждого князя событий.

- 1) составление «Повести временных лет»;
- 2) основание города Юрьева;
- 3) составление «Поучения детям»;
- 4) составление «Устава о резах»;
- 5) разгром печенегов под Киевом;
- 6) закладка собора Святой Софии в Киеве;
- 7) основание Киево-Печерского монастыря;

Ярослав Мудрый	Владимир Мономах
2, 3, 5, 7	1, 4, 6

Количество баллов – 7.

Задание 9. Изучите представленные исторические термины. Впишите правильную букву (буквы) вместо пропусков (Количество точек, обозначающих пропуски, не равняется числу букв, которые следует вписать).

1	ка ^л .анат	6	пе ^л .енеги
2	дру ^ж ина	7	Жолоп
3	поса ^д .ник	8	.с.уде. ^б .ник
4	смер ^т .	9	во ^м чина
5	по ^д .ес ^т .ье		

Количество баллов – 7.

Задание 10. Расположите в хронологической последовательности следующие события отечественной истории. Внесите буквенные обозначения событий в хронологическом порядке в приведенную таблицу.

А) Падение Константинополя под ударами турок-османов

Б) Образование Золотой Орды

В) Перенос резиденции митрополита русской православной церкви в Москву

Г) Поход Тохтамыша на Москву

Д) Первое летописное упоминание о Москве

Б	А	Д	Г	В
---	---	---	---	---

Количество баллов – 9.

3041 = 315

Ч- 07-12

Шифр

ВСЕРОССИЙСКАЯ ОЛИМПИАДА ШКОЛЬНИКОВ
МУНИЦИПАЛЬНЫЙ ЭТАП
ИСТОРИЯ
7 КЛАСС

Максимальное количество баллов – 100.

Общее время выполнения работы – 90 минут.

Задание 1. Выберите один правильный ответ. Ответ внесите в таблицу.

1.1. Какое из указанных событий произошло в московском государстве в период правления сына Ивана III? А) присоединение новгородских земель Б) присоединение Рязани, Пскова и Смоленска В) строительство белокаменного Кремля Г) Куликовская битва

1.2. Какое из указанных орудий труда выполняло ту же функцию в хозяйстве древнерусского крестьянина, что и соха? А) борона Б) рало В) серп Г) горбуша Д) цепь

1.3. Какой из указанных соборов был возведен по приказу князя Андрея Боголюбского во Владимире?

А)




Б)



В)



Г)



1.4. Из указанных лиц современниками не были:

А) Ричард I Львиное Сердце и Всеволод Большое Гнездо; Б) Марко Поло и Иван I Калита; В) Гуго Капет и Владимир Святой; Г) Карл Великий и Олег Вещий

1.5. Какое событие произошло 6 декабря 1240 года? А) Ледовое побоище Б) битва на реке Сить В) Битва на реке Калка Г) взятие Киева монголами

4

1.1. 1.2 1.3 1.4 1.5

Б + Г А В А + А

Количество баллов — 10.

Задание 2. Выберите несколько правильных ответов. Ответы внесите в таблицу.

2.1. Какие из указанных древних народов относятся к славянам?

А) пруссы Б) поляки В) жмудь Г) авары Д) готы Е) бужане

2.2. Какие исторические деятели не являлись современниками событий феодальной войны в Московском государстве в годы правления Василия II Темного? А) Василий Косой Б) Софья Витовтовна В) Феофан Грек Г) Дмитрий Шемяка Д) Сергей Радонежский

2.3. Какие два князя, будучи братьями, сумели благодаря совместным действиям впервые получить для Московского княжества ханский ярлык на Великое Владимирское княжение.

А) Дмитрий Донской Б) Иван Калита В) Андрей Боголюбский Г) Всеволод Большое Гнездо Д) Юрий Данилович

2.4. Какие из указанных событий произошли с разницей в сто лет? А) падение Византийской империи Б) образование Священной Римской империи германской нации В) призвание Рюрика в Новгород Г) крещение Руси Д) первый крестовый поход

0

2.1. 2.2. 2.3. 2.4.

А Б А В А Г

Количество баллов — 12.

Задание 3. Соотнесите произведения древнерусской литературы и века, к которым относятся описанные в указанных произведениях события.

	Произведения древнерусской литературы		Век
1	«Хожение за три моря» купца Афанасия Никитина	А	XI
2	«Повесть о разорении Рязани Батыем»	Б	XII
3	«Сказание о мамаевом побоище»	В	XIII

4	«Слово о полку Игореве»	Г	XIV
5	«Слово о законе и благодати» митрополита Иллариона	Д	XV

4

1	2	3	4	5
БД	А	А	ГБ	В

Количество баллов – 10.

А.И.И.

Задание 4. По какому принципу образован ряд. Дайте максимально точный ответ. Определите, какое из перечисленных понятий лишнее? Лишнее слово зачеркните.

4.1. златари, скорняки, ~~баскаки~~, ~~толмачи~~, зодчие, бортники

~~ремесленники~~

4.2. ~~битва при Креси~~, битва при Пуатье, битва при Азенкуре, осада Орлеана, битва при Гастингесе, осада Руана битва при Гастингесе

4.3. война с Хазарским каганатом, война с половцами, война с ~~Болгарским царством~~, война с Византией, война с печенегами, война с ~~Волжской Булгарией~~ война с Болгарским царством


Количество баллов – 12.

Задание 5. Внимательно изучите предложенные изображения. Определите, какие события изображены на почтовых марках, укажите годы, когда они произошли, а также назовите одного исторического деятеля-участника каждого из указанных событий. Внесите ответы в таблицу.



„И востъ сѣча белыя...“

А)



Б)

625



В)



Г)

	Событие	Год	Участник
А	Невская битва 3	1240	Александр Невский
Б			
В	Крещение Руси	1395	
Г	Ледовое побоище 1	1240	

Количество баллов - 12.

Задание 6. Определите пропущенные в тексте слова, обозначенные порядковыми номерами. Необходимые вставки впишите под соответствующими номерами в помещённую ниже таблицу.

Старший сын Василия II Васильевича Тёмного стал великим московским князем в (1 – год начала правления) году. Продолжив политику отца, (2 - имя и порядковый номер правителя) силой или дипломатическими соглашениями

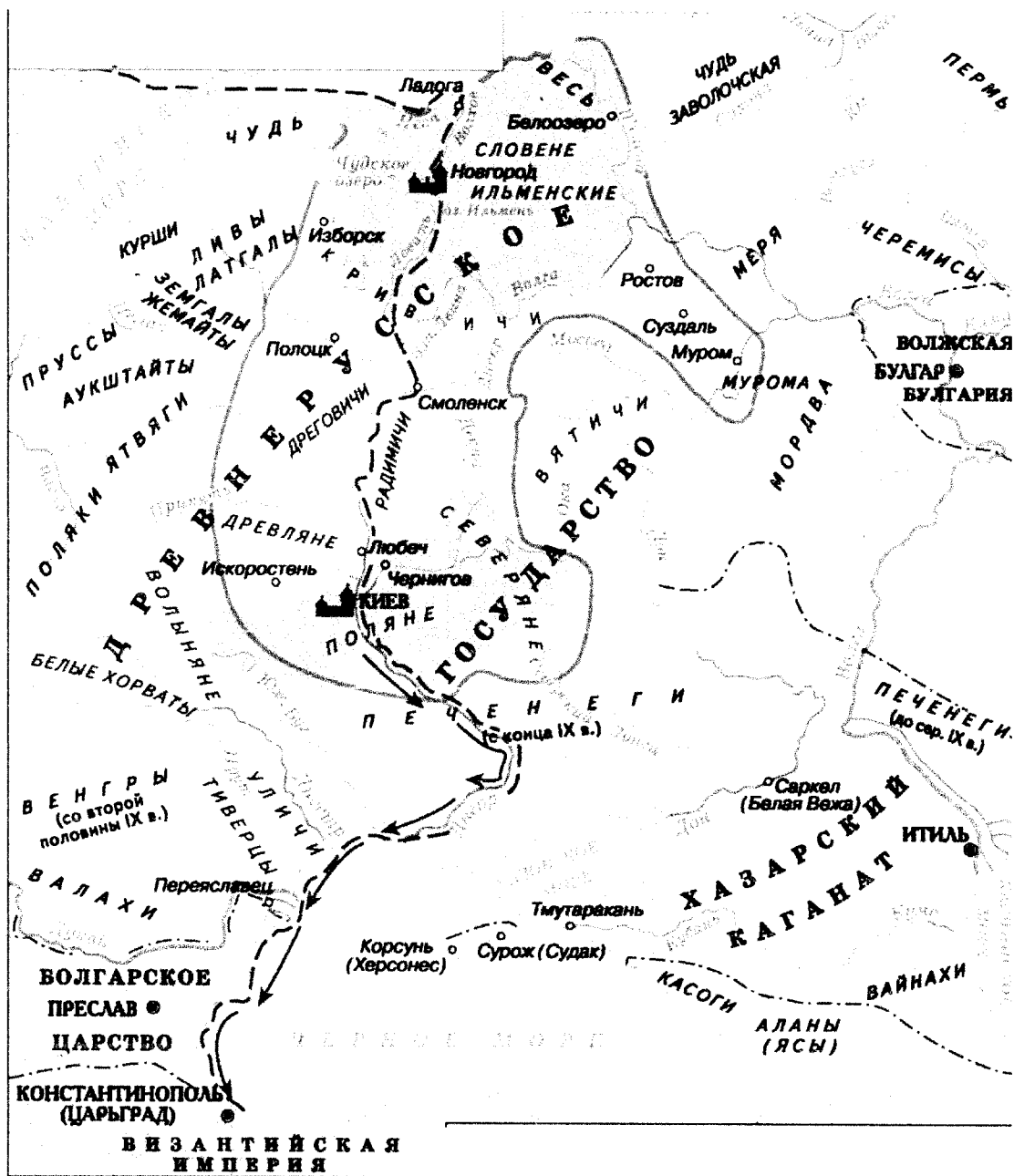
подчинил себе княжества: Ярославское (1463), Ростовское (1474), (3 – название княжества) (1485), Вятскую землю (1489) и др. В 1471 совершил поход на (4 – название города) и ... одержал победу в последней феодальной войне на Руси. В 1480 ордынский хан (5 – имя хана) двинул огромное войско на Русь, желая вновь подчинить страну, не платившую дань с 1476 года. В это время Русь воевала ... с (6 – название) орденом. К тому же (5 – имя хана) заключил договор с польско-(7 – название части государства) королем Казимиром. Началось "Стояние на (8 – название места)". Победа князя означала конец монголо-татарского (9 – исторический термин) на Руси. Москва ... приобрела новый облик. Началось строительство нового Кремля, (10 – названия сооружения) палаты. В Москве появилось много иностранцев: ... греческие родственники племянницы византийского императора Софьи (11 – фамилия), на которой женился князь. Появился и первый законодательный кодекс Русского централизованного государства - (12 – название документа) 1497 года. (Шикман А.П.)

1	1480	7	Амба +
2	Василий Тёмный I	8	Русь
3		9	Войска
4	Новгород +	10	
5	Ахмат I	11	Византизм
6	Ливонский	12	Судебник +

Количество баллов – 12.

Задание 7. Изучите предложенную карту-схему, после чего вставьте в текст пропущенные слова.

- На схеме изображен период отечественной истории, который пришелся на конец XIV века – начало XV века.
- Правителем древнерусского государства в этот период был князь Ярослав Мудрый.
- Столицей государства в этот период был город Киев +
- Пунктиром на карте обозначен Разделение государств
- Стрелками на карте обозначен путь продвижения от Киева до Византии.
- Приемником правящего в указанный период князя был князь Владимир Мономах.



Количество баллов – 9.

Задание 8. Перед Вами список событий, произошедших в периоды правления киевских князей Ярослава Мудрого и Владимира Мономаха. Запишите в таблицу порядковые номера соответствующих правлению каждого князя событий.

- 1) составление «Повести временных лет»;
- 2) основание города Юрьева;
- 3) составление «Поучения детям»;
- 4) составление «Устава о резах»;
- 5) разгром печенегов под Киевом;
- 6) закладка собора Святой Софии в Киеве;
- 7) основание Киево-Печерского монастыря;

5

Ярослав Мудрый	Владимир Мономах
7, 2, 8, 5	3, 6, 4

Количество баллов – 7.

Задание 9. Изучите представленные исторические термины. Впишите правильную букву (буквы) вместо пропусков (Количество точек, обозначающих пропуски, не равняется числу букв, которые следует вписать).

5

1	ка.Г.анат	6	пе.Ченеги
2	дру.Жина	7	Х.олоп
3	поса.А.ник	8	Х.уде.С.ник
4	смер.А	9	во.Л.чина
5	по.Мес.Т.ье		

Количество баллов – 7.

Задание 10. Расположите в хронологической последовательности следующие события отечественной истории. Внесите буквенные обозначения событий в хронологическом порядке в приведенную таблицу.

А) Падение Константинополя под ударами турок-османов

Б) Образование Золотой Орды

В) Перенос резиденции митрополита русской православной церкви в Москву

Г) Поход Тохтамыша на Москву

Д) Первое летописное упоминание о Москве

В	Б	А	Д	Г
---	---	---	---	---

Количество баллов – 9.