

$$158 + 428 = 578$$

Шифр № 07-08

**ВСЕРОССИЙСКАЯ ОЛИМПИАДА ШКОЛЬНИКОВ 2020-2021 УЧ. Г.**  
**МУНИЦИПАЛЬНЫЙ ЭТАП**

*География*

7 класс

**Задания**

Общее время выполнения работы – **180 минут**.

На выполнение заданий I (тестового) раунда отводится **60 минут**. На II (аналитический) раунд отводится **120 минут**.

При ответе на задания запрещено пользоваться школьными и прочими атласами, справочными материалами, а также учебниками, мобильными телефонами, карманными компьютерами! Желаем успеха!

**I РАУНД (ТЕСТОВЫЙ)**

Ответьте на поставленные вопросы, выбрав **один** правильный вариант ответа. При ответе на вопросы будьте очень внимательны, так как некоторые вопросы требуют определить неверный вариант или имеют формулировку с отрицанием.

1. Выберите правильное сочетание «горная система – высочайшая точка»:

- + 1) Альпы – г. Аконкагуа (6960 м); ② Алтай – г. Белуха (4506 м);  
3) Большой Кавказ – Пик Коммунизма (7495 м); 4) Альпы – Эльбрус (5642 м).

2. Выберите вариант ответа, в котором представлены только страны южного полушария:

- + 1) Алжир, Непал, Норвегия, Марокко; 2) Мексика, Дания, Швеция, Вьетнам;  
③ Танзания, Перу, Намибия, Новая Зеландия; 4) Испания, Франция, Австралия, Индия.

3. Выберите правильное утверждение о проливах Земли:

- + ① Мозамбикский пролив расположен между материком Африка и островом Мадагаскар;  
2) Пролив Дрейка расположен между Антарктидой и Австралией;  
3) Берингов пролив расположен между островом Гренландия и Северной Америкой;  
4) Баб-Эль-Мандебский пролив расположен между континентами Европа и Африка.

4. Выберите из предложенного списка морей самое соленое:

- + 1) Охотское; ② Аравийское; 3) Южно-Китайское; 4) Балтийское.

5. Выберите вариант ответа, в котом представлены объекты рельефа, расположенные **не** в Евразии:

- + 1) г. Аконкагуа, г. Косцюшко, г. Килиманджаро, влк. Фудзияма;  
2) Великая Китайская равнина, Кордильеры, Скандинавские горы, Альпы;  
③ Атласские горы, Большой Водораздельный хребет, Анды, Капские горы;  
4) Карпаты, Апеннинские горы, Алтай, Уральские горы.

6. В каком из указанных районов не может быть действующих вулканов:

- + 1) п-ов Камчатка; 2) Восточно-Африканское плоскогорье; 3) Анды;  
④ Амазонская низменность.

7. Как называются формы рельефа, создаваемые при помощи ветра:

- + 1) моренные; 2) карстовые; ③ эоловые; 4) водноэрозионные.

8. В каком из климатических поясов наблюдается значительный летний пик осадков:

- 1) тропический; ② экваториальный; 3) субтропический; 4) субэкваториальный.

9. Выберите вариант ответа, в котором указаны самые сухие места на Земле:

- 1) Сухие долины Антарктиды, пустыня Атакама, Египет;  
 2) гора Черапунджи, Бразильское плоскогорье, г. Сочи (Россия);  
 3) Восточно-Европейская равнина, г. Народная (Уральские горы), г. Оймякон (Россия);  
 4) о. Мадагаскар, Королевство Марокко, западное побережье Австралии.

10. Выберите группу географических объектов, которые наиболее подвержены влиянию тропических циклонов:

- 1) западное побережье Скандинавского п-ва, п-ов Лабрадор, Алеутские о-ва;  
 2) п-ов Индокитай, Малаккский п-ов, побережья Аргентины, Уругвая и Бразилии;  
 3) побережье, омываемое морем Амундсена, Земля Королевы Мод, Земля Уилкса;  
 4) большая часть территории Канады, о. Гренландия, Чукотский п-ов.

11. Выберите группу стран, расположенных в умеренном климатическом поясе:

- 1) Испания, Португалия, Греция; 2) Мавритания, Чад, Эфиопия;  
 3) Великобритания, Монголия, Чехия; 4) Мексика, Куба, Венесуэла.

12. Укажите вариант ответа, в котором представлены только полезные ископаемые, применяемые как строительные материалы или сырье для их производства:

- 1) торф, каменный уголь, фосфориты, гипс; 2) природный газ, нефть, полевой шпат;  
 3) калийные соли, бокситы, сера, нефелины; 4) гранит, мрамор, песок, глина.

13. Выберите вариант ответа, в котором верно указано соответствие «Полуостров – государство, на котором оно находится»:

- 1) п-ов Индокитай – Вьетнам; 2) п-ов Лабрадор – Мексика;  
 3) п-ов Сомали – Мавритания; 4) Малаккский п-ов – Филиппины.

14. Укажите вариант ответа, в котором правильно указано соответствие «столицы стран мира – материк»:

- 1) Луанда, Найроби, Нуакшот – Северная Америка;  
 2) Каракас, Джорджтаун, Асунсьон – Южная Америка;  
 3) Тирана, Улан-Батор, Бишкек – Африка; 4) Манагуа, Тегусигальпа, Панама – Евразия.

15. Выберите вариант ответа, в котором указано государство с наименьшей плотностью населения: 1) Намибия; 2) Эфиопия; 3) Республика Корея; 4) Швейцария.

16. Укажите верное соотношение «Пустыня – материк»:

- 1) пустыня Виктория – Северная Америка; 2) пустыня Атакама – Африка;  
 3) пустыня Гоби – Евразия; 4) пустыня Калахари – Южная Америка.

17. Выберите **неправильное** утверждение:

- 1) Красное море омывает северо-восточное побережье Африки и юго-западное побережье Аравийского полуострова;  
 2) Атласские горы расположены на северо-западе Африки;  
 3) Аденский залив омывает берега государства Сомали;  
 4) чтобы попасть по суше от побережья Средиземного моря к мысу Доброй Надежды необходимо двигаться на север.

18. Укажите правильное сочетание «Исследователь – географический регион, в котором работал»: 1) Д. Ливингстон – Африка; 2) Д. Кук – п-ов Аляска;

- 3) Пржевальский – Канадский Арктический архипелаг;  
 4) М.П. Лазарев, Ф.Ф. Беллинсгаузен – Средиземное море.

19. Выберите правильное утверждение, говорящее о распространении природной зоны в конкретном географическом объекте:

- 1) тропические пустыни – Среднесибирское плоскогорье;
- + ② влажные экваториальные леса – побережье Гвинейского залива;
- 3) тундра и лесотундра – побережье Мексиканского залива;
- 4) саванны и редколесья – побережье Средиземного моря.

20. Выберите правильное утверждение «Океаническое течение – океан»:

- + 1) Гольфстрим – Индийский; 2) Фолклендское – Северный Ледовитый;
- ③ 3) Куроисио – Тихий; 4) Перуанское – Атлантический.

**КОЛИЧЕСТВО БАЛЛОВ ЗА ТЕСТОВЫЙ РАУНД – 20**

**ВСЕРОССИЙСКАЯ ОЛИМПИАДА ШКОЛЬНИКОВ 2020-2021 УЧ. Г.**  
**МУНИЦИПАЛЬНЫЙ ЭТАП**

*География*

*7 класс*

**Задания**

**II РАУНД (АНАЛИТИЧЕСКИЙ)**

На II (аналитический) раунд отводится **120 минут**.

При ответе на задания запрещено пользоваться школьными и прочими атласами, справочными материалами, а также учебниками, мобильными телефонами, карманными компьютерами! Желаем успеха!

**Задание 1. «Картография».**

Вашему вниманию представляется фрагмент топографической карты участка местности. Необходимо его изучить и ответить на ряд вопросов. Результаты своего картографического исследования необходимо оформить в предложенной таблице.

№	Вопрос	Ответ
1.	Какие объекты антропогенного рельефа обозначены цифрой 1?	карьер
2.	Какой вид минерального сырья добывается на объекте под номером 2? Как называется этот объект?	Сырье: <u>шиша</u> . Объект: <u>карьер</u> .
3.	Какой гидрографический объект расположен под номером 3? На какой абсолютной высоте находится этот объект?	Объект: <u>родник</u> . Высота: <u>144,3</u> м.
4.	Какая часть участка местности наиболее заболочена (указать сторону горизонта)?	<u>северная</u>
5.	Какая максимальная высота фиксируется на предложенном участке местности?	<u>159,4</u> м
6.	В каком направлении и по какому азимуту необходимо двигаться, чтобы попасть из совхоза Беличи в город Снов (для точности измерения примите за точки отсчета примерные геометрические центры объектов)?	Направление: <u>СВ</u> . Азимут: <u>135°</u> .
7.	Какие объекты обозначены стрелками на карте под цифрой 4? Какова глубина этих объектов?	Объект: _____. Глубина: <u>2</u> м.
8.	Разъедутся ли два грузовых автомобиля, каждый из которых имеет ширину 3,5 м, следующие из совхоза Беличи по проезжей части шоссе, идущему в восточном направлении? Свой ответ обоснуйте.	<u>нет</u> Обоснование: <u>суммарная ширина автомобилей 3,5+3,5=7м, а ширина дороги 6м.</u>
9.	Какие хозяйственные объекты можно увидеть на карте в городе Снов?	<u>сахарный завод, фруктовый сад</u>
10.	Какой из склонов – под цифрой 5 или под цифрой 6 – будет круче?	Под цифрой <u>5</u> .

№	Вопрос	Ответ
11.	В каком из лесов древесина будет более зрелая (толщина стволов больше) – под цифрой 7 или 8?	Под цифрой <u>7</u> .
12.	В каком из лесов можно добывать хвойную древесину (лес под цифрой 7 или 8)?	Под цифрой <u>6</u> .
13.	По какой антропогенной форме рельефа (созданной человеком) проходят железные дороги на представленном плане местности?	
14.	К какой природной зоне относится данный участок местности?	<i>Восточный лес</i>

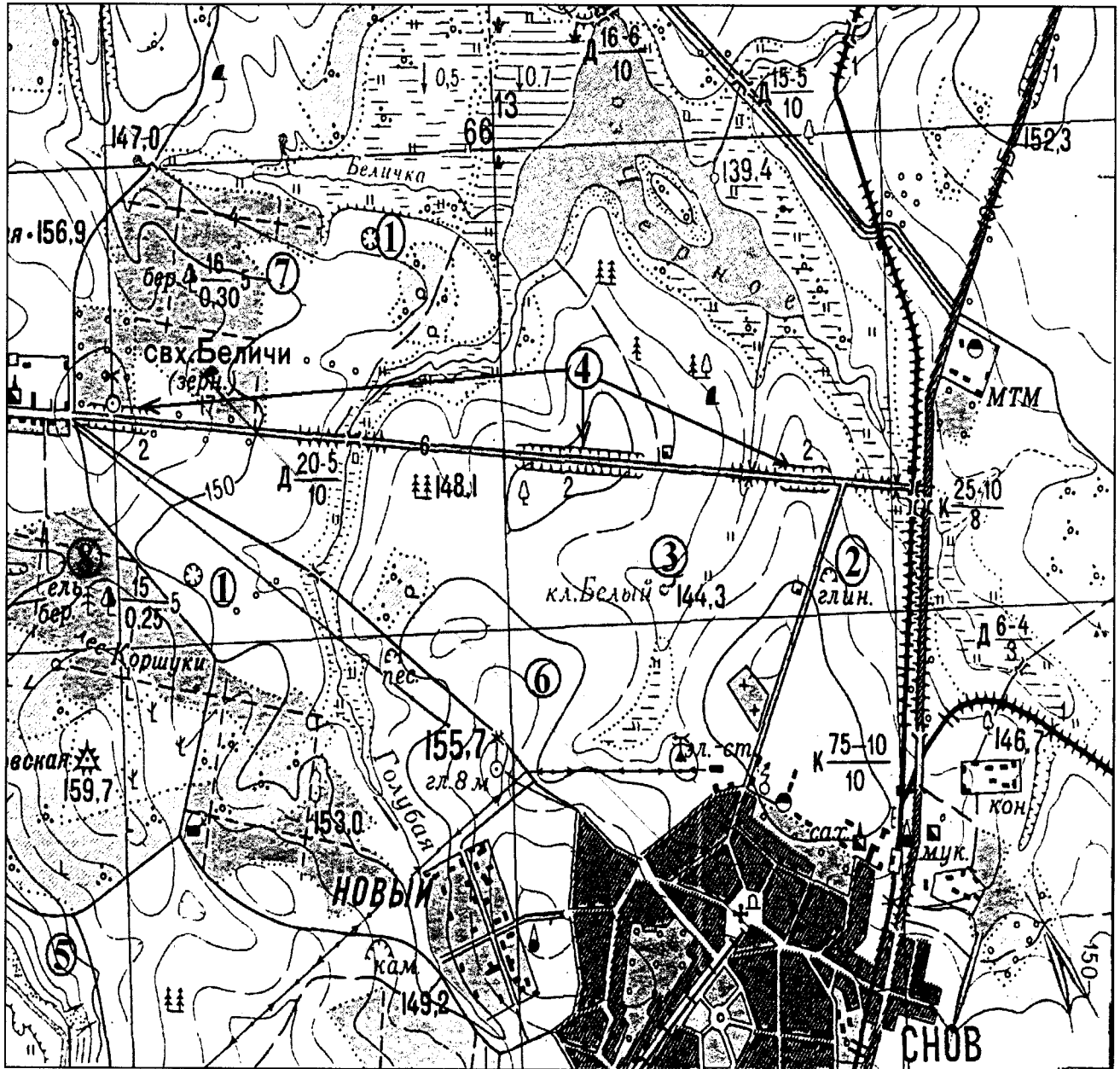


Рис. 1. Участок местности для задания 1

КОЛИЧЕСТВО БАЛЛОВ – 15

105

**Задание 2. «Озера России и мира».**

1. На карте, представленной на рисунке 2, цифрами отмечены некоторые крупнейшие и известные озера мира. Вам предстоит вспомнить названия этих озер и вписать их названия в предложенную ниже таблицу 1.

В качестве так любимыми Вами подсказок предоставляется список озер в алфавитном порядке, из которого Вам и предстоит выбрать названия озер, изображенных на карте: *Аральское море, Байкал, Большое Медвежье, Большое Невольничье, Верхнее, Виктория, Виннипег, Гурон, Каспийское море, Маракайбо, Мертвое море, Мичиган, Ньяса, Онтарио, Танганьика, Титикака, Чад, Эйр, Эри*. Вы можете потренироваться и подписать эти озера на представленной Вам карте, но проверяться будут только названия в таблице 1!

2. В таблице 2 представлены некоторые свойства и характеристики озер и их групп. Внимательно изучите их и впишите названия озер, особенности, соответствующие этим характеристикам или озерам, названия озер.

Таблица 1

№ озера на карте	Название	№ озера на карте	Название
1	Большое Медвежье 0,5	11	Виктория 0,5
2	Большое Невольничье 0,5	12	Виннипег
3	Верхнее 0,5	13	Ньяса 0,5
4	Гурон 0,5	14	Чад 0,5
5	Мичиган 0,5	15	Каспийское море 0,5
6	Эри	16	Мертвое море 0,5
7	Танганьика	17	Аральское море 0,5
8	Онтарио	18	Байкал 0,5
9	Маракайбо 0,5	19	Эйр 0,5
10	Титикака 0,5		

7,5 + 0,5 = 8

Таблица 2

№	Характеристика озер или их групп	Ваш ответ
1.	Как называется группа озер, отмеченных цифрами 3, 4, 5, 6, 7?	
2.	Между какими странами проходит государственная граница по озерам группы 3, 4, 5, 6, 7?	1. <u>США</u> . 1 2. <u>Мексика</u> .
3.	В этом море-озере отмечен один из самых высоких показателей солености в мире (достигает 350‰)	<u>Мертвое море</u> . 1
4.	На территории каких трех стран располагается озеро, обозначенное числом 16?	1. <u>Египет</u> . 2. <u>Турция</u> . 3. <u>Израиль</u> . 1
5.	Какое из указанных озер является самым глубоким озером мира. Напишите его название.	<u>Байкал</u> . 1
6.	Какая особенность гидрологического режима характерна для озер, обозначенных числами 14 и 19?	<u>Имеют непостоянный размер по сезонам года</u>
7.	Каким по происхождению является озеро под цифрой 9?	
8.	Какое из озер имеет выход к территории таких стран как Россия, Казахстан, Туркменистан, Иран, Азербайджан?	<u>Каспийское море</u> . 1

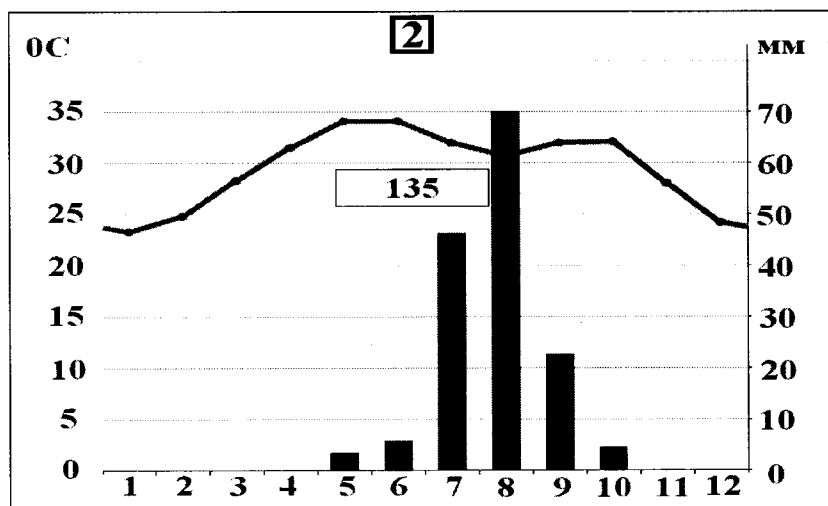
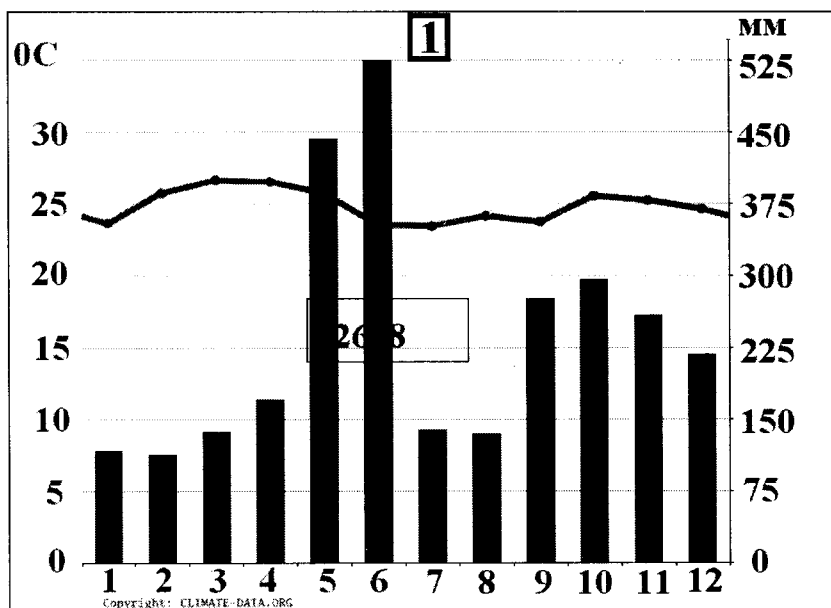
№	Характеристика озер или их групп	Ваш ответ
9.	Как называется море-озеро, от акватории которого практически ничего не осталось (исчезающее озеро)?	Аральское море
10.	Озеро, название которого переводится с языка индейцев как «свинцовая гора».	
11.	Каково происхождение группы озер 3, 4, 5, 6, 7?	
12.	Какое озеро названо в честь королевы Великобритании (XIX в.)?	Виктория

КОЛИЧЕСТВО БАЛЛОВ – 25

158

**Задание 3. «Климатическая прогулка».**

1. Вам представлены на рассмотрение три диаграммы различных типов и подтипов климата Африки (1, 2 и 3). Внимательно изучите их и впишите номера диаграмм в соответствующие этим типам климата квадраты на карте Африки (рис. 3).



Шифр

Крупнейшие озёра

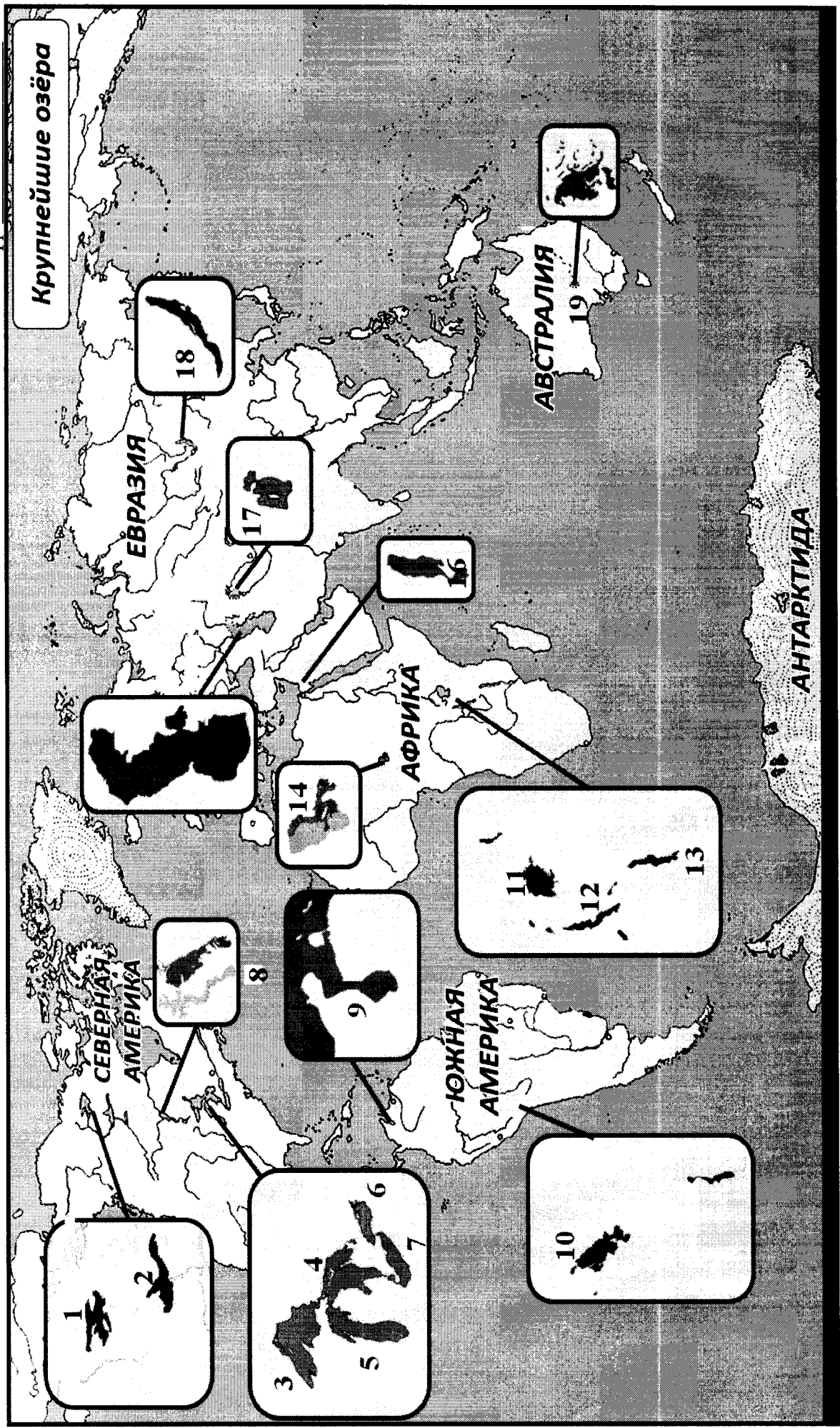
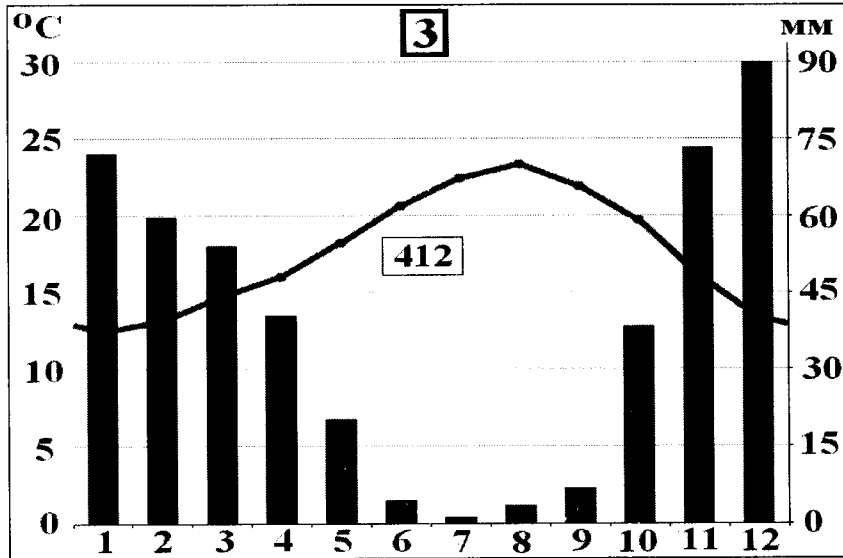


Рис. 2. Крупнейшие озера мира





2. Проведя исследование климатограмм, заполните таблицу 3.

Таблица 3

№ климатограммы	Определение параметров климата	Вывод о типе/подтипе климата
1	1. Годовое количество осадков: <u>2688</u> мм; <u>0,5</u> 2. Температура самого теплого месяца: <u>27</u> °C; <u>0,5</u> 3. Температура самого холодного месяца: <u>24</u> °C; <u>0,5</u> 4. Годовая амплитуда температуры: <u>3</u> °C; <u>0,5</u>	Экваториальный климат 10.
2	1. Годовое количество осадков: <u>135</u> мм; 2. Температура самого теплого месяца(ев): <u>34</u> °C; 3. Температура самого холодного месяца: <u>24</u> °C; 4. Годовая амплитуда температуры: <u>10</u> °C; <u>20</u>	
3	1. Годовое количество осадков: <u>412</u> мм; <u>0,5</u> 2. Температура самого теплого месяца(ев): <u>30</u> °C; 3. Температура самого холодного месяца: <u>12</u> °C; <u>0,5</u> 4. Годовая амплитуда температуры: <u>18</u> °C; <u>0,5</u> 5. Месяц с максимальным количеством осадков: <u>декабрь</u> ; <u>0,5</u> 6. Месяц с минимальным количеством осадков: <u>июль</u> ; <u>0,5</u>	Тропический климат

8



Рис. 3. Африка

3. Ответьте на вопросы, связанные с формированием некоторых типов климата на изучаемой территории. Свои выводы запишите в таблицу 4 в соответствующие ячейки.

Таблица 4

№	Вопрос	Ответ
1.	Объясните, с чем связано различие значений температур и количества выпадаемых осадков в теплый и холодный период времени?	Связано с вращением Земли вокруг Солнца

№	Вопрос	Ответ
2.	С чем связано большое и постоянное по месяцам количество осадков в типе, климата, изображенном на диаграмме под номером 1?	Связано с тем, что местность находится в экваториальных широтах
3.	Как можно оценить суточные амплитуды температуры воздуха климата, представленного на диаграмме 2? С чем связаны такие значения суточных амплитуд?	
4.	На климат каких территорий Африки оказывают значительное влияние холодные океанические течения? Назовите эти течения. В чем проявляется их влияние на климат?	Территории: 1. _____; 2. _____; 3. _____. Течения: 1. Перуанское _____; 2. _____; 3. _____. Влияние:
5.	Назовите ветры, которые дуют в Африке из тропических широт в экваториальные и имеют северо-восточное и юго-восточное направление (в зависимости от полушария).	пассаты           15

КОЛИЧЕСТВО БАЛЛОВ – 25










105

**Задание 4. «Виртуальная прогулка по странам».**

Вам предстоит виртуальная прогулка по некоторым странам мира. В таблице 5 представлены описания или фото-миниатюры особенностей или достопримечательностей некоторых стран мира. Вам необходимо ознакомиться с этими особенностями на миниатюрах и ответить на вопросы.

Таблица 5

№	Особенности и миниатюры	Вопросы
1.	<p>По ряду представленных фотографий определите, о какой стране идет речь.</p> 	<p>1. Название достопримечательности: _____.</p> <p>2. Страна: <u>Англия</u> <u>0,5</u>.</p> <p>3. Столица: <u>Лондон</u> <u>0,5</u>.</p> <p>4. Река, омывающая достопримечательность: <u>Темза</u> <u>0,5</u>.</p> <p>5. Название моста на 2 рисунке: _____.</p> <p>6. Как называются проливы между островами, на котором находится страна, и основной территорией Европейского континента:          1) _____;          2) _____.</p>
2.	<p>Какая страна изображена на фотографии-миниатюре?</p> 	<p>1. Страна: <u>Япония</u> <u>0,5</u>.</p> <p>2. Столица этой страны: _____.</p> <p>3. Название священной горы (вулкана) этой страны: <u>Фудзияма</u> <u>0,5</u>.</p> <p>4. Название большого количества островов, расположенных на небольшом расстоянии друг от друга (характерно для этой страны): _____.</p> <p>5. Цветок, воспеваемые в культуре этой страны и связанный со многими традициями: <u>Сакура</u> <u>0,5</u>.</p> <p>6. Популярный ядовитый рыбный деликатес страны: <u>фугу</u> <u>0,5</u>.</p> <p>7. Формальный глава этой страны: _____.</p> <p>8. Традиционная одежда этой страны: <u>кимоно</u> <u>0,5</u>.</p> <p>9. Традиционный вид борьбы в стране: <u>каратэ, сшу</u> <u>0,5</u>.</p>

№	Особенности и миниатюры	Вопросы
	 	
3.	   	<p>1. Эта страна находится на полуострове, расположенном между Аравийским морем и Бенгальским заливом.          Название полуострова: <u>Индостан</u> . 0,5</p> <p>2. Название страны: <u>Индия</u> . 0,5</p> <p>3. Столица этой страны: _____ .</p> <p>4. Священное животное в этой стране: <u>Корова</u> . 0,5</p> <p>5. Главная административно-территориальная единица страны: _____ .</p> <p>6. Известный мавзолей-мечеть, расположенный в этой стране: <u>Тадж-Махал</u> . 0,5</p> <p>7. Как называют жителей этой страны, приверженцев индуизма: <u>индуисты</u> .</p> <p>8. Как называется островное государство, расположенное к югу от полуострова, на котором расположена исследуемая страна (остров имеет такое же название, как и страна): <u>Суматра</u> .</p>
4.	<p>Эта страна находится на севере и западе самого большого полуострова Европы. Флаг этой страны – синий крест на красном фоне.</p>   	<p>1. Название самого большого полуострова Европы: <u>Скандинавский п-ов</u> . 0,5</p> <p>2. Название страны: <u>Норвегия</u> . 0,5</p> <p>3. Столица этой страны: _____ .</p> <p>4. Самый большой северный сосед этой страны (страна): <u>Швеция</u> .</p> <p>5. Северный народ, живущий издревле на территории этой страны и упомянутом полуострове: <u>норманн, викинг</u> .</p> <p>6. Как называется корабль этого народа: _____ .</p>

№	Особенности и миниатюры	Вопросы
		

КОЛИЧЕСТВО БАЛЛОВ – 15

КОЛИЧЕСТВО БАЛЛОВ ЗА АНАЛИТИЧЕСКИЙ РАУНД – 80

ОБЩЕЕ КОЛИЧЕСТВО БАЛЛОВ – 100

75

$$125 + 26,58 = 38,58 \quad \text{Шифр } \underline{1^{\circ} - 07 - 06}$$

**ДЛЯ УЧАСТНИКОВ**

**ВСЕРОССИЙСКАЯ ОЛИМПИАДА ШКОЛЬНИКОВ 2020-2021 УЧ. Г.**  
**МУНИЦИПАЛЬНЫЙ ЭТАП**

*География*

*7 класс*

**Задания**

Общее время выполнения работы – **180 минут**.

На выполнение заданий I (тестового) раунда отводится **60 минут**. На II (аналитический) раунд отводится **120 минут**.

При ответе на задания запрещено пользоваться школьными и прочими атласами, справочными материалами, а также учебниками, мобильными телефонами, карманными компьютерами! Желаем успеха!

**I РАУНД (ТЕСТОВЫЙ)**

Ответьте на поставленные вопросы, выбрав **один** правильный вариант ответа. При ответе на вопросы будьте очень внимательны, так как некоторые вопросы требуют определить неверный вариант или имеют формулировку с отрицанием.

1. Выберите правильное сочетание «горная система – высочайшая точка»:

- 1) Альпы – г. Аконкагуа (6960 м); 2) Алтай – г. Белуха (4506 м);  
3) Большой Кавказ – Пик Коммунизма (7495 м); **4) Альпы – Эльбрус (5642 м).**

2. Выберите вариант ответа, в котором представлены только страны южного полушария:

- + 1) Алжир, Непал, Норвегия, Марокко; 2) Мексика, Дания, Швеция, Вьетнам;  
**3) Танзания, Перу, Намибия, Новая Зеландия;** 4) Испания, Франция, Австралия, Индия.

3. Выберите правильное утверждение о проливах Земли:

- 1) Мозамбикский пролив расположен между материком Африка и островом Мадагаскар;  
2) Пролив Дрейка расположен между Антарктидой и Австралией;  
3) Берингов пролив расположен между островом Гренландия и Северной Америкой;  
**4) Баб-Эль-Мандебский пролив расположен между континентами Европа и Африка.**

4. Выберите из предложенного списка морей самое соленое:

- + 1) Охотское; **2) Аравийское;** 3) Южно-Китайское; 4) Балтийское.

5. Выберите вариант ответа, в котом представлены объекты рельефа, расположенные **не** в Евразии:

- + 1) г. Аконкагуа, г. Косцюшко, г. Килиманджаро, влк. Фудзияма;  
2) Великая Китайская равнина, Кордильеры, Скандинавские горы, Альпы;  
**3) Атласские горы, Большой Водораздельный хребет, Анды, Капские горы;**  
4) Карпаты, Апеннинские горы, Алтай, Уральские горы.

6. В каком из указанных районов не может быть действующих вулканов:

- + 1) п-ов Камчатка; 2) Восточно-Африканское плоскогорье; 3) Анды;  
**4) Амазонская низменность.**

– 7. Как называются формы рельефа, создаваемые при помощи ветра:

- 1) моренные; **2) карстовые;** 3) эоловые; 4) водноэрозионные.

+ 8. В каком из климатических поясов наблюдается значительный летний пик осадков:

- 1) тропический; 2) экваториальный; 3) субтропический; **4) субэкваториальный.**

9. Выберите вариант ответа, в котором указаны самые сухие места на Земле:

- 1) Сухие долины Антарктиды, пустыня Атакама, Египет;
- 2) гора Черапунджи, Бразильское плоскогорье, г. Сочи (Россия);
- 3) Восточно-Европейская равнина, г. Народная (Уральские горы), г. Оймякон (Россия);
- 4) о. Мадагаскар, Королевство Марокко, западное побережье Австралии.

10. Выберите группу географических объектов, которые наиболее подвержены влиянию тропических циклонов:

- 1) западное побережье Скандинавского п-ва, п-ов Лабрадор, Алеутские о-ва;
- 2) п-ов Индокитай, Малаккский п-ов, побережья Аргентины, Уругвая и Бразилии;
- 3) побережье, омываемое морем Амундсена, Земля Королевы Мод, Земля Уилкса;
- 4) большая часть территории Канады, о. Гренландия, Чукотский п-ов.

11. Выберите группу стран, расположенных в умеренном климатическом поясе:

- 1) Испания, Португалия, Греция; 2) Мавритания, Чад, Эфиопия;
- 3) Великобритания, Монголия, Чехия; 4) Мексика, Куба, Венесуэла.

12. Укажите вариант ответа, в котором представлены только полезные ископаемые, применяемые как строительные материалы или сырье для их производства:

- 1) торф, каменный уголь, фосфориты, гипс; 2) природный газ, нефть, полевой шпат;
- 3) калийные соли, бокситы, сера, нефелины; 4) гранит, мрамор, песок, глина.

13. Выберите вариант ответа, в котором верно указано соответствие «Полуостров – государство, на котором оно находится»:

- 1) п-ов Индокитай – Вьетнам; 2) п-ов Лабрадор – Мексика;
- 3) п-ов Сомали – Мавритания; 4) Малаккский п-ов – Филиппины.

14. Укажите вариант ответа, в котором правильно указано соответствие «столицы стран мира – материк»:

- 1) Луанда, Найроби, Нуакшот – Северная Америка;
- 2) Каракас, Джорджтаун, Асунсьон – Южная Америка;
- 3) Тирана, Улан-Батор, Бишкек – Африка; 4) Манагуа, Тегусигальпа, Панама – Евразия.

15. Выберите вариант ответа, в котором указано государство с наименьшей плотностью населения: 1) Намибия; 2) Эфиопия; 3) Республика Корея; 4) Швейцария.

16. Укажите верное соотношение «Пустыня – материк»:

- 1) пустыня Виктория – Северная Америка; 2) пустыня Атакама – Африка;
- 3) пустыня Гоби – Евразия; 4) пустыня Калахари – Южная Америка.

17. Выберите **неправильное** утверждение:

- 1) Красное море омывает северо-восточное побережье Африки и юго-западное побережье Аравийского полуострова;
- 2) Атласские горы расположены на северо-западе Африки;
- 3) Аденский залив омывает берега государства Сомали;
- 4) чтобы попасть по суше от побережья Средиземного моря к мысу Доброй Надежды необходимо двигаться на север.

18. Укажите правильное сочетание «Исследователь – географический регион, в котором работал»:

- 1) Д. Ливингстон – Африка; 2) Д. Кук – п-ов Аляска;
- 3) Пржевальский – Канадский Арктический архипелаг;
- 4) М.П. Лазарев, Ф.Ф. Беллинсгаузен – Средиземное море.



19. Выберите правильное утверждение, говорящее о распространении природной зоны в конкретном географическом объекте:

- 1) тропические пустыни – Среднесибирское плоскогорье;
- + ② влажные экваториальные леса – побережье Гвинейского залива;
- 3) тундра и лесотундра – побережье Мексиканского залива;
- 4) саванны и редколесья – побережье Средиземного моря.

20. Выберите правильное утверждение «Океаническое течение – океан»:

- 1) Гольфстрим – Индийский; ② Фолклендское – Северный Ледовитый;
- 3) Куроисио – Тихий; 4) Перуанское – Атлантический.

**КОЛИЧЕСТВО БАЛЛОВ ЗА ТЕСТОВЫЙ РАУНД – 20**

26,55

Шифр № 07-06

**ДЛЯ УЧАСТНИКОВ**  
**ВСЕРОССИЙСКАЯ ОЛИМПИАДА ШКОЛЬНИКОВ 2020-2021 УЧ. Г.**  
**МУНИЦИПАЛЬНЫЙ ЭТАП**

География

7 класс

**Задания****II РАУНД (АНАЛИТИЧЕСКИЙ)**

На II (аналитический) раунд отводится **120 минут**.

При ответе на задания запрещено пользоваться школьными и прочими атласами, справочными материалами, а также учебниками, мобильными телефонами, карманными компьютерами! Желаем успеха!

**Задание 1. «Картография».**

Вашему вниманию представляется фрагмент топографической карты участка местности. Необходимо его изучить и ответить на ряд вопросов. Результаты своего картографического исследования необходимо оформить в предложенной таблице.

№	Вопрос	Ответ
1.	Какие объекты антропогенного рельефа обозначены цифрой 1?	равнина
2.	Какой вид минерального сырья добывается на объекте под номером 2? Как называется этот объект?	Сырье: <u>глина</u> . 0,5 Объект: <u>карьер</u> .
3.	Какой гидрографический объект расположен под номером 3? На какой абсолютной высоте находится этот объект?	Объект: <u>ручей</u> . 0,5 Высота: <u>1,4</u> м.
4.	Какая часть участка местности наиболее заболочена (указать сторону горизонта)?	Юго-восток
5.	Какая максимальная высота фиксируется на предложенном участке местности?	<u>1,45</u> м
6.	В каком направлении и по какому азимуту необходимо двигаться, чтобы попасть из совхоза Беличи в город Снов (для точности измерения примите за точки отсчета примерные геометрические центры объектов)?	Направление: <u>Юго-юго-восток</u> 0,5 Азимут: <u>10</u> .
7.	Какие объекты обозначены стрелками на карте под цифрой 4? Какова глубина этих объектов?	Объект: _____. Глубина: _____ м.
8.	Разъедутся ли два грузовых автомобиля, каждый из которых имеет ширину 3,5 м, следующие из совхоза Беличи по проезжей части шоссе, идущему в восточном направлении? Свой ответ обоснуйте.	<u>не смогут разъехаться</u> 0,5 Обоснование: <u>дорога слишком узкая для них</u>
9.	Какие хозяйственные объекты можно увидеть на карте в городе Снов?	<u>мельница, конюшня, сад.</u>
10.	Какой из склонов – под цифрой 5 или под цифрой 6 – будет круче?	Под цифрой <u>6</u> .

№	Вопрос	Ответ
11.	В каком из лесов древесина будет более зрелая (толщина стволов больше) – под цифрой 7 или 8?	Под цифрой <u>7</u> .
12.	В каком из лесов можно добывать хвойную древесину (лес под цифрой 7 или 8)?	Под цифрой <u>8</u> .
13.	По какой антропогенной форме рельефа (созданной человеком) проходят железные дороги на представленном плане местности?	<u>Камышай</u>
14.	К какой природной зоне относится данный участок местности?	<u>Умеренные широты</u>

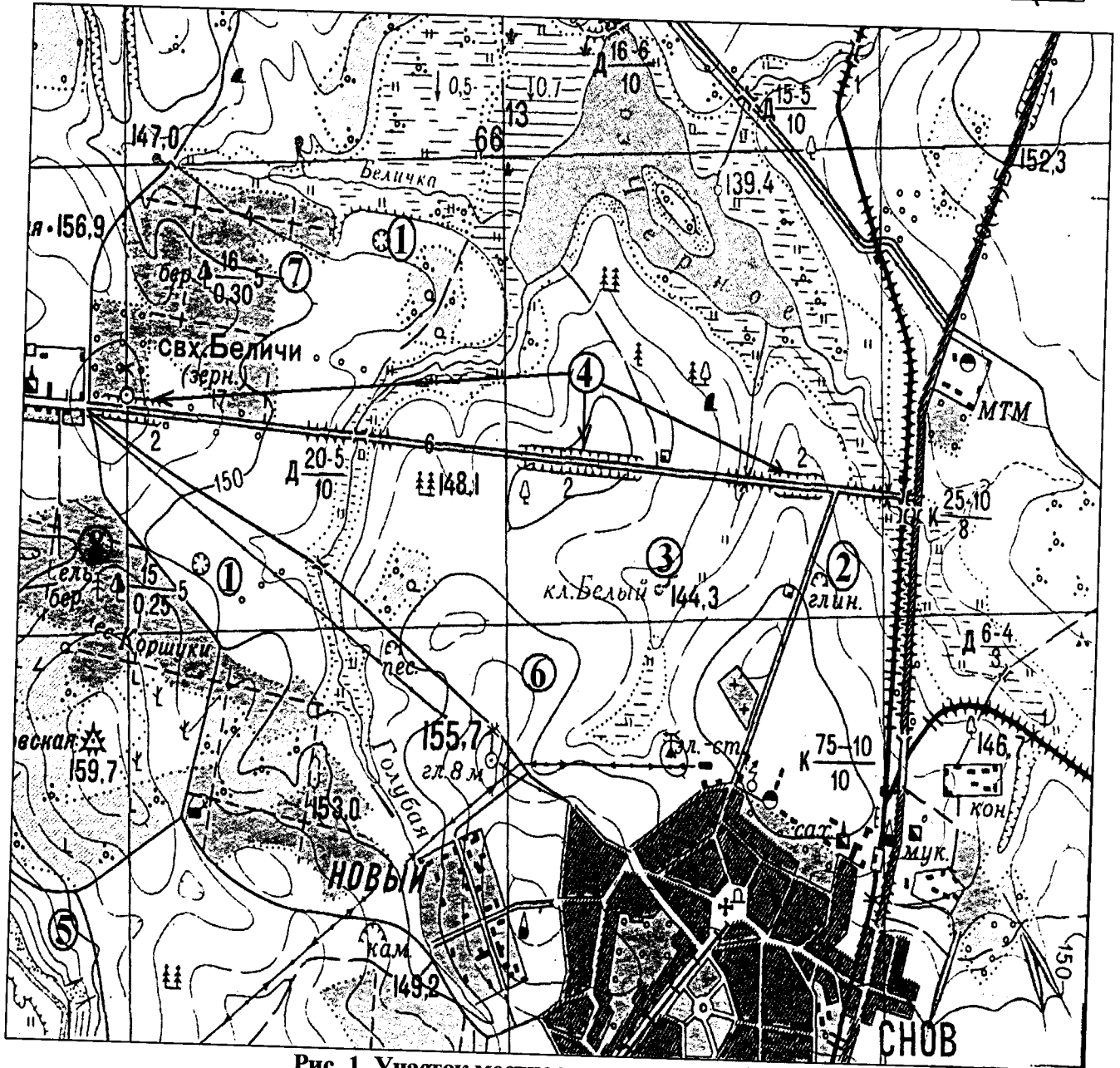


Рис. 1. Участок местности для задания 1

КОЛИЧЕСТВО БАЛЛОВ – 15

48

**Задание 2. «Озера России и мира».**

1. На карте, представленной на рисунке 2, цифрами отмечены некоторые крупнейшие и известные озера мира. Вам предстоит вспомнить названия этих озер и вписать их названия в предложенную ниже таблицу 1.

В качестве так любимыми Вами подсказок предоставляется список озер в алфавитном порядке, из которого Вам и предстоит выбрать названия озер, изображенных на карте: Аральское море, Байкал, Большое Медвежье, Большое Невольничье, Верхнее, Виктория, Виннипег, Гурон, Каспийское море, Маракайбо, Мертвое море, Мичиган, Ньяса, Онтарио, Танганьика, Титикака, Чад, Эйр, Эри. Вы можете потренироваться и подписать эти озера на представленной Вам карте, но проверяться будут только названия в таблице 1!

2. В таблице 2 представлены некоторые свойства и характеристики озер и их групп. Внимательно изучите их и впишите названия озер, особенности, соответствующие этим характеристикам или озерам, названия озер.

Таблица 1

№ озера на карте	Название	№ озера на карте	Название
1		11	Чад
2		12	
3		13	
4		14	<del>Эри</del> Эри
5		15	Каспийское море 0,5
6	Виктория	16	Мертвое море 0,5
7		17	Аральское море 0,5
8		18	Байкал 0,5
9		19	Эйр 0,5
10			

Таблица 2

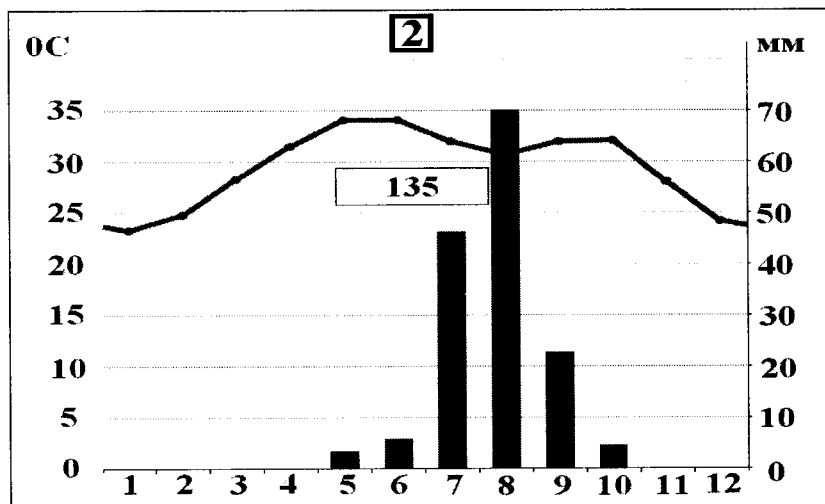
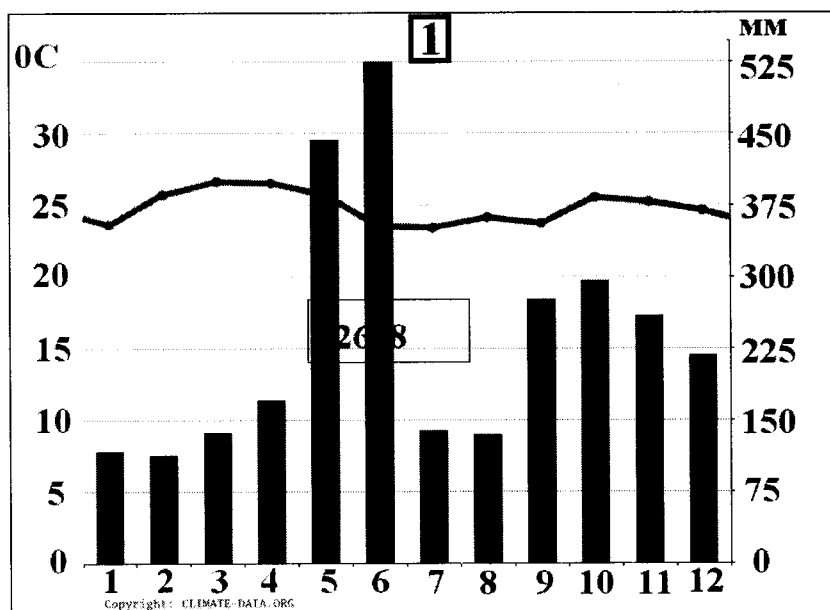
№	Характеристика озер или их групп	Ваш ответ
1.	Как называется группа озер, отмеченных цифрами 3, 4, 5, 6, 7?	Великие озера Северной Америки 1
2.	Между какими странами проходит государственная граница по озерам группы 3, 4, 5, 6, 7?	1. США . 1 2. Канада . 1
3.	В этом море-озере отмечен один из самых высоких показателей солености в мире (достигает 350‰)	Мертвое море 1
4.	На территории каких трех стран располагается озеро, обозначенное числом 16?	1. Египет . 2. Саудовская Аравия . 3. .
5.	Какое из указанных озер является самым глубоким озером мира. Напишите его название.	Байкал 1
6.	Какая особенность гидрологического режима характерна для озер, обозначенных числами 14 и 19?	Пересыхание 1
7.	Каким по происхождению является озеро под цифрой 9?	
8.	Какое из озер имеет выход к территории таких стран как Россия, Казахстан, Туркменистан, Иран, Азербайджан?	Каспийское море 1

№	Характеристика озер или их групп	Ваш ответ
9.	Как называется море-озеро, от акватории которого практически ничего не осталось (исчезающее озеро)?	Араальское море 1
10.	Озеро, название которого переводится с языка индейцев как «свинцовая гора».	
11.	Каково происхождение группы озер 3, 4, 5, 6, 7?	
12.	Какое озеро названо в честь королевы Великобритании (XIX в.)?	Виктория 1 9

КОЛИЧЕСТВО БАЛЛОВ – 25  
11,58

### Задание 3. «Климатическая прогулка».

1. Вам представлены на рассмотрение три диаграммы различных типов и подтипов климата Африки (1, 2 и 3). Внимательно изучите их и впишите номера диаграмм в соответствующие этим типам климата квадраты на карте Африки (рис. 3).



Крупнейшие озёра

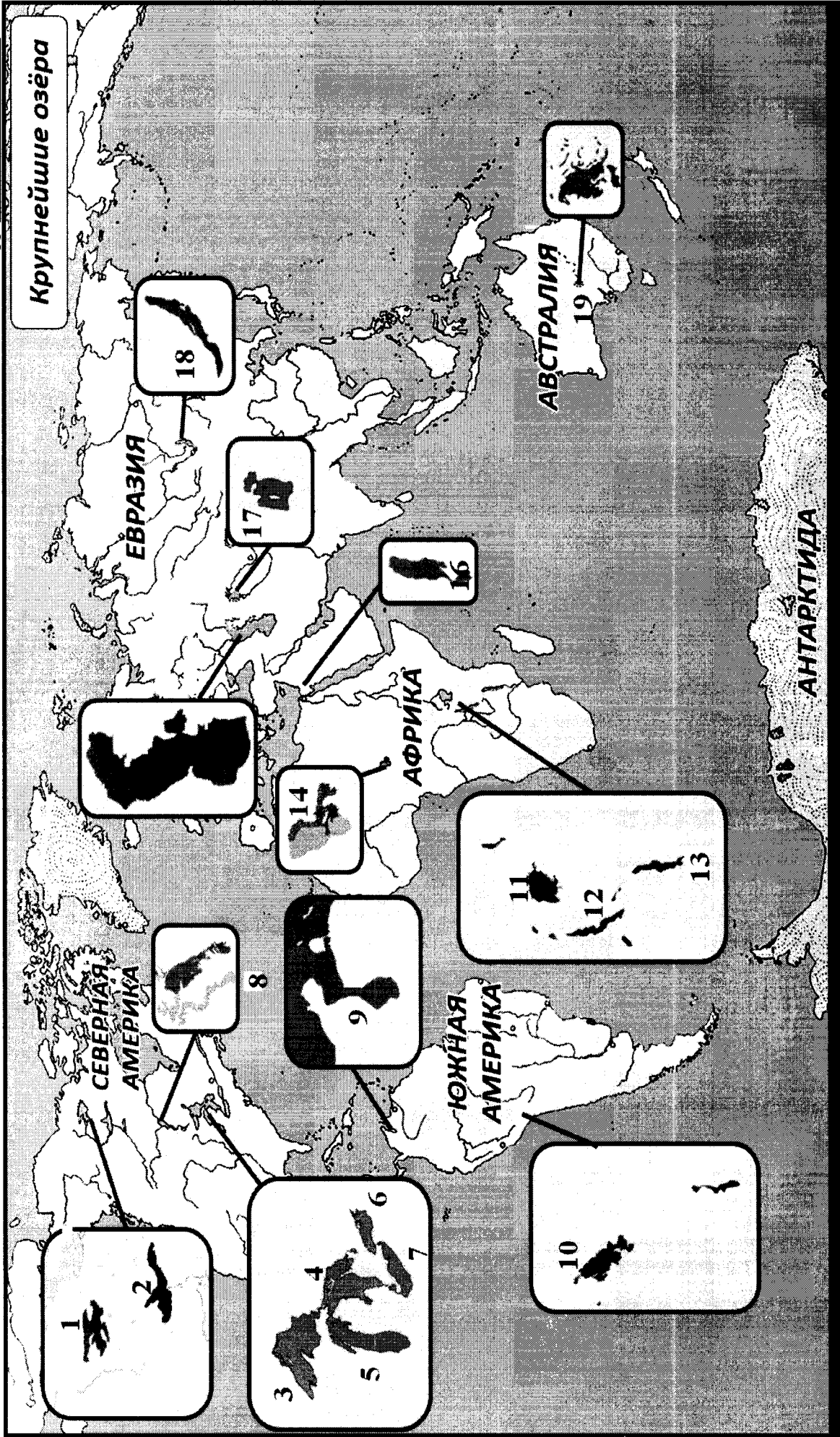
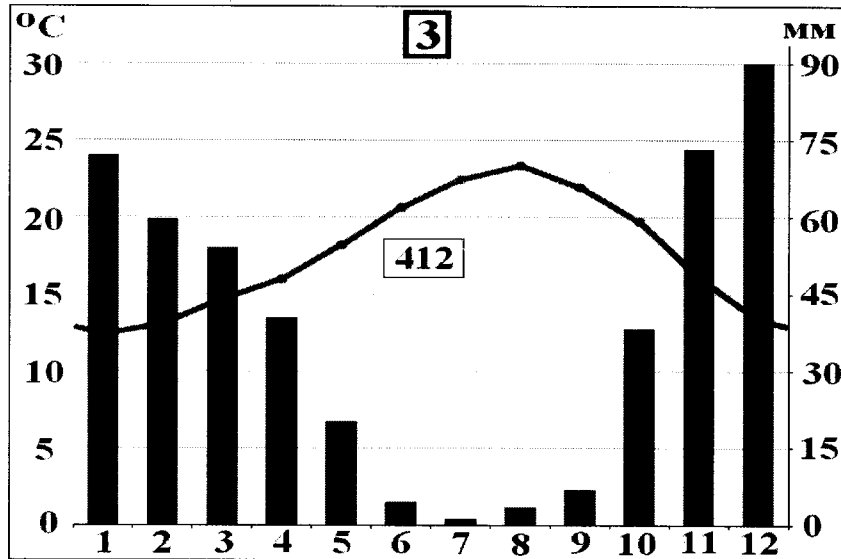


Рис. 2. Крупнейшие озера мира



2. Проведя исследование климатограмм, заполните таблицу 3.

Таблица 3

№ климатограммы	Определение параметров климата	Вывод о типе/подтипе климата
1	1. Годовое количество осадков: <u>262,8</u> мм; $0,5$ 2. Температура самого теплого месяца: <u>27</u> °C; $0,5$ 3. Температура самого холодного месяца: <u>22</u> °C; $0,5$ 4. Годовая амплитуда температуры: <u>4</u> °C $0,5$	Морской с малым количеством осадков 2
2	1. Годовое количество осадков: <u>135</u> мм; $0,5$ 2. Температура самого теплого месяца(ев): <u>34</u> °C; $0,5$ 3. Температура самого холодного месяца: <u>23</u> °C; $0,5$ 4. Годовая амплитуда температуры: <u>11</u> °C $0,5$	Морское, амплитудный большой осадков мало 2
3	1. Годовое количество осадков: <u>412</u> мм; $0,5$ 2. Температура самого теплого месяца(ев): <u>23</u> °C; $0,5$ 3. Температура самого холодного месяца: <u>12</u> °C; $0,5$ 4. Годовая амплитуда температуры: <u>11</u> °C; $0,5$ 5. Месяц с максимальным количеством осадков: <u>Декабрь</u> ; $0,5$ 6. Месяц с минимальным количеством осадков: <u>Июль</u> ; $0,5$	Морское, амплитудный большой осадков стабильно 3



Рис. 3. Африка

3. Ответьте на вопросы, связанные с формированием некоторых типов климата на изучаемой территории. Свои выводы запишите в таблицу 4 в соответствующие ячейки.

Таблица 4

№	Вопрос	Ответ
1.	Объясните, с чем связано различие значений температур и количества выпадаемых осадков в теплый и холодный период времени?	С тем что летом может быть экваториальный, а зимой тропический сейсмические набега.



№	Вопрос	Ответ
2.	С чем связано большое и постоянное по месяцам количество осадков в типе, климата, изображенном на диаграмме под номером 1?	Потому что в экваториальной сейсмической зоне.
3.	Как можно оценить суточные амплитуды температуры воздуха климата, представленного на диаграмме 2? С чем связаны такие значения суточных амплитуд?	
4.	На климат каких территорий Африки оказывают значительное влияние холодные океанические течения? Назовите эти течения. В чем проявляется их влияние на климат?	Территории: 1. _____; 2. _____; 3. _____. Течения: 1. _____; 2. _____; 3. _____. Влияние:
5.	Назовите ветры, которые дуют в Африке из тропических широт в экваториальные и имеют северо-восточное и юго-восточное направление (в зависимости от полушария).	

КОЛИЧЕСТВО БАЛЛОВ – 25




75


**Задание 4. «Виртуальная прогулка по странам».**

Вам предстоит виртуальная прогулка по некоторым странам мира. В таблице 5 представлены описания или фото-миниатюры особенностей или достопримечательностей некоторых стран мира. Вам необходимо ознакомиться с этими особенностями на миниатюрах и ответить на вопросы.

Таблица 5

№	Особенности и миниатюры	Вопросы
1.	<p>По ряду представленных фотографий определите, о какой стране идет речь.</p> 	<p>1. Название достопримечательности: _____.</p> <p>2. Страна: <u>Шотландия</u>.</p> <p>3. Столица: _____.</p> <p>4. Река, омывающая достопримечательность: _____.</p> <p>5. Название моста на 2 рисунке: _____.</p> <p>6. Как называются проливы между островами, на котором находится страна, и основной территорией Европейского континента:          1) _____;          2) _____.</p>
2.	<p>Какая страна изображена на фотографии-миниатюре?</p> 	<p>1. Страна: <u>Япония</u>. 0,5</p> <p>2. Столица этой страны: _____.</p> <p>3. Название священной горы (вулкана) этой страны: <u>Фудзияма</u>. 0,5</p> <p>4. Название большого количества островов, расположенных на небольшом расстоянии друг от друга (характерно для этой страны): _____.</p> <p>5. Цветок, воспеваемый в культуре этой страны и связанный со многими традициями: _____.</p> <p>6. Популярный ядовитый рыбный деликатес страны: <u>сашими</u>.</p> <p>7. Формальный глава этой страны: _____.</p> <p>8. Традиционная одежда этой страны: _____.</p> <p>9. Традиционный вид борьбы в стране: <u>Сумо</u>. 0,5</p>

№	Особенности и миниатюры	Вопросы
		
3.		<p>1. Эта страна находится на полуострове, расположенном между Аравийским морем и Бенгальским заливом.          Название полуострова: <u>Индостан</u> 0,5</p> <p>2. Название страны: <u>Индия</u> 0,5</p> <p>3. Столица этой страны: _____</p> <p>4. Священное животное в этой стране: <u>Корова</u> 0,5</p> <p>5. Главная административно-территориальная единица страны: _____</p> <p>6. Известный мавзолей-мечеть, расположенный в этой стране: _____</p> <p>7. Как называют жителей этой страны, приверженцев индуизма: _____</p> <p>8. Как называется островное государство, расположенное к югу от полуострова, на котором расположена исследуемая страна (остров имеет такое же название, как и страна): _____</p>
4.	<p>Эта страна находится на севере и западе самого большого полуострова Европы. Флаг этой страны – синий крест на красном фоне.</p> 	<p>1. Название самого большого полуострова Европы: <u>Скандинавский п-в</u> 0,5</p> <p>2. Название страны: <u>Норвегия</u> 0,5</p> <p>3. Столица этой страны: _____</p> <p>4. Самый большой северный сосед этой страны (страна): <u>Швеция</u></p> <p>5. Северный народ, живущий издревле на территории этой страны и упомянутом полуострове: <u>Скандинавский п-в</u></p> <p>6. Как называется корабль этого народа: _____</p>

№	Особенности и миниатюры	Вопросы
		

КОЛИЧЕСТВО БАЛЛОВ – 15

48

КОЛИЧЕСТВО БАЛЛОВ ЗА АНАЛИТИЧЕСКИЙ РАУНД – 80

ОБЩЕЕ КОЛИЧЕСТВО БАЛЛОВ – 100

$$105 + 27,5 = \underline{37,58}$$

Шифр 1-07-02

**ВСЕРОССИЙСКАЯ ОЛИМПИАДА ШКОЛЬНИКОВ 2020-2021 УЧ. Г.**  
**МУНИЦИПАЛЬНЫЙ ЭТАП**

География

7 класс

**Задания**

Общее время выполнения работы – **180 минут**.

На выполнение заданий I (тестового) раунда отводится **60 минут**. На II (аналитический) раунд отводится **120 минут**.

При ответе на задания запрещено пользоваться школьными и прочими атласами, справочными материалами, а также учебниками, мобильными телефонами, карманными компьютерами! Желаем успеха!

**I РАУНД (ТЕСТОВЫЙ)**

Ответьте на поставленные вопросы, выбрав **один** правильный вариант ответа. При ответе на вопросы будьте очень внимательны, так как некоторые вопросы требуют определить неверный вариант или имеют формулировку с отрицанием.

1. Выберите правильное сочетание «горная система – высочайшая точка»:

- 1) Альпы – г. Аконкагуа (6960 м); 2) Алтай – г. Белуха (4506 м);  
③) Большой Кавказ – Пик Коммунизма (7495 м); 4) Альпы – Эльбрус (5642 м).

2. Выберите вариант ответа, в котором представлены только страны южного полушария:

- 1) Алжир, Непал, Норвегия, Марокко; 2) Мексика, Дания, Швеция, Вьетнам;  
③) Танзания, Перу, Намибия, Новая Зеландия; 4) Испания, Франция, Австралия, Индия.

3. Выберите правильное утверждение о проливах Земли:

- ①) Мозамбикский пролив расположен между материком Африка и островом Мадагаскар;  
2) Пролив Дрейка расположен между Антарктидой и Австралией;  
3) Берингов пролив расположен между островом Гренландия и Северной Америкой;  
4) Баб-Эль-Мандебский пролив расположен между континентами Европа и Африка.

4. Выберите из предложенного списка морей самое соленое:

- 1) Охотское; ②) Аравийское; 3) Южно-Китайское; 4) Балтийское.

5. Выберите вариант ответа, в котом представлены объекты рельефа, расположенные **не** в Евразии:

- 1) г. Аконкагуа, г. Косцюшко, г. Килиманджаро, влк. Фудзияма;  
2) Великая Китайская равнина, Кордильеры, Скандинавские горы, Альпы;  
③) Атласские горы, Большой Водораздельный хребет, Анды, Капские горы;  
4) Карпаты, Апеннинские горы, Алтай, Уральские горы.

6. В каком из указанных районов не может быть действующих вулканов:

- 1) п-ов Камчатка; 2) Восточно-Африканское плоскогорье; 3) Анды;  
④) Амазонская низменность.

7. Как называются формы рельефа, создаваемые при помощи ветра:

- 1) моренные; ②) карстовые; 3) эоловые; 4) водноэрозийные.

8. В каком из климатических поясов наблюдается значительный летний пик осадков:

- 1) тропический; ②) экваториальный; 3) субтропический; 4) субэкваториальный.

9. Выберите вариант ответа, в котором указаны самые сухие места на Земле:

- 1) Сухие долины Антарктиды, пустыня Атакама, Египет;  
 2) гора Черапунджи, Бразильское плоскогорье, г. Сочи (Россия);  
 3) Восточно-Европейская равнина, г. Народная (Уральские горы), г. Оймякон (Россия);  
 4) о. Мадагаскар, Королевство Марокко, западное побережье Австралии.

10. Выберите группу географических объектов, которые наиболее подвержены влиянию тропических циклонов:

- 1) западное побережье Скандинавского п-ва, п-ов Лабрадор, Алеутские о-ва;  
 2) п-ов Индокитай, Малаккский п-ов, побережья Аргентины, Уругвая и Бразилии;  
 3) побережье, омываемое морем Амундсена, Земля Королевы Мод, Земля Уилкса;  
 4) большая часть территории Канады, о. Гренландия, Чукотский п-ов.

11. Выберите группу стран, расположенных в умеренном климатическом поясе:

- 1) Испания, Португалия, Греция; 2) Мавритания, Чад, Эфиопия;  
 3) Великобритания, Монголия, Чехия; 4) Мексика, Куба, Венесуэла.

12. Укажите вариант ответа, в котором представлены только полезные ископаемые, применяемые как строительные материалы или сырье для их производства:

- 1) торф, каменный уголь, фосфориты, гипс; 2) природный газ, нефть, полевой шпат;  
 3) калийные соли, бокситы, сера, нефелины; 4) гранит, мрамор, песок, глина.

13. Выберите вариант ответа, в котором верно указано соответствие «Полуостров – государство, на котором оно находится»:

- 1) п-ов Индокитай – Вьетнам; 2) п-ов Лабрадор – Мексика;  
 3) п-ов Сомали – Мавритания; 4) Малаккский п-ов – Филиппины.

14. Укажите вариант ответа, в котором правильно указано соответствие «столицы стран мира – материк»:

- 1) Луанда, Найроби, Нуакшот – Северная Америка;  
 2) Каракас, Джорджтаун, Асунсьон – Южная Америка;  
 3) Тирана, Улан-Батор, Бишкек – Африка; 4) Манагуа, Тегусигальпа, Панама – Евразия.

15. Выберите вариант ответа, в котором указано государство с наименьшей плотностью населения: 1) Намибия; 2) Эфиопия; 3) Республика Корея; 4) Швейцария.

16. Укажите верное соотношение «Пустыня – материк»:

- 1) пустыня Виктория – Северная Америка; 2) пустыня Атакама – Африка;  
 3) пустыня Гоби – Евразия; 4) пустыня Калахари – Южная Америка.

17. Выберите **неправильное** утверждение:

- 1) Красное море омывает северо-восточное побережье Африки и юго-западное побережье Аравийского полуострова;  
 2) Атласские горы расположены на северо-западе Африки;  
 3) Аденский залив омывает берега государства Сомали;  
 4) чтобы попасть по суше от побережья Средиземного моря к мысу Доброй Надежды необходимо двигаться на север.

18. Укажите правильное сочетание «Исследователь – географический регион, в котором работал»:

- 1) Д. Ливингстон – Африка; 2) Д. Кук – п-ов Аляска;  
 3) Пржевальский – Канадский Арктический архипелаг;  
 4) М.П. Лазарев, Ф.Ф. Беллинсгаузен – Средиземное море.

19. Выберите правильное утверждение, говорящее о распространении природной зоны в конкретном географическом объекте:

- †
- 1) тропические пустыни – Среднесибирское плоскогорье;
  - 2) влажные экваториальные леса – побережье Гвинейского залива;
  - 3) тундра и лесотундра – побережье Мексиканского залива;
  - 4) саванны и редколесья – побережье Средиземного моря.

— 20. Выберите правильное утверждение «Океаническое течение – океан»:

- 1) Гольфстрим – Индийский;
- 2) Фолклендское – Северный Ледовитый;
- 3) Куроисио – Тихий;
- 4) Перуанское – Атлантический.

**КОЛИЧЕСТВО БАЛЛОВ ЗА ТЕСТОВЫЙ РАУНД – 20**

27,58

Шифр №-07-02

**ВСЕРОССИЙСКАЯ ОЛИМПИАДА ШКОЛЬНИКОВ 2020-2021 УЧ. Г.**  
**МУНИЦИПАЛЬНЫЙ ЭТАП**

География

7 класс

**Задания****II РАУНД (АНАЛИТИЧЕСКИЙ)**

На II (аналитический) раунд отводится **120 минут**.

При ответе на задания запрещено пользоваться школьными и прочими атласами, справочными материалами, а также учебниками, мобильными телефонами, карманными компьютерами! Желаем успеха!

**Задание 1. «Картография».**

Вашему вниманию представляется фрагмент топографической карты участка местности. Необходимо его изучить и ответить на ряд вопросов. Результаты своего картографического исследования необходимо оформить в предложенной таблице.

№	Вопрос	Ответ	
1.	Какие объекты антропогенного рельефа обозначены цифрой 1?	овраг.	-
2.	Какой вид минерального сырья добывается на объекте под номером 2? Как называется этот объект?	Сырье: <u>глина</u> . Объект: <u>карьер</u> .	0,5 0,5
3.	Какой гидрографический объект расположен под номером 3? На какой абсолютной высоте находится этот объект?	Объект: <u>родник</u> . Высота: <u>144,3</u> м.	0,5 0,5
4.	Какая часть участка местности наиболее заболочена (указать сторону горизонта)?	<u>Северная</u> <u>часть.</u>	0,5
5.	Какая максимальная высота фиксируется на предложенном участке местности?	<u>156,9</u> м	-
6.	В каком направлении и по какому азимуту необходимо двигаться, чтобы попасть из совхоза Беличи в город Снов (для точности измерения примите за точки отсчета примерные геометрические центры объектов)?	Направление: <u>Ю/В.</u> Азимут: <u>135°</u> .	0,5
7.	Какие объекты обозначены стрелками на карте под цифрой 4? Какова глубина этих объектов?	Объект: <u>овраг</u> . Глубина: <u>2</u> м.	0,5
8.	Разъедутся ли два грузовых автомобиля, каждый из которых имеет ширину 3,5 м, следующие из совхоза Беличи по проезжей части шоссе, идущему в восточном направлении? Свой ответ обоснуйте.	<u>Нет</u> Обоснование: <u>Дорога 6 м</u> <u>Грузовой автомобиль</u> <u>3,5 м.</u> <u>(7 &gt; 6)</u> <u>3,5 + 3,5 = 7 м</u>	18 18
9.	Какие хозяйственные объекты можно увидеть на карте в городе Снов?	<u>Церковь, кладбище,</u> <u>завод.</u>	
10.	Какой из склонов – под цифрой 5 или под цифрой 6 – будет круче?	Под цифрой <u>5</u> .	18



№	Вопрос	Ответ
11.	В каком из лесов древесина будет более зрелая (толщина стволов больше) – под цифрой 7 или 8?	Под цифрой <u>7</u> .
12.	В каком из лесов можно добывать хвойную древесину (лес под цифрой 7 или 8)?	Под цифрой <u>8</u> .
13.	По какой антропогенной форме рельефа (созданной человеком) проходят железные дороги на представленном плане местности?	<u>По равнине.</u>
14.	К какой природной зоне относится данный участок местности?	<u>Равнина.</u>

15  
15

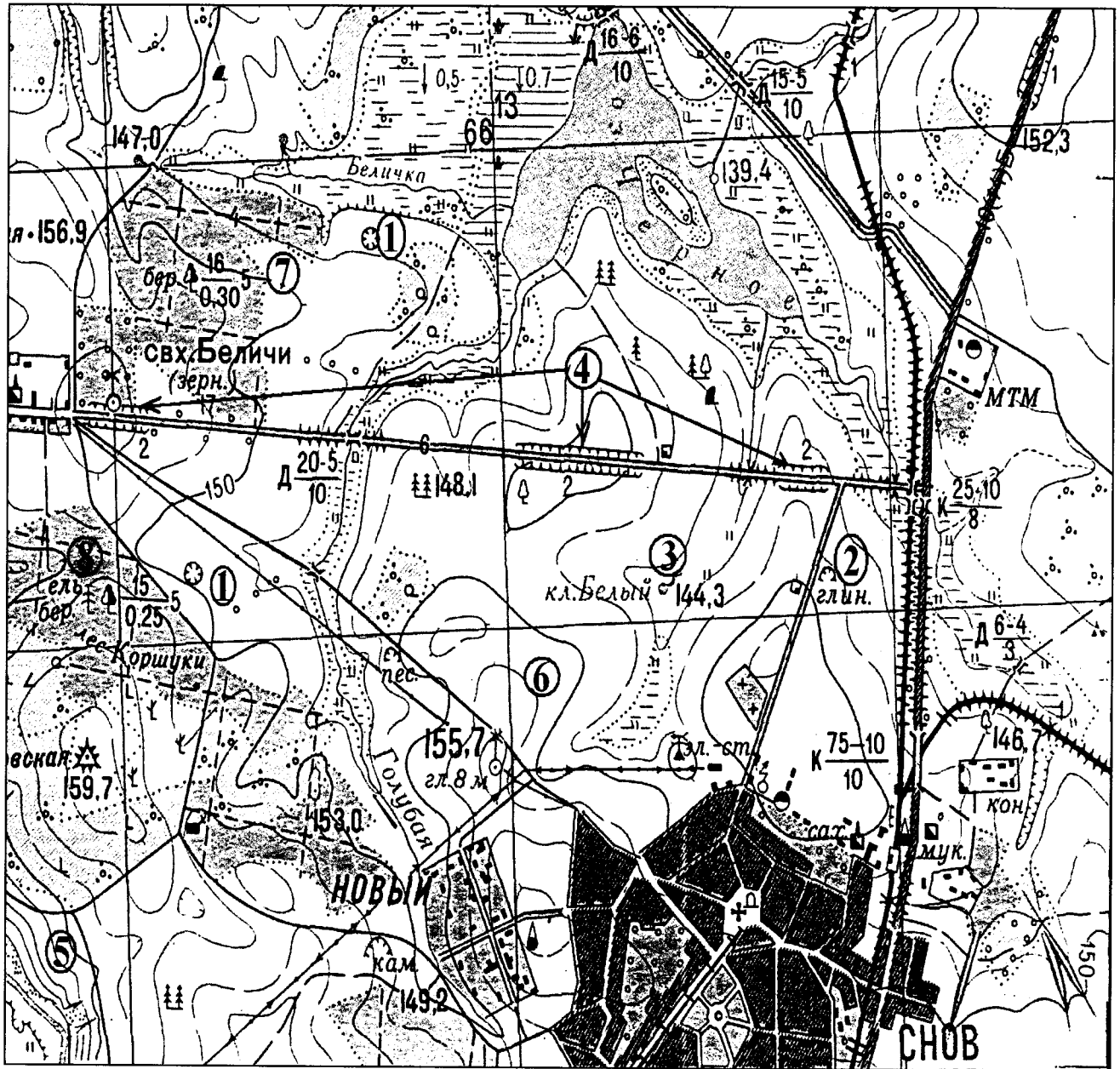


Рис. 1. Участок местности для задания 1

КОЛИЧЕСТВО БАЛЛОВ – 15

8,58

**Задание 2. «Озера России и мира».**

1. На карте, представленной на рисунке 2, цифрами отмечены некоторые крупнейшие и известные озера мира. Вам предстоит вспомнить названия этих озер и вписать их названия в предложенную ниже таблицу 1.

В качестве так любимыми Вами подсказок предоставляется список озер в алфавитном порядке, из которого Вам и предстоит выбрать названия озер, изображенных на карте: *Аральское море, Байкал, Большое Медвежье, Большое Невольничье, Верхнее, Виктория, Виннипег, Гурон, Каспийское море, Маракайбо, Мертвое море, Мичиган, Ньяса, Онтарио, Танганьика, Титикака, Чад, Эйр, Эри*. Вы можете потренироваться и подписать эти озера на представленной Вам карте, но проверяться будут только названия в таблице 1!

2. В таблице 2 представлены некоторые свойства и характеристики озер и их групп. Внимательно изучите их и впишите названия озер, особенности, соответствующие этим характеристикам или озерам, названия озер.

Таблица 1

№ озера на карте	Название	№ озера на карте	Название
1	<i>Верхнее</i>	11	
2		12	<i>Виктория</i>
3		13	
4		14	<i>Чад</i> 0,5
5		15	<i>Каспийское море.</i> 0,5
6		16	<i>Мертвое море.</i> 0,5
7		17	<i>Аральское море.</i> 0,5
8		18	<i>Байкал</i> 0,5
9		19	
10			<i>2,50</i>

Таблица 2

№	Характеристика озер или их групп	Ваш ответ
1.	Как называется группа озер, отмеченных цифрами 3, 4, 5, 6, 7?	
2.	Между какими странами проходит государственная граница по озерам группы 3, 4, 5, 6, 7?	1. <i>Канада</i> 1. 2. <i>США</i> 1.
3.	В этом море-озере отмечен один из самых высоких показателей солености в мире (достигает 350‰)	<i>Мертвое море.</i> 1
4.	На территории каких трех стран располагается озеро, обозначенное числом 16?	1. _____ 2. _____ 3. _____
5.	Какое из указанных озер является самым глубоким озером мира. Напишите его название.	<i>Байкал.</i> 1
6.	Какая особенность гидрологического режима характерна для озер, обозначенных числами 14 и 19?	<i>Пустыня.</i>
7.	Каким по происхождению является озеро под цифрой 9?	
8.	Какое из озер имеет выход к территории таких стран как Россия, Казахстан, Туркменистан, Иран, Азербайджан?	<i>Каспийское море.</i> 1

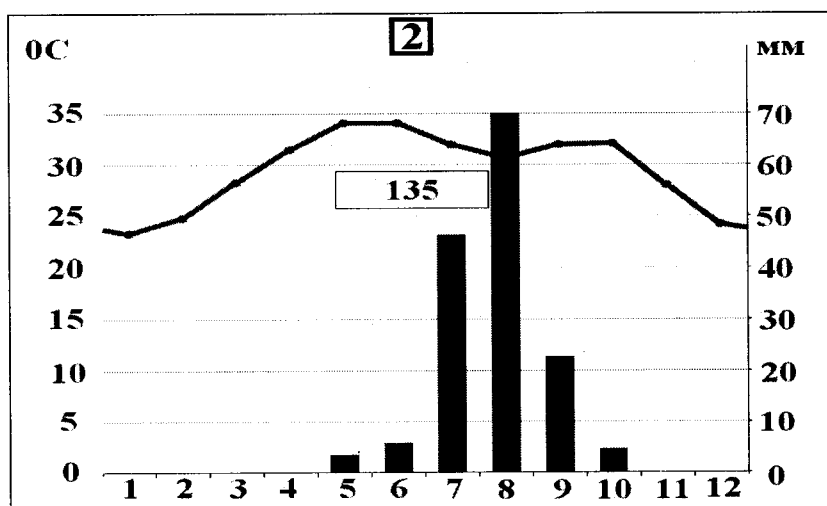
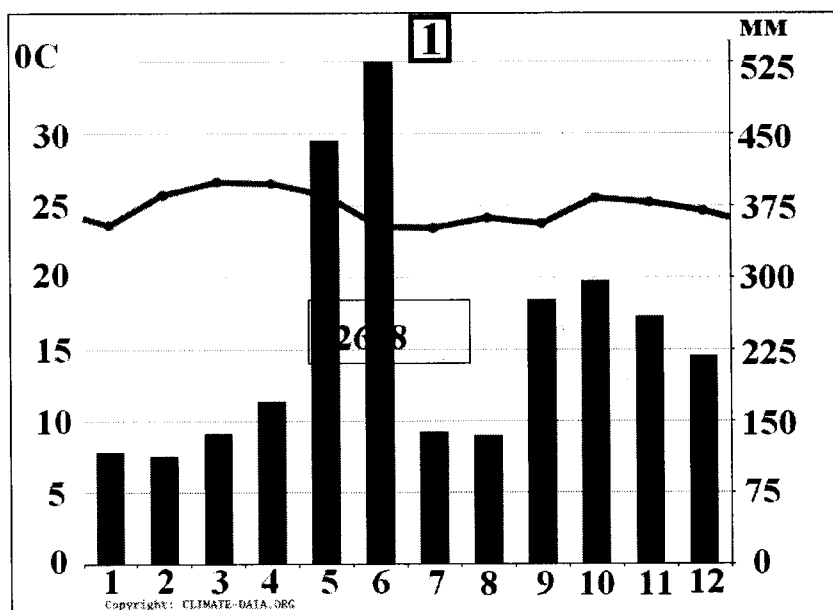
№	Характеристика озер или их групп	Ваш ответ
9.	Как называется море-озеро, от акватории которого практически ничего не осталось (исчезающее озеро)?	Аральское море. 1
10.	Озеро, название которого переводится с языка индейцев как «свинцовая гора».	Мичиган
11.	Каково происхождение группы озер 3, 4, 5, 6, 7?	Землетрясение. Поскопление плит.
12.	Какое озеро названо в честь королевы Великобритании (XIX в.)?	оз. Виктория 1 75

КОЛИЧЕСТВО БАЛЛОВ - 25

25+7=32

**Задание 3. «Климатическая прогулка».**

1. Вам представлены на рассмотрение три диаграммы различных типов и подтипов климата Африки (1, 2 и 3). Внимательно изучите их и впишите номера диаграмм в соответствующие этим типам климата квадраты на карте Африки (рис. 3).



Шифр

Крупнейшие озёра

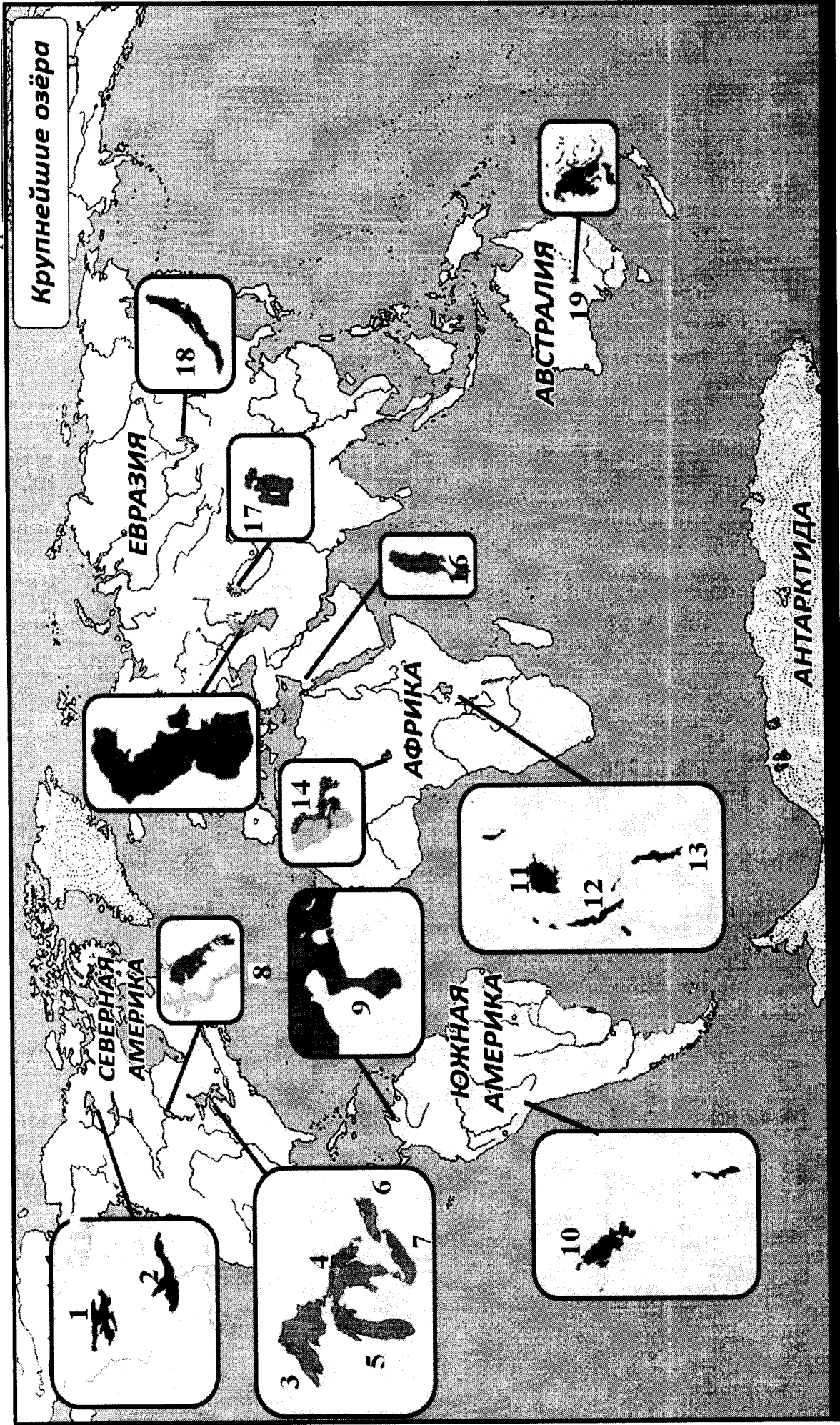
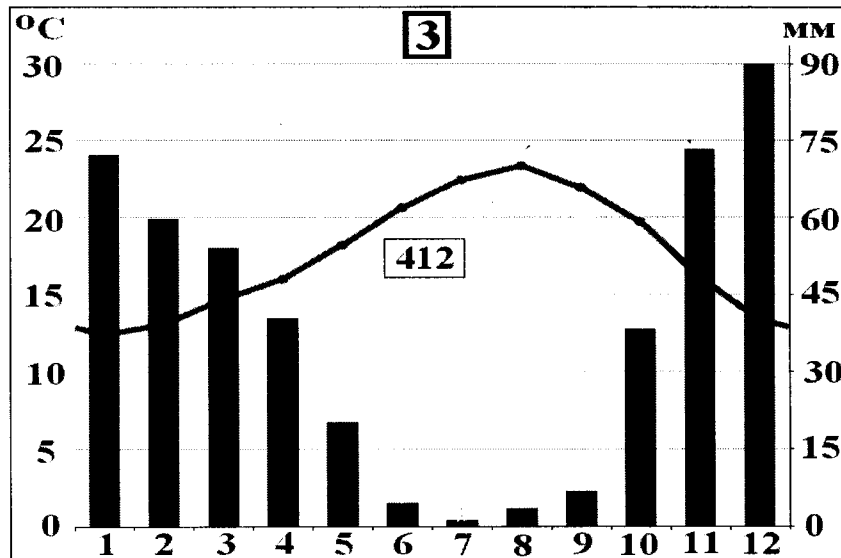


Рис. 2. Крупнейшие озера мира



2. Проведя исследование климатограмм, заполните таблицу 3.

Таблица 3

№ климатограммы	Определение параметров климата	Вывод о типе/подтипе климата
1	1. Годовое количество осадков: <u>525</u> мм; 2. Температура самого теплого месяца: <u>35</u> °C; 3. Температура самого холодного месяца: <u>7</u> °C; 4. Годовая амплитуда температуры: <u>42</u> °C	
2	1. Годовое количество осадков: <u>70</u> мм; 2. Температура самого теплого месяца(ев): <u>35</u> °C; 3. Температура самого холодного месяца: <u>4</u> °C; 4. Годовая амплитуда температуры: <u>39</u> °C	
3	1. Годовое количество осадков: <u>90</u> мм; 2. Температура самого теплого месяца(ев): <u>30</u> °C; 3. Температура самого холодного месяца: <u>1</u> °C; 4. Годовая амплитуда температуры: <u>31</u> °C; 5. Месяц с максимальным количеством осадков: <u>декабрь.</u> ; <u>0,5</u> 6. Месяц с минимальным количеством осадков: <u>Июль.</u> . <u>0,5</u>	

18



Рис. 3. Африка

3. Ответьте на вопросы, связанные с формированием некоторых типов климата на изучаемой территории. Свои выводы запишите в таблицу 4 в соответствующие ячейки.

Таблица 4

№	Вопрос	Ответ
1.	Объясните, с чем связано различие значений температур и количества выпадаемых осадков в теплый и холодный период времени?	В тёплый период воздух расширяется и нагревается. В холодный период воздух сжимается и охлаждается.

№	Вопрос	Ответ
2.	С чем связано большое и постоянное по месяцам количество осадков в типе, климата, изображенном на диаграмме под номером 1?	<i>Арктика находится в экваториальных широтах.</i>
3.	Как можно оценить суточные амплитуды температуры воздуха климата, представленного на диаграмме 2? С чем связаны такие значения суточных амплитуд?	
4.	На климат каких территорий Африки оказывают значительное влияние холодные океанические течения? Назовите эти течения. В чем проявляется их влияние на климат?	Территории: 1. _____; 2. _____; 3. _____. Течения: 1. _____; 2. _____; 3. _____. Влияние:
5.	Назовите ветры, которые дуют в Африке из тропических широт в экваториальные и имеют северо-восточное и юго-восточное направление (в зависимости от полушария).	<i>Пассаты.</i>  <i>15</i>



КОЛИЧЕСТВО БАЛЛОВ – 25

*25**15*








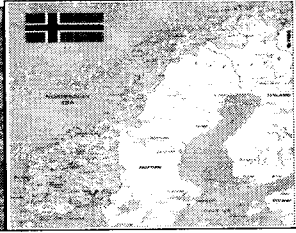
**Задание 4. «Виртуальная прогулка по странам».**

Вам предстоит виртуальная прогулка по некоторым странам мира. В таблице 5 представлены описания или фото-миниатюры особенностей или достопримечательностей некоторых стран мира. Вам необходимо ознакомиться с этими особенностями на миниатюрах и ответить на вопросы.

Таблица 5

№	Особенности и миниатюры	Вопросы
1.	<p>По ряду представленных фотографий определите, о какой стране идет речь.</p> 	<p>1. Название достопримечательности: <u>Лондонский Тауэр.</u> 0,5</p> <p>2. Страна: <u>Великобритания.</u> 0,5</p> <p>3. Столица: <u>Лондон.</u> 0,5</p> <p>4. Река, омывающая достопримечательность: <u>Темза.</u> 0,5</p> <p>5. Название моста на 2 рисунке: <u>Тауэрский мост.</u> 0,5</p> <p>6. Как называются проливы между островами, на котором находится страна, и основной территорией Европейского континента:</p> <p>1) _____;</p> <p>2) _____.</p>
2.	<p>Какая страна изображена на фотографии-миниатюре?</p> 	<p>1. Страна: <u>Япония</u> 0,5</p> <p>2. Столица этой страны: <u>Токио.</u> 0,5</p> <p>3. Название священной горы (вулкана) этой страны: <u>Фудзияма.</u> 0,5</p> <p>4. Название большого количества островов, расположенных на небольшом расстоянии друг от друга (характерно для этой страны): _____.</p> <p>5. Цветок, воспеваемый в культуре этой страны и связанный со многими традициями: <u>сакура.</u> 0,5</p> <p>6. Популярный ядовитый рыбный деликатес страны: <u>рыба Фуку.</u> 0,5</p> <p>7. Формальный глава этой страны: _____.</p> <p>8. Традиционная одежда этой страны: _____.</p> <p>9. Традиционный вид борьбы в стране: <u>Дзюджитсу Сумо.</u> 0,5</p>



№	Особенности и миниатюры	Вопросы
	 	
3.	   	<p>1. Эта страна находится на полуострове, расположенном между Аравийским морем и Бенгальским заливом.          Название полуострова: <u>Индостан</u>. 0,5</p> <p>2. Название страны: <u>Индия</u>. 0,5</p> <p>3. Столица этой страны: _____.</p> <p>4. Священное животное в этой стране: <u>Корова</u>. 0,5</p> <p>5. Главная административно-территориальная единица страны: _____.</p> <p>6. Известный мавзолей-мечеть, расположенный в этой стране: _____.</p> <p>7. Как называют жителей этой страны, приверженцев индуизма: <u>Буддисты</u>.</p> <p>8. Как называется островное государство, расположенное к югу от полуострова, на котором расположена исследуемая страна (остров имеет такое же название, как и страна): _____.</p>
4.	<p>Эта страна находится на севере и западе самого большого полуострова Европы. Флаг этой страны – синий крест на красном фоне.</p>  	<p>1. Название самого большого полуострова Европы: _____.</p> <p>2. Название страны: <u>Португалия</u>.</p> <p>3. Столица этой страны: _____.</p> <p>4. Самый большой северный сосед этой страны (страна): _____.</p> <p>5. Северный народ, живущий издревле на территории этой страны и упомянутом полуострове: <u>Викинги</u>. 0,5</p> <p>6. Как называется корабль этого народа: <u>Лодья</u>.</p>

№	Особенности и миниатюры	Вопросы
		

КОЛИЧЕСТВО БАЛЛОВ – 15

7,5

КОЛИЧЕСТВО БАЛЛОВ ЗА АНАЛИТИЧЕСКИЙ РАУНД – 80

ОБЩЕЕ КОЛИЧЕСТВО БАЛЛОВ – 100

128 + 20,58 = 32,58

Шифр № 07-01

**ДЛЯ УЧАСТНИКОВ**  
**ВСЕРОССИЙСКАЯ ОЛИМПИАДА ШКОЛЬНИКОВ 2020-2021 УЧ. Г.**  
**МУНИЦИПАЛЬНЫЙ ЭТАП**

*География*

*7 класс*

**Задания**

Общее время выполнения работы – **180 минут**.

На выполнение заданий I (тестового) раунда отводится **60 минут**. На II (аналитический) раунд отводится **120 минут**.

При ответе на задания запрещено пользоваться школьными и прочими атласами, справочными материалами, а также учебниками, мобильными телефонами, карманными компьютерами! Желаем успеха!

**I РАУНД (ТЕСТОВЫЙ)**

Ответьте на поставленные вопросы, выбрав **один** правильный вариант ответа. При ответе на вопросы будьте очень внимательны, так как некоторые вопросы требуют определить неверный вариант или имеют формулировку с отрицанием.

1. Выберите правильное сочетание «горная система – высочайшая точка»:

- 1) Альпы – г. Аконкагуа (6960 м); 2) Алтай – г. Белуха (4506 м);  
③ Большой Кавказ – Пик Коммунизма (7495 м); 4) Альпы – Эльбрус (5642 м).

2. Выберите вариант ответа, в котором представлены только страны южного полушария:

- + 1) Алжир, Непал, Норвегия, Марокко; 2) Мексика, Дания, Швеция, Вьетнам;  
③ Танзания, Перу, Намибия, Новая Зеландия; 4) Испания, Франция, Австралия, Индия.

3. Выберите правильное утверждение о проливах Земли:

- 1) Мозамбикский пролив расположен между материком Африка и островом Мадагаскар;  
2) Пролив Дрейка расположен между Антарктидой и Австралией;  
③ Берингов пролив расположен между островом Гренландия и Северной Америкой;  
④ Баб-Эль-Мандебский пролив расположен между континентами Европа и Африка.

4. Выберите из предложенного списка морей самое соленое:

- + 1) Охотское; ② Аравийское; ③ Южно-Китайское; 4) Балтийское.

5. Выберите вариант ответа, в котом представлены объекты рельефа, расположенные **не** в Евразии:

- + 1) г. Аконкагуа, г. Косцюшко, г. Килиманджаро, влк. Фудзияма;  
2) Великая Китайская равнина, Кордильеры, Скандинавские горы, Альпы;  
③ Атласские горы, Большой Водораздельный хребет, Анды, Капские горы;  
4) Карпаты, Апеннинские горы, Алтай, Уральские горы.

6. В каком из указанных районов не может быть действующих вулканов:

- + 1) п-ов Камчатка; 2) Восточно-Африканское плоскогорье; 3) Анды;  
④ Амазонская низменность.

7. Как называются формы рельефа, создаваемые при помощи ветра:

- + 1) моренные; 2) карстовые; ③ эоловые; 4) водноэрозионные.

8. В каком из климатических поясов наблюдается значительный летний пик осадков:

- 1) тропический; 2) экваториальный; ③ субтропический; 4) субэкваториальный.

9. Выберите вариант ответа, в котором указаны самые сухие места на Земле:

- +  1) Сухие долины Антарктиды, пустыня Атакама, Египет;  
 2) гора Черапунджи, Бразильское плоскогорье, г. Сочи (Россия);  
 3) Восточно-Европейская равнина, г. Народная (Уральские горы), г. Оймякон (Россия);  
 4) о. Мадагаскар, Королевство Марокко, западное побережье Австралии.

10. Выберите группу географических объектов, которые наиболее подвержены влиянию тропических циклонов:

- +  1) западное побережье Скандинавского п-ва, п-ов Лабрадор, Алеутские о-ва;  
 2) п-ов Индокитай, Малаккский п-ов, побережья Аргентины, Уругвая и Бразилии;  
 3) побережье, омываемое морем Амундсена, Земля Королевы Мод, Земля Уилкса;  
 4) большая часть территории Канады, о. Гренландия, Чукотский п-ов.

11. Выберите группу стран, расположенных в умеренном климатическом поясе:

- 1) Испания, Португалия, Греция; 2) Мавритания, Чад, Эфиопия;  
 3) Великобритания, Монголия, Чехия; 4) Мексика, Куба, Венесуэла.

12. Укажите вариант ответа, в котором представлены только полезные ископаемые, применяемые как строительные материалы или сырье для их производства:

- +  1) торф, каменный уголь, фосфориты, гипс; 2) природный газ, нефть, полевой шпат;  
 3) калийные соли, бокситы, сера, нефелины;  4) гранит, мрамор, песок, глина.

13. Выберите вариант ответа, в котором верно указано соответствие «Полуостров – государство, на котором оно находится»:

- +  1) п-ов Индокитай – Вьетнам; 2) п-ов Лабрадор – Мексика;  
 3) п-ов Сомали – Мавритания; 4) Малаккский п-ов – Филиппины.

14. Укажите вариант ответа, в котором правильно указано соответствие «столицы стран мира – материк»:

- +  1) Луанда, Найроби, Нуакшот – Северная Америка;  
 2) Каракас, Джорджтаун, Асунсьон – Южная Америка;  
 3) Тирана, Улан-Батор, Бишкек – Африка; 4) Манагуа, Тегусигальпа, Панама – Евразия.

— 15. Выберите вариант ответа, в котором указано государство с наименьшей плотностью населения: 1) Намибия; 2) Эфиопия; 3) Республика Корея;  4) Швейцария.

— 16. Укажите верное соотношение «Пустыня – материк»:

- 1) пустыня Виктория – Северная Америка; 2) пустыня Атакама – Африка;  
 3) пустыня Гоби – Евразия;  4) пустыня Калахари – Южная Америка.

17. Выберите **неправильное** утверждение:

- +  1) Красное море омывает северо-восточное побережье Африки и юго-западное побережье Аравийского полуострова;  
 2) Атласские горы расположены на северо-западе Африки;  
 3) Аденский залив омывает берега государства Сомали;  
 4) чтобы попасть по суше от побережья Средиземного моря к мысу Доброй Надежды необходимо двигаться на север.

— 18. Укажите правильное сочетание «Исследователь – географический регион, в котором работал»:

- 1) Д. Ливингстон – Африка; 2) Д. Кук – п-ов Аляска;  
 3) Пржевальский – Канадский Арктический архипелаг;  
 4) М.П. Лазарев, Ф.Ф. Беллинсгаузен – Средиземное море.

19. Выберите правильное утверждение, говорящее о распространении природной зоны в конкретном географическом объекте:

- + 1) тропические пустыни – Среднесибирское плоскогорье;  
② 2) влажные экваториальные леса – побережье Гвинейского залива;  
3) тундра и лесотундра – побережье Мексиканского залива;  
4) саванны и редколесья – побережье Средиземного моря.

— 20. Выберите правильное утверждение «Океаническое течение – океан»:

- 1) Гольфстрим – Индийский; ② 2) Фолклендское – Северный Ледовитый;  
3) Куроисио – Тихий; 4) Перуанское – Атлантический.

**КОЛИЧЕСТВО БАЛЛОВ ЗА ТЕСТОВЫЙ РАУНД – 20**

20,55

Шифр Р-07-01

**ДЛЯ УЧАСТНИКОВ**  
**ВСЕРОССИЙСКАЯ ОЛИМПИАДА ШКОЛЬНИКОВ 2020-2021 УЧ. Г.**  
**МУНИЦИПАЛЬНЫЙ ЭТАП**

География

7 класс

**Задания****II РАУНД (АНАЛИТИЧЕСКИЙ)**

На II (аналитический) раунд отводится **120 минут**.

При ответе на задания запрещено пользоваться школьными и прочими атласами, справочными материалами, а также учебниками, мобильными телефонами, карманными компьютерами! Желаем успеха!

**Задание 1. «Картография».**

Вашему вниманию представляется фрагмент топографической карты участка местности. Необходимо его изучить и ответить на ряд вопросов. Результаты своего картографического исследования необходимо оформить в предложенной таблице.

№	Вопрос	Ответ	
1.	Какие объекты антропогенного рельефа обозначены цифрой 1?		
2.	Какой вид минерального сырья добывается на объекте под номером 2? Как называется этот объект?	Сырье: <u>шина</u> . Объект: <u>обвал</u> .	0,5 -
3.	Какой гидрографический объект расположен под номером 3? На какой абсолютной высоте находится этот объект?	Объект: <u>родник</u> . Высота: <u>144,3</u> м.	0,5 0,5
4.	Какая часть участка местности наиболее заболочена (указать сторону горизонта)?	<u>север</u>	0,5
5.	Какая максимальная высота фиксируется на предложенном участке местности?	<u>159,7</u> м	0,5
6.	В каком направлении и по какому азимуту необходимо двигаться, чтобы попасть из совхоза Беличи в город Снов (для точности измерения примите за точки отсчета примерные геометрические центры объектов)?	Направление: <u>юго-восток</u> . Азимут: <u>325°</u> .	0,5 -
7.	Какие объекты обозначены стрелками на карте под цифрой 4? Какова глубина этих объектов?	Объект: <u>ямы</u> . Глубина: <u>2</u> м.	- 0,5
8.	Разъедутся ли два грузовых автомобиля, каждый из которых имеет ширину 3,5 м, следующие из совхоза Беличи по проезжей части шоссе, идущему в восточном направлении? Свой ответ обоснуйте.	<u>нет</u> Обоснование: т.к. ширина шоссе меньше чем суммарная ширина грузовых автомобилей.	1 1
9.	Какие хозяйственные объекты можно увидеть на карте в городе Снов?	<u>сад, кладбище, церковь</u>	-
10.	Какой из склонов – под цифрой 5 или под цифрой 6 – будет круче?	Под цифрой <u>5</u> .	1

№	Вопрос	Ответ
11.	В каком из лесов древесина будет более зрелая (толщина стволов больше) – под цифрой 7 или 8?	Под цифрой <u>8</u> .
12.	В каком из лесов можно добывать хвойную древесину (лес под цифрой 7 или 8)?	Под цифрой <u>8</u> .
13.	По какой антропогенной форме рельефа (созданной человеком) проходят железные дороги на представленном плане местности?	
14.	К какой природной зоне относится данный участок местности?	<u>лесостепь</u>

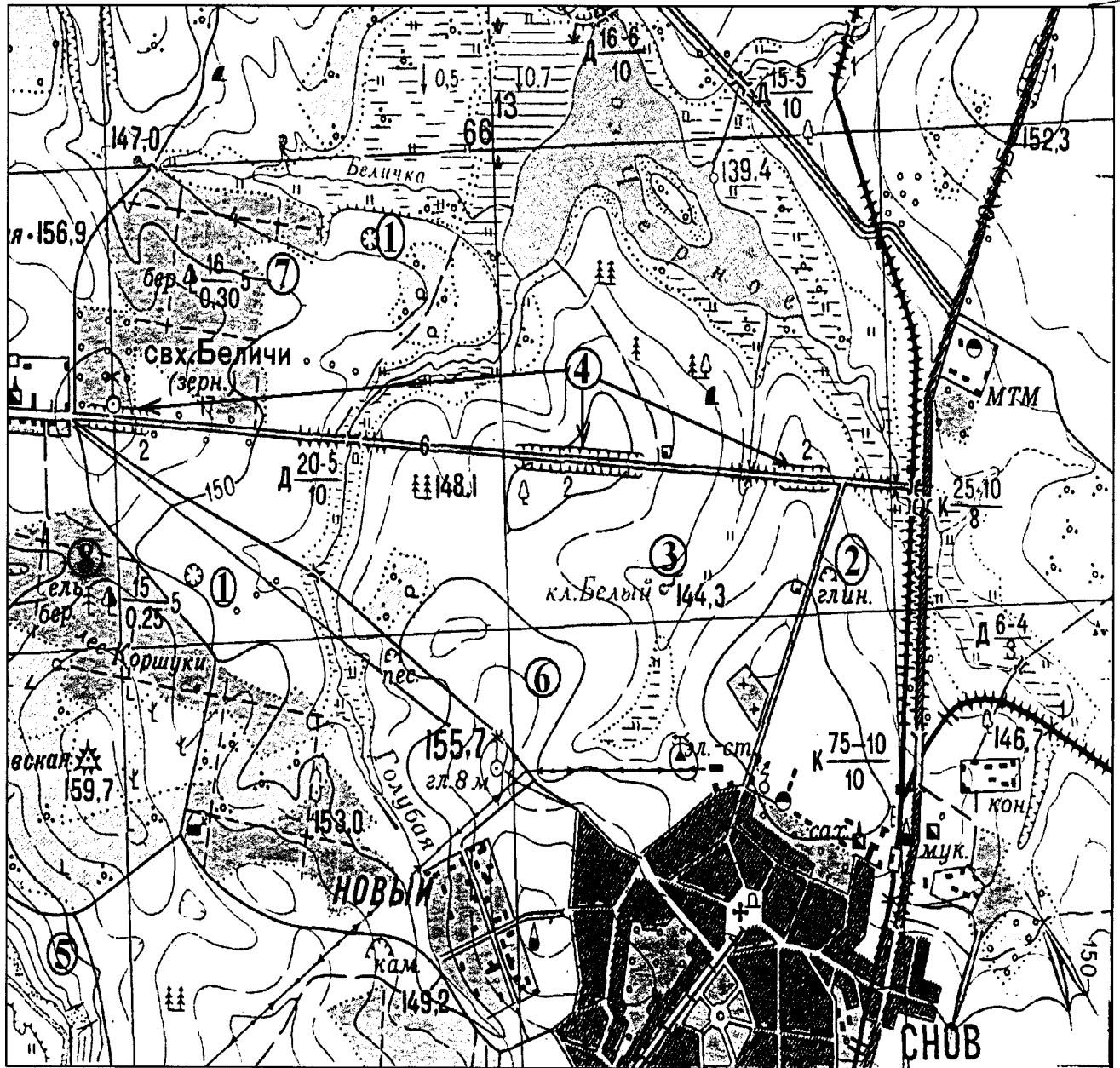


Рис. 1. Участок местности для задания 1

КОЛИЧЕСТВО БАЛЛОВ – 15

7,5

**Задание 2. «Озера России и мира».**

1. На карте, представленной на рисунке 2, цифрами отмечены некоторые крупнейшие и известные озера мира. Вам предстоит вспомнить названия этих озер и вписать их названия в предложенную ниже таблицу 1.

В качестве так любимыми Вами подсказок предоставляется список озер в алфавитном порядке, из которого Вам и предстоит выбрать названия озер, изображенных на карте: Аральское море, Байкал, Большое Медвежье, Большое Невольничье, Верхнее, Виктория, Виннипег, Гурон, Каспийское море, Маракайбо, Мертвое море, Мичиган, Ньяса, Онтарио, Танганьика, Титикака, Чад, Эйр, Эри. Вы можете потренироваться и подписать эти озера на представленной Вам карте, но проверяться будут только названия в таблице 1!

2. В таблице 2 представлены некоторые свойства и характеристики озер и их групп. Внимательно изучите их и впишите названия озер, особенности, соответствующие этим характеристикам или озерам, названия озер.

Таблица 1

№ озера на карте	Название	№ озера на карте	Название
1	Виктория —	11	Чад
2	Эйр —	12	Большое Медвежье
3	Онтарио —	13	Большое Невольничье
4	Маракайбо —	14	Виктория
5	Ньяса —	15	Каспийское море 0,5
6	Танганьика —	16	Мертвое море 0,5
7	Мичиган —	17	Аральское море 0,5
8	Виннипег 0,5	18	Байкал 0,5
9	Верхнее —	19	Эри —
10	Титикака 0,5		

35

Таблица 2

№	Характеристика озер или их групп	Ваш ответ
1.	Как называется группа озер, отмеченных цифрами 3, 4, 5, 6, 7?	
2.	Между какими странами проходит государственная граница по озерам группы 3, 4, 5, 6, 7?	1. США 10. 2. Мексика
3.	В этом море-озере отмечен один из самых высоких показателей солености в мире (достигает 350‰)	Каспийское
4.	На территории каких трех стран располагается озеро, обозначенное числом 16?	1. _____ 2. _____ 3. _____
5.	Какое из указанных озер является самым глубоким озером мира. Напишите его название.	Байкал 10
6.	Какая особенность гидрологического режима характерна для озер, обозначенных числами 14 и 19?	
7.	Каким по происхождению является озеро под цифрой 9?	
8.	Какое из озер имеет выход к территории таких стран как Россия, Казахстан, Туркменистан, Иран, Азербайджан?	Каспийское 10

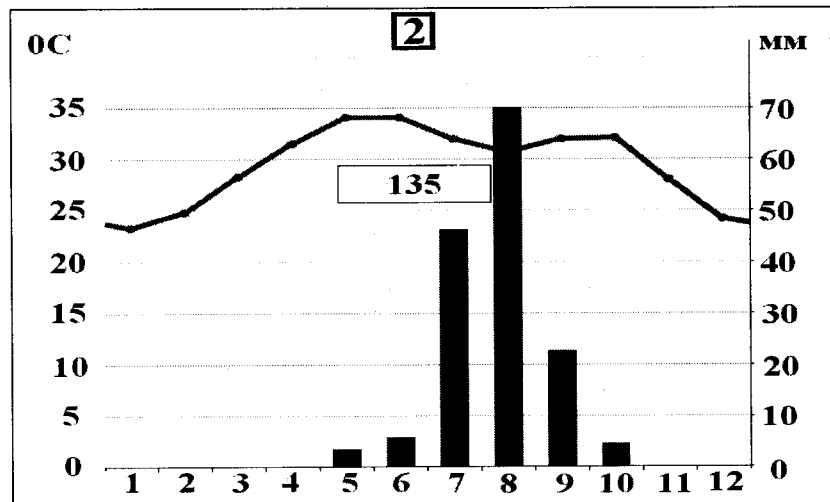
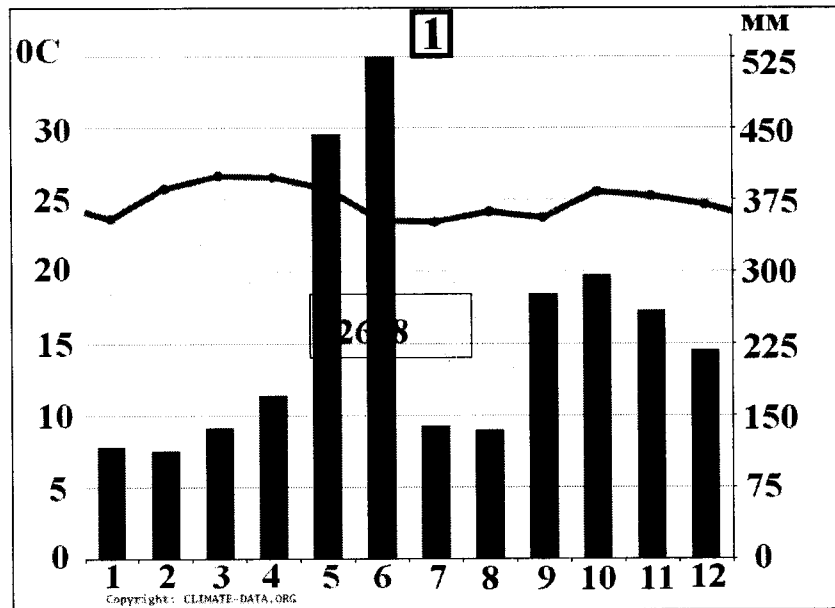


№	Характеристика озер или их групп	Ваш ответ
9.	Как называется море-озеро, от акватории которого практически ничего не осталось (исчезающее озеро)?	Аральское море 18.
10.	Озеро, название которого переводится с языка индейцев как «свинцовая гора».	
11.	Каково происхождение группы озер 3, 4, 5, 6, 7?	
12.	Какое озеро названо в честь королевы Великобритании (XIX в.)?	Виктория

КОЛИЧЕСТВО БАЛЛОВ – 25

**Задание 3. «Климатическая прогулка».**

1. Вам представлены на рассмотрение три диаграммы различных типов и подтипов климата Африки (1, 2 и 3). Внимательно изучите их и впишите номера диаграмм в соответствующие этим типам климата квадраты на карте Африки (рис. 3).



Шифр

Крупнейшие озёра

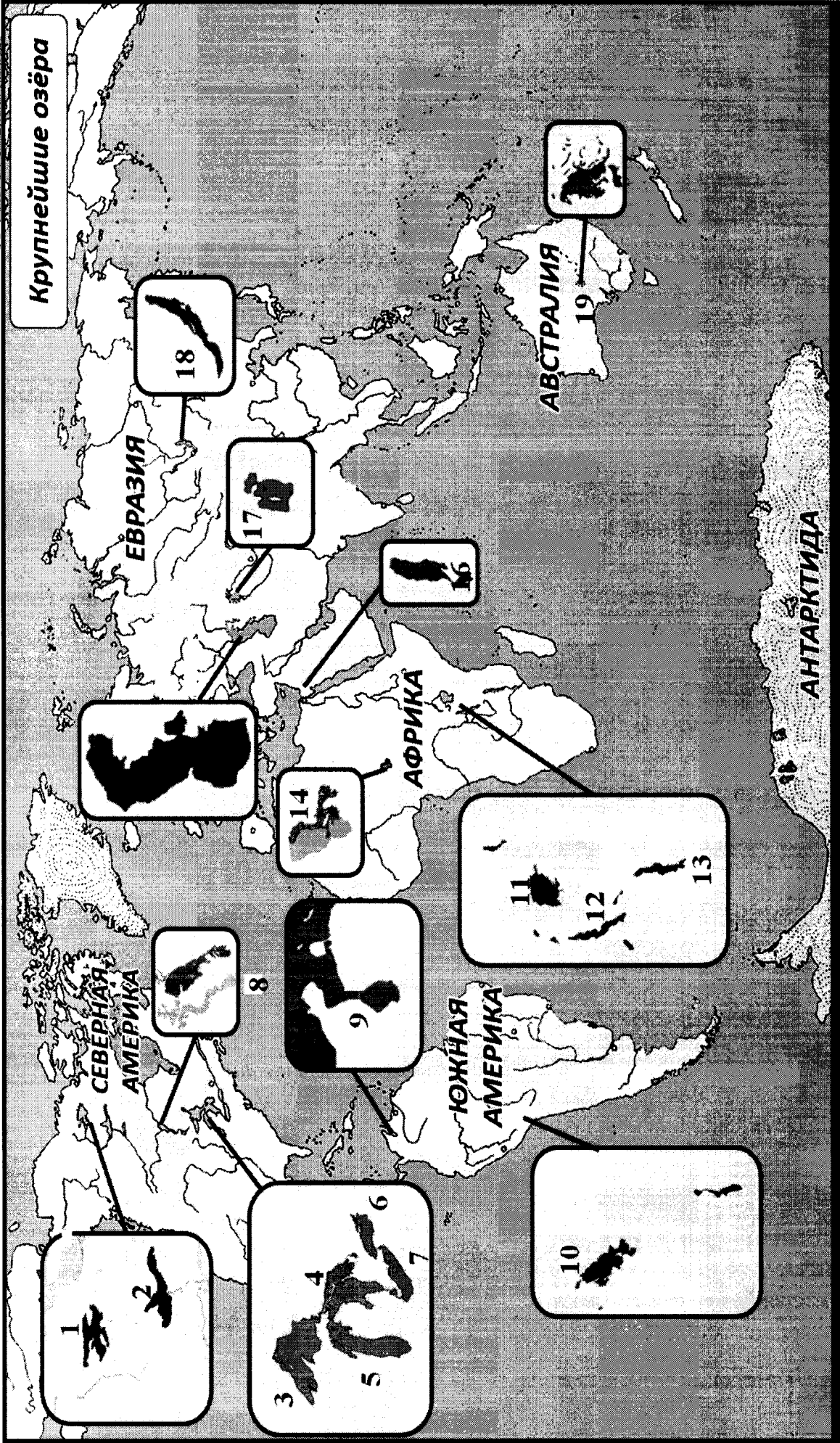
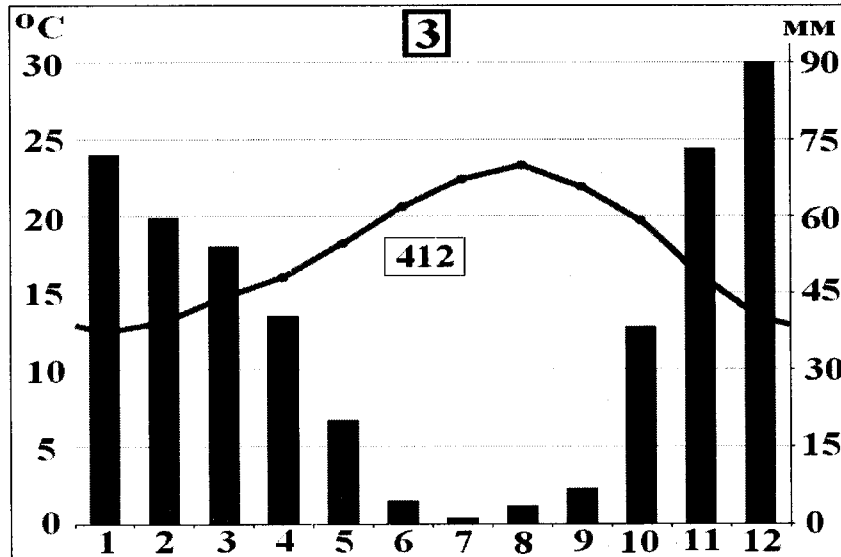


Рис. 2. Крупнейшие озера мира



2. Проведя исследование климатограмм, заполните таблицу 3.

Таблица 3

№ климатограммы	Определение параметров климата	Вывод о типе/подтипе климата
1	1. Годовое количество осадков: <u>175</u> мм; 2. Температура самого теплого месяца: <u>35</u> °C; 3. Температура самого холодного месяца: <u>5,5</u> °C; 4. Годовая амплитуда температуры: _____ °C	
2	1. Годовое количество осадков: _____ мм; 2. Температура самого теплого месяца(ев): <u>70</u> °C; 3. Температура самого холодного месяца: <u>4</u> °C; 4. Годовая амплитуда температуры: _____ °C	
3	1. Годовое количество осадков: _____ мм; 2. Температура самого теплого месяца(ев): <u>90</u> °C; 3. Температура самого холодного месяца: <u>1</u> °C; 4. Годовая амплитуда температуры: _____ °C; 5. Месяц с максимальным количеством осадков: _____; 6. Месяц с минимальным количеством осадков: _____.	

05



Рис. 3. Африка

3. Ответьте на вопросы, связанные с формированием некоторых типов климата на изучаемой территории. Свои выводы запишите в таблицу 4 в соответствующие ячейки.

Таблица 4

№	Вопрос	Ответ
1.	Объясните, с чем связано различие значений температур и количества выпадаемых осадков в теплый и холодный период времени?	Различие значений температур зависит от солнечных лучей.

№	Вопрос	Ответ
2.	С чем связано большое и постоянное по месяцам количество осадков в типе, климата, изображенном на диаграмме под номером 1?	ε ε
3.	Как можно оценить суточные амплитуды температуры воздуха климата, представленного на диаграмме 2? С чем связаны такие значения суточных амплитуд?	
4.	На климат каких территорий Африки оказывают значительное влияние холодные океанические течения? Назовите эти течения. В чем проявляется их влияние на климат?	Территории: 1. _____; 2. _____; 3. _____. Течения: 1. _____; 2. _____; 3. _____. Влияние:
5.	Назовите ветры, которые дуют в Африке из тропических широт в экваториальные и имеют северо-восточное и юго-восточное направление (в зависимости от полушария).	пассаты и западные ветра  <u>10</u>


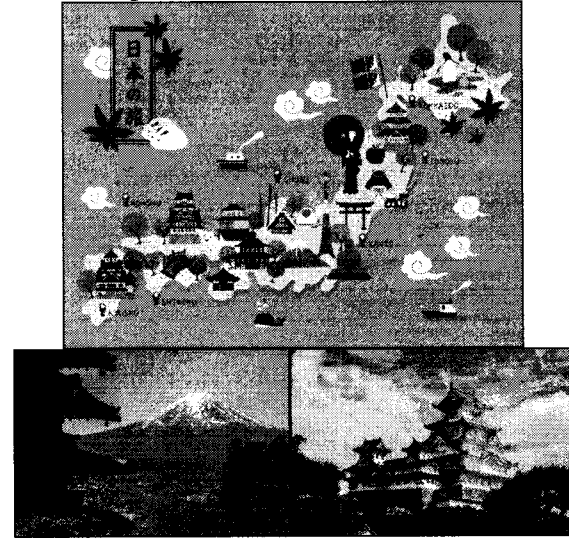
КОЛИЧЕСТВО БАЛЛОВ – 25









10

**Задание 4. «Виртуальная прогулка по странам».**

Вам предстоит виртуальная прогулка по некоторым странам мира. В таблице 5 представлены описания или фото-миниатюры особенностей или достопримечательностей некоторых стран мира. Вам необходимо ознакомиться с этими особенностями на миниатюрах и ответить на вопросы.

Таблица 5

№	Особенности и миниатюры	Вопросы
1.	<p>По ряду представленных фотографий определите, о какой стране идет речь.</p> 	<p>1. Название достопримечательности: _____.</p> <p>2. Страна: <u>Великобритания</u> . 0,5</p> <p>3. Столица: <u>Лондон</u> . 0,5</p> <p>4. Река, омывающая достопримечательность: <u>Темза</u> . 0,5</p> <p>5. Название моста на 2 рисунке: <u>Тауэр Бридж</u> . 0,5</p> <p>6. Как называются проливы между островами, на котором находится страна, и основной территорией Европейского континента:</p> <p>1) _____;</p> <p>2) _____.</p>
2.	<p>Какая страна изображена на фотографии-миниатюре?</p> 	<p>1. Страна: <u>Китай</u> _____.</p> <p>2. Столица этой страны: <u>Пекин</u> _____.</p> <p>3. Название священной горы (вулкана) этой страны: _____.</p> <p>4. Название большого количества островов, расположенных на небольшом расстоянии друг от друга (характерно для этой страны): <u>Са</u> _____.</p> <p>5. Цветок, воспеваемые в культуре этой страны и связанный со многими традициями: <u>сакура</u> _____ . 0,5</p> <p>6. Популярный ядовитый рыбный деликатес страны: <u>Фуззи</u> _____.</p> <p>7. Формальный глава этой страны: _____.</p> <p>8. Традиционная одежда этой страны: <u>кимоно</u> _____ . 0,5</p> <p>9. Традиционный вид борьбы в стране: <u>кунг-фу</u> _____.</p>

№	Особенности и миниатюры	Вопросы
	 	
3.	   	<p>1. Эта страна находится на полуострове, расположенном между Аравийским морем и Бенгальским заливом.          Название полуострова: <u>Индостан</u> 0,5</p> <p>2. Название страны: <del>Индия</del> _____.</p> <p>3. Столица этой страны: _____.</p> <p>4. Священное животное в этой стране: <u>Корова</u> 0,5</p> <p>5. Главная административно-территориальная единица страны: _____.</p> <p>6. Известный мавзолей-мечеть, расположенный в этой стране: _____.</p> <p>7. Как называют жителей этой страны, приверженцев индуизма: _____.</p> <p>8. Как называется островное государство, расположенное к югу от полуострова, на котором расположена исследуемая страна (остров имеет такое же название, как и страна): _____.</p>
4.	<p>Эта страна находится на севере и западе самого большого полуострова Европы. Флаг этой страны – синий крест на красном фоне.</p>  	<p>1. Название самого большого полуострова Европы: <u>Скандинавия</u></p> <p>2. Название страны: <u>Швеция Норвегия</u> 0,5</p> <p>3. Столица этой страны: _____.</p> <p>4. Самый большой северный сосед этой страны (страна): <u>Норвегия Финляндия</u></p> <p>5. Северный народ, живущий издревле на территории этой страны и упомянутом полуострове: <u>Викинги</u> 0,5</p> <p>6. Как называется корабль этого народа: _____.</p>

№	Особенности и миниатюры	Вопросы
		

КОЛИЧЕСТВО БАЛЛОВ – 15

58

КОЛИЧЕСТВО БАЛЛОВ ЗА АНАЛИТИЧЕСКИЙ РАУНД – 80

ОБЩЕЕ КОЛИЧЕСТВО БАЛЛОВ – 100



$$98 + 23 = 325$$

Коррек

Шифр № 07-07

**ВСЕРОССИЙСКАЯ ОЛИМПИАДА ШКОЛЬНИКОВ 2020-2021 УЧ. Г.**  
**МУНИЦИПАЛЬНЫЙ ЭТАП**

География

7 класс

**Задания**

Общее время выполнения работы – **180 минут**.

- На выполнение заданий I (тестового) раунда отводится **60 минут**. На II (аналитический) раунд отводится **120 минут**.

При ответе на задания запрещено пользоваться школьными и прочими атласами, справочными материалами, а также учебниками, мобильными телефонами, карманными компьютерами! Желаем успеха!

**I РАУНД (ТЕСТОВЫЙ)**

Ответьте на поставленные вопросы, выбрав **один** правильный вариант ответа. При ответе на вопросы будьте очень внимательны, так как некоторые вопросы требуют определить неверный вариант или имеют формулировку с отрицанием.

1. Выберите правильное сочетание «горная система – высочайшая точка»:

- + 1) Альпы – г. Аконкагуа (6960 м); 2) Алтай – г. Белуха (4506 м);  
3) Большой Кавказ – Пик Коммунизма (7495 м); 4) Альпы – Эльбрус (5642 м).

2. Выберите вариант ответа, в котором представлены только страны южного полушария:

- + 1) Алжир, Непал, Норвегия, Марокко; 2) Мексика, Дания, Швеция, Вьетнам;  
3) Танзания, Перу, Намибия, Новая Зеландия; 4) Испания, Франция, Австралия, Индия.

3. Выберите правильное утверждение о проливах Земли:

- + 1) Мозамбикский пролив расположен между материком Африка и островом Мадагаскар;  
2) Пролив Дрейка расположен между Антарктидой и Австралией;  
3) Берингов пролив расположен между островом Гренландия и Северной Америкой;  
4) Баб-Эль-Мандебский пролив расположен между континентами Европа и Африка.

4. Выберите из предложенного списка морей самое соленое:

- + 1) Охотское; 2) Аравийское; 3) Южно-Китайское; 4) Балтийское.

5. Выберите вариант ответа, в котом представлены объекты рельефа, расположенные **не** в Евразии:

- 1) г. Аконкагуа, г. Косцюшко, г. Килиманджаро, влк. Фудзияма;  
2) Великая Китайская равнина, Кордильеры, Скандинавские горы, Альпы;  
3) Атласские горы, Большой Водораздельный хребет, Анды, Капские горы;  
4) Карпаты, Апеннинские горы, Алтай, Уральские горы.

6. В каком из указанных районов не может быть действующих вулканов:

- 1) п-ов Камчатка; 2) Восточно-Африканское плоскогорье; 3) Анды;  
4) Амазонская низменность.

7. Как называются формы рельефа, создаваемые при помощи ветра:

- 1) моренные; 2) карстовые; 3) эоловые; 4) водноэрозионные.

8. В каком из климатических поясов наблюдается значительный летний пик осадков:

- 1) тропический; 2) экваториальный; 3) субтропический; 4) субэкваториальный.

9. Выберите вариант ответа, в котором указаны самые сухие места на Земле:

- †  1) Сухие долины Антарктиды, пустыня Атакама, Египет;  
 2) гора Черапунджи, Бразильское плоскогорье, г. Сочи (Россия);  
 3) Восточно-Европейская равнина, г. Народная (Уральские горы), г. Оймякон (Россия);  
 4) о. Мадагаскар, Королевство Марокко, западное побережье Австралии.

10. Выберите группу географических объектов, которые наиболее подвержены влиянию тропических циклонов:

- 1) западное побережье Скандинавского п-ва, п-ов Лабрадор, Алеутские о-ва;  
 2) п-ов Индокитай, Малаккский п-ов, побережья Аргентины, Уругвая и Бразилии;  
 3) побережье, омываемое морем Амундсена, Земля Королевы Мод, Земля Уилкса;  
 4) большая часть территории Канады, о. Гренландия, Чукотский п-ов.

11. Выберите группу стран, расположенных в умеренном климатическом поясе:

- †  1) Испания, Португалия, Греция; 2) Мавритания, Чад, Эфиопия;  
 3) Великобритания, Монголия, Чехия; 4) Мексика, Куба, Венесуэла.

12. Укажите вариант ответа, в котором представлены только полезные ископаемые, применяемые как строительные материалы или сырье для их производства:

- †  1) торф, каменный уголь, фосфориты, гипс; 2) природный газ, нефть, полевой шпат;  
 3) калийные соли, бокситы, сера, нефелины;  4) гранит, мрамор, песок, глина.

13. Выберите вариант ответа, в котором верно указано соответствие «Полуостров – государство, на котором оно находится»:

- 1) п-ов Индокитай – Вьетнам; 2) п-ов Лабрадор – Мексика;  
 3) п-ов Сомали – Мавритания;  4) Малаккский п-ов – Филиппины.

14. Укажите вариант ответа, в котором правильно указано соответствие «столицы стран мира – материк»:

- 1) Луанда, Найроби, Нуакшот – Северная Америка;  
 2) Каракас, Джорджтаун, Асунсьон – Южная Америка;  
 3) Тирана, Улан-Батор, Бишкек – Африка; 4) Манагуа, Тегусигальпа, Панама – Евразия.

† 15. Выберите вариант ответа, в котором указано государство с наименьшей плотностью населения:  1) Намибия; 2) Эфиопия; 3) Республика Корея; 4) Швейцария.

16. Укажите верное соотношение «Пустыня – материк»:

- 1) пустыня Виктория – Северная Америка; 2) пустыня Атакама – Африка;  
 3) пустыня Гоби – Евразия;  4) пустыня Калахари – Южная Америка.

17. Выберите **неправильное** утверждение:

- †  1) Красное море омывает северо-восточное побережье Африки и юго-западное побережье Аравийского полуострова;  
 2) Атласские горы расположены на северо-западе Африки;  
 3) Аденский залив омывает берега государства Сомали;  
 4) чтобы попасть по суше от побережья Средиземного моря к мысу Доброй Надежды необходимо двигаться на север.

18. Укажите правильное сочетание «Исследователь – географический регион, в котором работал»:

- 1) Д. Ливингстон – Африка;  2) Д. Кук – п-ов Аляска;  
 3) Пржевальский – Канадский Арктический архипелаг;  
 4) М.П. Лазарев, Ф.Ф. Беллинсгаузен – Средиземное море.

19. Выберите правильное утверждение, говорящее о распространении природной зоны в конкретном географическом объекте:

- 1) тропические пустыни – Среднесибирское плоскогорье;
- 2) влажные экваториальные леса – побережье Гвинейского залива;
- 3) тундра и лесотундра – побережье Мексиканского залива;
- 4) саванны и редколесья – побережье Средиземного моря.

20. Выберите правильное утверждение «Океаническое течение – океан»:

- 1) Гольфстрим – Индийский; 2) Фолклендское – Северный Ледовитый;
- 3) Куроисио – Тихий; 4) Перуанское – Атлантический.

**КОЛИЧЕСТВО БАЛЛОВ ЗА ТЕСТОВЫЙ РАУНД – 20**

2308

Шифр 1-07-07

**ДЛЯ УЧАСТНИКОВ**  
**ВСЕРОССИЙСКАЯ ОЛИМПИАДА ШКОЛЬНИКОВ 2020-2021 УЧ. Г.**  
**МУНИЦИПАЛЬНЫЙ ЭТАП**

География

7 класс

**Задания****II РАУНД (АНАЛИТИЧЕСКИЙ)**

На II (аналитический) раунд отводится 120 минут.

При ответе на задания запрещено пользоваться школьными и прочими атласами, справочными материалами, а также учебниками, мобильными телефонами, карманными компьютерами! Желаем успеха!

**Задание 1. «Картография».**

Вашему вниманию представляется фрагмент топографической карты участка местности. Необходимо его изучить и ответить на ряд вопросов. Результаты своего картографического исследования необходимо оформить в предложенной таблице.

№	Вопрос	Ответ
1.	Какие объекты антропогенного рельефа обозначены цифрой 1?	овраг
2.	Какой вид минерального сырья добывается на объекте под номером 2? Как называется этот объект?	Сырье: <u>шунга</u> 0,5 Объект: <u>карьер</u> 0,5
3.	Какой гидрографический объект расположен под номером 3? На какой абсолютной высоте находится этот объект?	Объект: <u>родник</u> 0,5 Высота: <u>148,3</u> м. 0,5
4.	Какая часть участка местности наиболее заболочена (указать сторону горизонта)?	север 0,5
5.	Какая максимальная высота фиксируется на предложенном участке местности?	<u>66</u> м
6.	В каком направлении и по какому азимуту необходимо двигаться, чтобы попасть из совхоза Беличи в город Снов (для точности измерения примите за точки отсчета примерные геометрические центры объектов)?	Направление: <u>юго-восток</u> 0,5 Азимут: <u>135</u>
7.	Какие объекты обозначены стрелками на карте под цифрой 4? Какова глубина этих объектов?	Объект: <u>овраг</u> Глубина: <u>2</u> м. 0,5
8.	Разъедутся ли два грузовых автомобиля, каждый из которых имеет ширину 3,5 м, следующие из совхоза Беличи по проезжей части шоссе, идущему в восточном направлении? Свой ответ обоснуйте.	<u>нет</u> Обоснование: По условию автомобили имеют ширину 3,5 м. $3,5 + 3,5 = 7$ . А дорога шириной 6 м. Соответственно они не проедут на восток сразу сразу 1
9.	Какие хозяйственные объекты можно увидеть на карте в городе Снов?	<u>Фруктовый сад, урков, клардмусе</u> 1
10.	Какой из склонов – под цифрой 5 или под цифрой 6 – будет круче?	Под цифрой <u>5</u> . 1

№	Вопрос	Ответ
11.	В каком из лесов древесина будет более зрелая (толщина стволов больше) – под цифрой 7 или 8?	Под цифрой <u>7</u> .
12.	В каком из лесов можно добывать хвойную древесину (лес под цифрой 7 или 8)?	Под цифрой <u>8</u> .
13.	По какой антропогенной форме рельефа (созданной человеком) проходят железные дороги на представленном плане местности?	путь
14.	К какой природной зоне относится данный участок местности?	смешанные леса

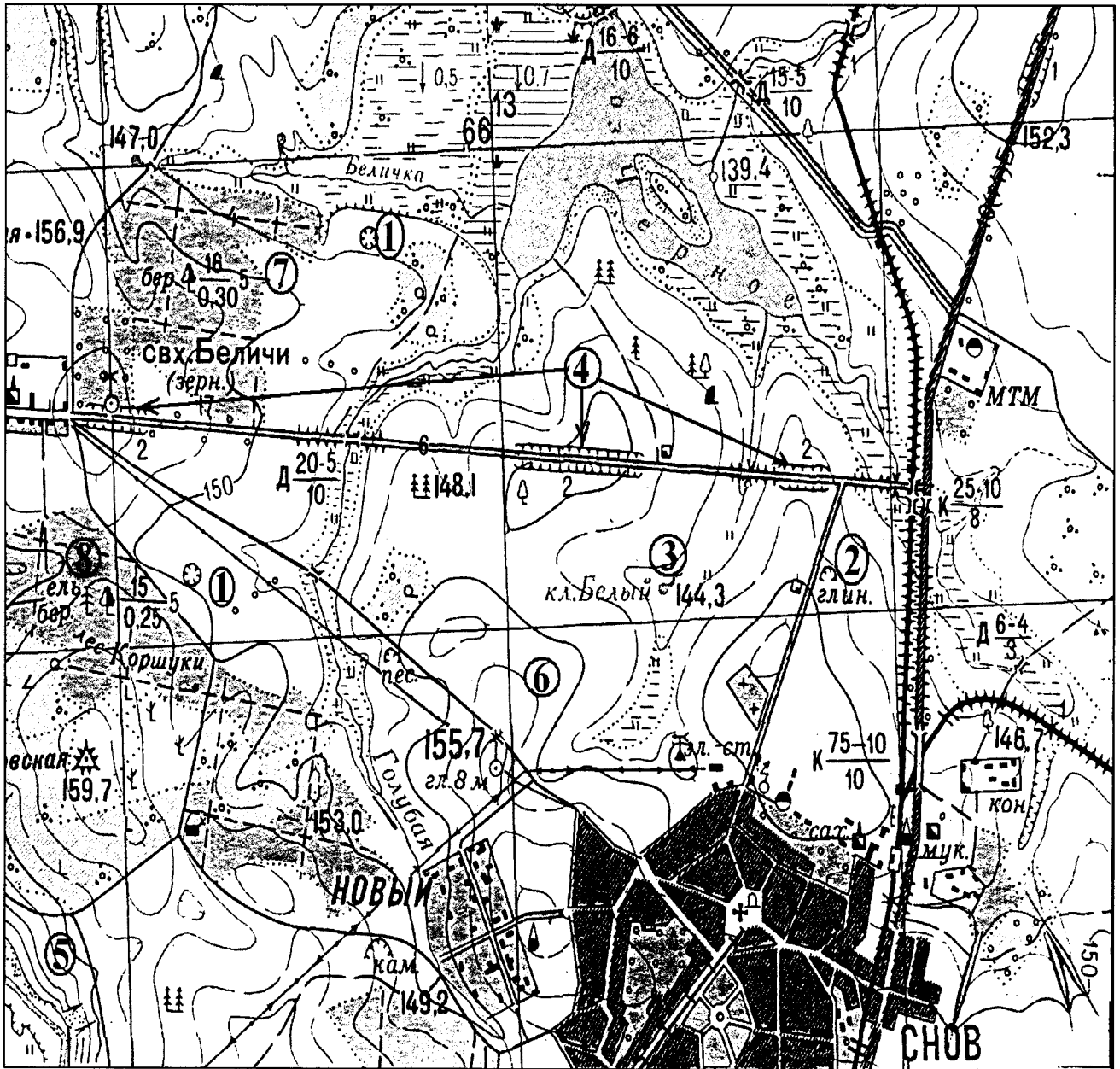


Рис. 1. Участок местности для задания 1

КОЛИЧЕСТВО БАЛЛОВ – 15

9,58

**Задание 2. «Озера России и мира».**

1. На карте, представленной на рисунке 2, цифрами отмечены некоторые крупнейшие и известные озера мира. Вам предстоит вспомнить названия этих озер и вписать их названия в предложенную ниже таблицу 1.

В качестве так любимыми Вами подсказок предоставляется список озер в алфавитном порядке, из которого Вам и предстоит выбрать названия озер, изображенных на карте: *Аральское море, Байкал, Большое Медвежье, Большое Невольничье, Верхнее, Виктория, Виннипег, Гурон, Каспийское море, Маракайбо, Мертвое море, Мичиган, Ньяса, Онтарио, Танганьика, Титикака, Чад, Эйр, Эри*. Вы можете потренироваться и подписать эти озера на представленной Вам карте, но проверяться будут только названия в таблице 1!

2. В таблице 2 представлены некоторые свойства и характеристики озер и их групп. Внимательно изучите их и впишите названия озер, особенности, соответствующие этим характеристикам или озерам, названия озер.

Таблица 1

№ озера на карте	Название	№ озера на карте	Название
1	Верхнее	11	Чад
2	Мичиган	12	Эри
3	Ньяса	13	Эри
4	Онтарио	14	Виннипег
5	Гурон	15	Каспийское море 0,5
6	Маракайбо	16	Мертвое море 0,5
7	Большое Медвежье	17	Мертвое Верхнее
8	Виктория	18	Байкал 0,5
9	Аральское море	19	Большое Невольничье
10	Титикака 0,5		

Таблица 2

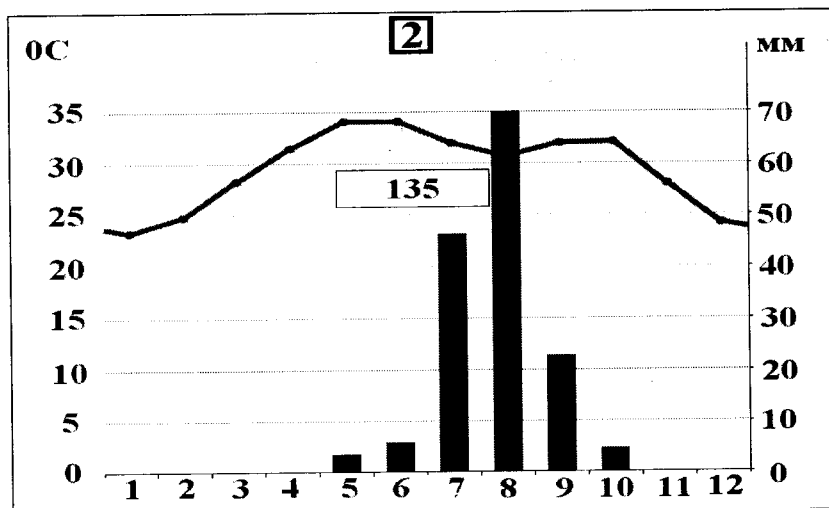
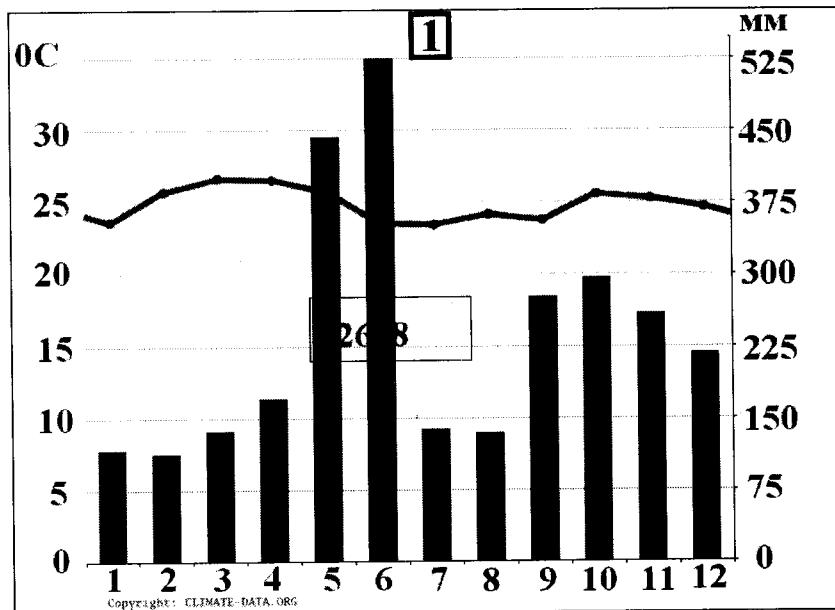
№	Характеристика озер или их групп	Ваш ответ
1.	Как называется группа озер, отмеченных цифрами 3, 4, 5, 6, 7?	архипелаг
2.	Между какими странами проходит государственная граница по озерам группы 3, 4, 5, 6, 7?	1. _____ 2. _____
3.	В этом море-озере отмечен один из самых высоких показателей солености в мире (достигает 350‰)	Мертвое море 1
4.	На территории каких трех стран располагается озеро, обозначенное числом 16?	1. Египет 2. _____ 3. _____
5.	Какое из указанных озер является самым глубоким озером мира. Напишите его название.	
6.	Какая особенность гидрологического режима характерна для озер, обозначенных числами 14 и 19?	Особенность гидрологического режима характерна для озер 14 и 19, это они внутриннее,
7.	Каким по происхождению является озеро под цифрой 9?	
8.	Какое из озер имеет выход к территории таких стран как Россия, Казахстан, Туркменистан, Иран, Азербайджан?	Каспийское море 1

№	Характеристика озер или их групп	Ваш ответ
9.	Как называется море-озеро, от акватории которого практически ничего не осталось (исчезающее озеро)?	Мертвое море
10.	Озеро, название которого переводится с языка индейцев как «свинцовая гора».	
11.	Каково происхождение группы озер 3, 4, 5, 6, 7?	
12.	Какое озеро названо в честь королевы Великобритании (XIX в.)?	Виктория 1

КОЛИЧЕСТВО БАЛЛОВ – 25

58**Задание 3. «Климатическая прогулка».**

1. Вам представлены на рассмотрение три диаграммы различных типов и подтипов климата Африки (1, 2 и 3). Внимательно изучите их и впишите номера диаграмм в соответствующие этим типам климата квадраты на карте Африки (рис. 3).



Шифр

Крупнейшие озёра

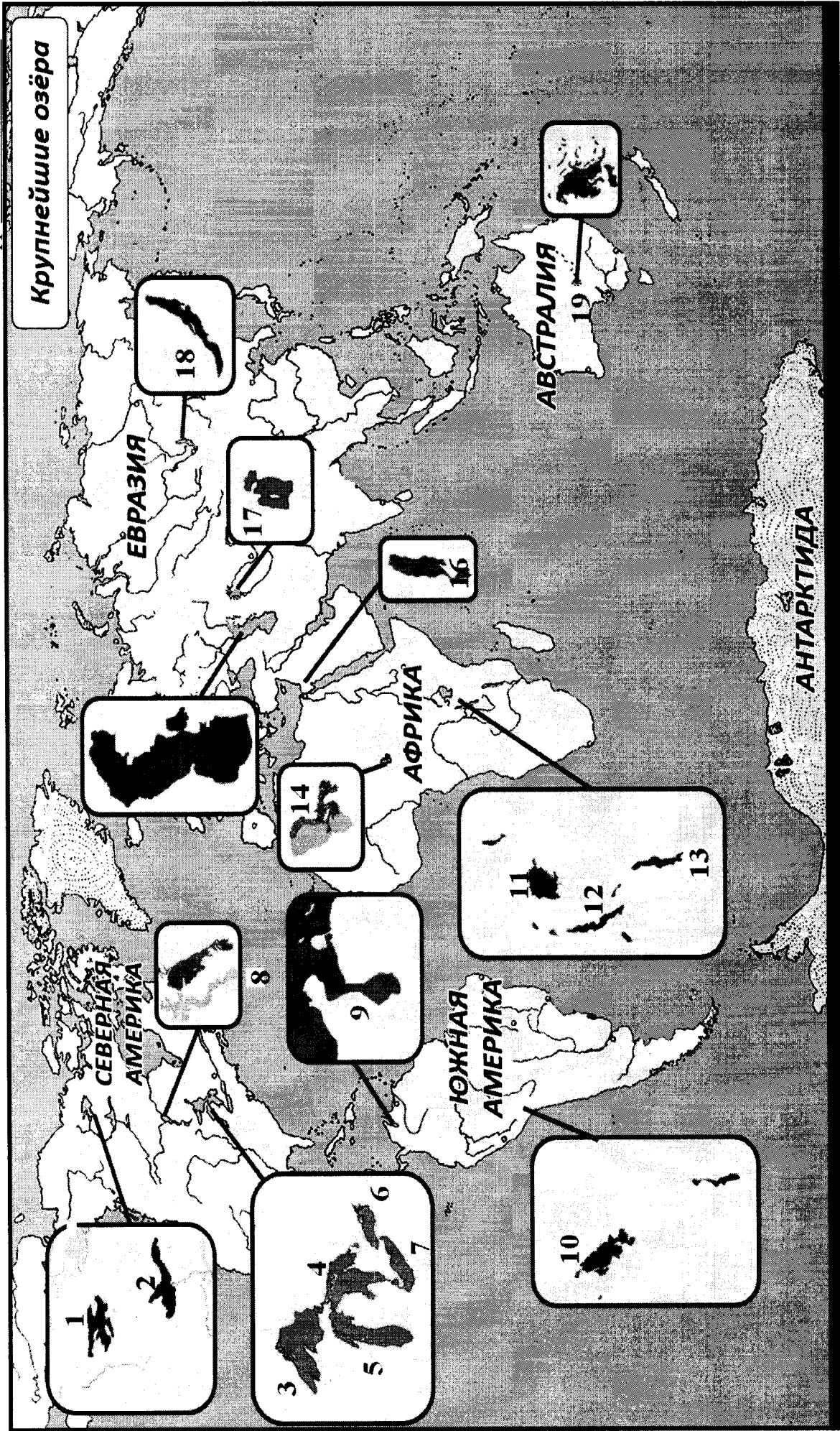
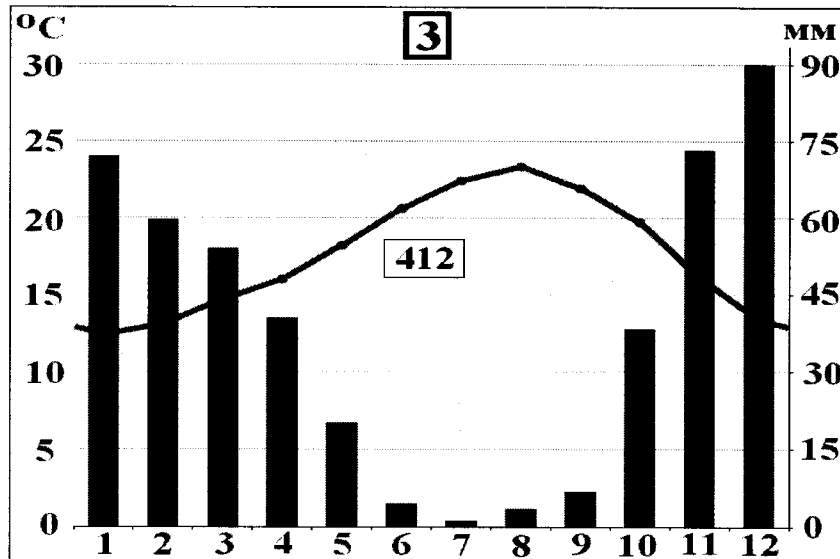


Рис. 2. Крупнейшие озера мира





2. Проведя исследование климатограмм, заполните таблицу 3.

Таблица 3

№ климатограммы	Определение параметров климата	Вывод о типе/подтипе климата
1	1. Годовое количество осадков: <u>2688</u> мм; <u>0,5</u> 2. Температура самого теплого месяца: <u>35</u> °C; 3. Температура самого холодного месяца: <u>8</u> °C; 4. Годовая амплитуда температуры: <u>26</u> °C	Влажно-Влажная? много осадков. Осень
2	1. Годовое количество осадков: <u>155</u> мм; <u>0,5</u> 2. Температура самого теплого месяца(ев): <u>35</u> °C; 3. Температура самого холодного месяца: <u>0</u> °C; 4. Годовая амплитуда температуры: <u>34</u> °C	Сухо: Мало осадков. лето
3	1. Годовое количество осадков: <u>412</u> мм; <u>0,5</u> 2. Температура самого теплого месяца(ев): <u>30</u> °C; 3. Температура самого холодного месяца: <u>1</u> °C; 4. Годовая амплитуда температуры: <u>24</u> °C; 5. Месяц с максимальным количеством осадков: <u>декабрь</u> ; <u>0,5</u> 6. Месяц с минимальным количеством осадков: <u>июль</u> <u>0,5</u>	Зима. Среднее количество осадков.  3



Рис. 3. Африка

3. Ответьте на вопросы, связанные с формированием некоторых типов климата на изучаемой территории. Свои выводы запишите в таблицу 4 в соответствующие ячейки.

Таблица 4

№	Вопрос	Ответ
1.	Объясните, с чем связано различие значений температур и количества выпадаемых осадков в теплый и холодный период времени?	<p>В теплый период выпадает мало осадков, лето очень жарко. Происходит испарение.</p> <p>В холодный период выпадает много осадков. Не происходит испарение.</p>

№	Вопрос	Ответ
2.	С чем связано большое и постоянное по месяцам количество осадков в типе, климата, изображенном на диаграмме под номером 1?	Африка находится в тропической поясе, поэтому здесь большое количество осадков.
3.	Как можно оценить суточные амплитуды температуры воздуха климата, представленного на диаграмме 2? С чем связаны такие значения суточных амплитуд?	Суточные амплитуды температур воздуха климата можно оценить, так температура не ниже 10°, но не выше 35°.
4.	На климат каких территорий Африки оказывают значительное влияние холодные океанические течения? Назовите эти течения. В чем проявляется их влияние на климат?	Территории: 1. _____; 2. _____; 3. _____. Течения: 1. _____; 2. _____; 3. _____. Влияние:
5.	Назовите ветры, которые дуют в Африке из тропических широт в экваториальные и имеют северо-восточное и юго-восточное направление (в зависимости от полушария).	



КОЛИЧЕСТВО БАЛЛОВ – 25









38

**Задание 4. «Виртуальная прогулка по странам».**

Вам предстоит виртуальная прогулка по некоторым странам мира. В таблице 5 представлены описания или фото-миниатюры особенностей или достопримечательностей некоторых стран мира. Вам необходимо ознакомиться с этими особенностями на миниатюрах и ответить на вопросы.

Таблица 5

№	Особенности и миниатюры	Вопросы
1.	<p>По ряду представленных фотографий определите, о какой стране идет речь.</p> 	<p>1. Название достопримечательности: _____.</p> <p>2. Страна: <u>Швейцария</u>.</p> <p>3. Столица: _____.</p> <p>4. Река, омывающая достопримечательность: _____.</p> <p>5. Название моста на 2 рисунке: _____.</p> <p>6. Как называются проливы между островами, на котором находится страна, и основной территорией Европейского континента:            1) _____;            2) _____.</p>
2.	<p>Какая страна изображена на фотографии-миниатюре?</p> 	<p>1. Страна: <u>Япония</u> 0,5</p> <p>2. Столица этой страны: _____.</p> <p>3. Название священной горы (вулкана) этой страны: _____.</p> <p>4. Название большого количества островов, расположенных на небольшом расстоянии друг от друга (характерно для этой страны): <u>архипелаг</u> 0,5</p> <p>5. Цветок, воспеваемый в культуре этой страны и связанный со многими традициями: <u>сакура</u> 0,5</p> <p>6. Популярный и удивительный рыбный деликатес страны: <u>Ринда фудзу</u> 0,5</p> <p>7. Формальный глава этой страны: <u>Император</u>.</p> <p>8. Традиционная одежда этой страны: <u>кимаono</u> 0,5</p> <p>9. Традиционный вид борьбы в стране: <u>махвакго</u>.</p>

№	Особенности и миниатюры	Вопросы
	 	
3.	   	<p>1. Эта страна находится на полуострове, расположенном между Аравийским морем и Бенгальским заливом.          Название полуострова: <u>Индостан</u> 0,5          2. Название страны: <u>Индия</u> 0,5          3. Столица этой страны: _____          4. Священное животное в этой стране: <u>корова</u> 0,5          5. Главная административно-территориальная единица страны: _____          6. Известный мавзолей-мечеть, расположенный в этой стране: <u>Тадж-Махал</u> 0,5          7. Как называют жителей этой страны, приверженцев индуизма: <u>индейцы</u>          8. Как называется островное государство, расположенное к югу от полуострова, на котором расположена исследуемая страна (остров имеет такое же название, как и страна): _____</p>
4.	<p>Эта страна находится на севере и западе самого большого полуострова Европы. Флаг этой страны – синий крест на красном фоне.</p>  	<p>1. Название самого большого полуострова Европы: <u>Скандинавский п-ова</u> 0,5          2. Название страны: <u>Дания</u>          3. Столица этой страны: _____          4. Самый большой северный сосед этой страны (страна): _____          5. Северный народ, живущий издревле на территории этой страны и упомянутом полуострове: <u>викинги</u> 0,5          6. Как называется корабль этого народа: _____</p>

Шифр 1<sup>0</sup>-07-07

№	Особенности и миниатюры	Вопросы
		

**КОЛИЧЕСТВО БАЛЛОВ – 15**

**КОЛИЧЕСТВО БАЛЛОВ ЗА АНАЛИТИЧЕСКИЙ РАУНД – 80**

**ОБЩЕЕ КОЛИЧЕСТВО БАЛЛОВ – 100**

5,58

$$75 + 245 = 315$$

Шифр 1<sup>о</sup>-07-11

**ВСЕРОССИЙСКАЯ ОЛИМПИАДА ШКОЛЬНИКОВ 2020-2021 УЧ. Г.  
МУНИЦИПАЛЬНЫЙ ЭТАП**

*География*

*7 класс*

**Задания**

Общее время выполнения работы – **180 минут**.

На выполнение заданий I (тестового) раунда отводится **60 минут**. На II (аналитический) раунд отводится **120 минут**.

При ответе на задания запрещено пользоваться школьными и прочими атласами, справочными материалами, а также учебниками, мобильными телефонами, карманными компьютерами! Желаем успеха!

**I РАУНД (ТЕСТОВЫЙ)**

Ответьте на поставленные вопросы, выбрав **один** правильный вариант ответа. При ответе на вопросы будьте очень внимательны, так как некоторые вопросы требуют определить неверный вариант или имеют формулировку с отрицанием.

1. Выберите правильное сочетание «горная система – высочайшая точка»:

- 1) Альпы – г. Аконкагуа (6960 м); 2) Алтай – г. Белуха (4506 м);  
3) Большой Кавказ – Пик Коммунизма (7495 м); **④** Альпы – Эльбрус (5642 м).

2. Выберите вариант ответа, в котором представлены только страны южного полушария:

- 1) Алжир, Непал, Норвегия, Марокко; 2) Мексика, Дания, Швеция, Вьетнам;  
3) Танзания, Перу, Намибия, Новая Зеландия; **④** Испания, Франция, Австралия, Индия.

3. Выберите правильное утверждение о проливах Земли:

- 1) Мозамбикский пролив расположен между материком Африка и островом Мадагаскар;  
2) Пролив Дрейка расположен между Антарктидой и Австралией;  
**③** Берингов пролив расположен между островом Гренландия и Северной Америкой;  
4) Баб-Эль-Мандебский пролив расположен между континентами Европа и Африка.

4. Выберите из предложенного списка морей самое соленое:

- + 1) Охотское; **②** Аравийское; 3) Южно-Китайское; 4) Балтийское.

5. Выберите вариант ответа, в котом представлены объекты рельефа, расположенные **не** в Евразии:

- + 1) г. Аконкагуа, г. Косцюшко, г. Килиманджаро, влк. Фудзияма;  
2) Великая Китайская равнина, Кордильеры, Скандинавские горы, Альпы;  
**③** Атласские горы, Большой Водораздельный хребет, Анды, Капские горы;  
4) Карпаты, Апеннинские горы, Алтай, Уральские горы.

6. В каком из указанных районов не может быть действующих вулканов:

- 1) п-ов Камчатка; **②** Восточно-Африканское плоскогорье; 3) Анды;  
4) Амазонская низменность.

7. Как называются формы рельефа, создаваемые при помощи ветра:

- 1) моренные; **②** карстовые; 3) эоловые; 4) водноэрозионные.

8. В каком из климатических поясов наблюдается значительный летний пик осадков:

- 1) тропический; 2) экваториальный; **③** субтропический; 4) субэкваториальный.

9. Выберите вариант ответа, в котором указаны самые сухие места на Земле:

- 1) Сухие долины Антарктиды, пустыня Атакама, Египет;  
 2) гора Черапунджи, Бразильское плоскогорье, г. Сочи (Россия);  
 3) Восточно-Европейская равнина, г. Народная (Уральские горы), г. Оймякон (Россия);  
 ④ о. Мадагаскар, Королевство Марокко, западное побережье Австралии.

10. Выберите группу географических объектов, которые наиболее подвержены влиянию тропических циклонов:

- 1) западное побережье Скандинавского п-ва, п-ов Лабрадор, Алеутские о-ва;  
 ② п-ов Индокитай, Малаккский п-ов, побережья Аргентины, Уругвая и Бразилии;  
 3) побережье, омываемое морем Амундсена, Земля Королевы Мод, Земля Уилкса;  
 4) большая часть территории Канады, о. Гренландия, Чукотский п-ов.

11. Выберите группу стран, расположенных в умеренном климатическом поясе:

- 1) Испания, Португалия, Греция; 2) Мавритания, Чад, Эфиопия;  
 ③ Великобритания, Монголия, Чехия; 4) Мексика, Куба, Венесуэла.

12. Укажите вариант ответа, в котором представлены только полезные ископаемые, применяемые как строительные материалы или сырье для их производства:

- 1) торф, каменный уголь, фосфориты, гипс; ② природный газ, нефть, полевой шпат;  
 3) калийные соли, бокситы, сера, нефелины; 4) гранит, мрамор, песок, глина.

13. Выберите вариант ответа, в котором верно указано соответствие «Полуостров – государство, на котором оно находится»:

- ① п-ов Индокитай – Вьетнам; 2) п-ов Лабрадор – Мексика;  
 3) п-ов Сомали – Мавритания; 4) Малаккский п-ов – Филиппины.

14. Укажите вариант ответа, в котором правильно указано соответствие «столицы стран мира – материк»:

- 1) Луанда, Найроби, Нуакшот – Северная Америка;  
 2) Каракас, Джорджтаун, Асунсьон – Южная Америка;  
 3) Тирана, Улан-Батор, Бишкек – Африка; ④ Манагуа, Тегусигальпа, Панама – Евразия.

15. Выберите вариант ответа, в котором указано государство с наименьшей плотностью населения: 1) Намибия; 2) Эфиопия; 3) Республика Корея; ④ Швейцария.

16. Укажите верное соотношение «Пустыня – материк»:

- ① пустыня Виктория – Северная Америка; 2) пустыня Атакама – Африка;  
 3) пустыня Гоби – Евразия; 4) пустыня Калахари – Южная Америка.

17. Выберите **неправильное** утверждение:

- 1) Красное море омывает северо-восточное побережье Африки и юго-западное побережье Аравийского полуострова;  
 2) Атласские горы расположены на северо-западе Африки;  
 3) Аденский залив омывает берега государства Сомали;  
 ④ чтобы попасть по суше от побережья Средиземного моря к мысу Доброй Надежды необходимо двигаться на север.

18. Укажите правильное сочетание «Исследователь – географический регион, в котором работал»:

- ① Д. Ливингстон – Африка; 2) Д. Кук – п-ов Аляска;  
 3) Пржевальский – Канадский Арктический архипелаг;  
 4) М.П. Лазарев, Ф.Ф. Беллинсгаузен – Средиземное море.



19. Выберите правильное утверждение, говорящее о распространении природной зоны в конкретном географическом объекте:

- 1) тропические пустыни – Среднесибирское плоскогорье;
- 2) влажные экваториальные леса – побережье Гвинейского залива;
- 3) тундра и лесотундра – побережье Мексиканского залива;
- ④ саванны и редколесья – побережье Средиземного моря.

20. Выберите правильное утверждение «Океаническое течение – океан»:

- 1) Гольфстрим – Индийский; 2) Фолклендское – Северный Ледовитый;
- 3) Куроисио – Тихий; ④ Перуанское – Атлантический.

**КОЛИЧЕСТВО БАЛЛОВ ЗА ТЕСТОВЫЙ РАУНД – 20**

**ДЛЯ УЧАСТНИКОВ**  
**ВСЕРОССИЙСКАЯ ОЛИМПИАДА ШКОЛЬНИКОВ 2020-2021 УЧ. Г.**  
**МУНИЦИПАЛЬНЫЙ ЭТАП**

*География*

*7 класс*

**Задания**

**II РАУНД (АНАЛИТИЧЕСКИЙ)**

На II (аналитический) раунд отводится **120 минут**.

При ответе на задания запрещено пользоваться школьными и прочими атласами, справочными материалами, а также учебниками, мобильными телефонами, карманными компьютерами! Желаем успеха!

**Задание 1. «Картография».**

Вашему вниманию представляется фрагмент топографической карты участка местности. Необходимо его изучить и ответить на ряд вопросов. Результаты своего картографического исследования необходимо оформить в предложенной таблице.

№	Вопрос	Ответ
1.	Какие объекты антропогенного рельефа обозначены цифрой 1?	<i>Карьер, скважина.</i>
2.	Какой вид минерального сырья добывается на объекте под номером 2? Как называется этот объект?	Сырье: <u>глина</u> . 0,5 Объект: <u>скважина</u> .
3.	Какой гидрографический объект расположен под номером 3? На какой абсолютной высоте находится этот объект?	Объект: <u>Кл. Белый</u> . 0,5 Высота: <u>144,3</u> м. 0,5
4.	Какая часть участка местности наиболее заболочена (указать сторону горизонта)?	<u>За север</u> . 0,5
5.	Какая максимальная высота фиксируется на предложенном участке местности?	<u>159,4</u> м 0,5
6.	В каком направлении и по какому азимуту необходимо двигаться, чтобы попасть из совхоза Беличи в город Снов (для точности измерения примите за точки отсчета примерные геометрические центры объектов)?	Направление: <u>юго-запад</u> . 0,5 Азимут: <u>135°</u> .
7.	Какие объекты обозначены стрелками на карте под цифрой 4? Какова глубина этих объектов?	Объект: <u>брат</u> . Глубина: <u>2</u> м. 0,5
8.	Разъедутся ли два грузовых автомобиля, каждый из которых имеет ширину 3,5 м, следующие из совхоза Беличи по проезжей части шоссе, идущему в восточном направлении? Свой ответ обоснуйте.	<u>Не уедут</u> Обоснование: <u>каждый из автомобилей имеет ширину 3,5 м. Ширина дороги 6 м. Одна из машин может уехать из-за недостаточной ширины.</u> 1
9.	Какие хозяйственные объекты можно увидеть на карте в городе Снов?	<u>Объекты: Колодезь, здание дома, парк, мост, скважина.</u>
10.	Какой из склонов – под цифрой 5 или под цифрой 6 – будет круче?	Под цифрой <u>5</u> . 1

№	Вопрос	Ответ
11.	В каком из лесов древесина будет более зрелая (толщина стволов больше) – под цифрой 7 или 8?	Под цифрой <u>7</u> . 1
12.	В каком из лесов можно добывать хвойную древесину (лес под цифрой 7 или 8)?	Под цифрой <u>8</u> . 1
13.	По какой антропогенной форме рельефа (созданной человеком) проходят железные дороги на представленном плане местности?	
14.	К какой природной зоне относится данный участок местности?	<i>Шеломские леса</i> 1

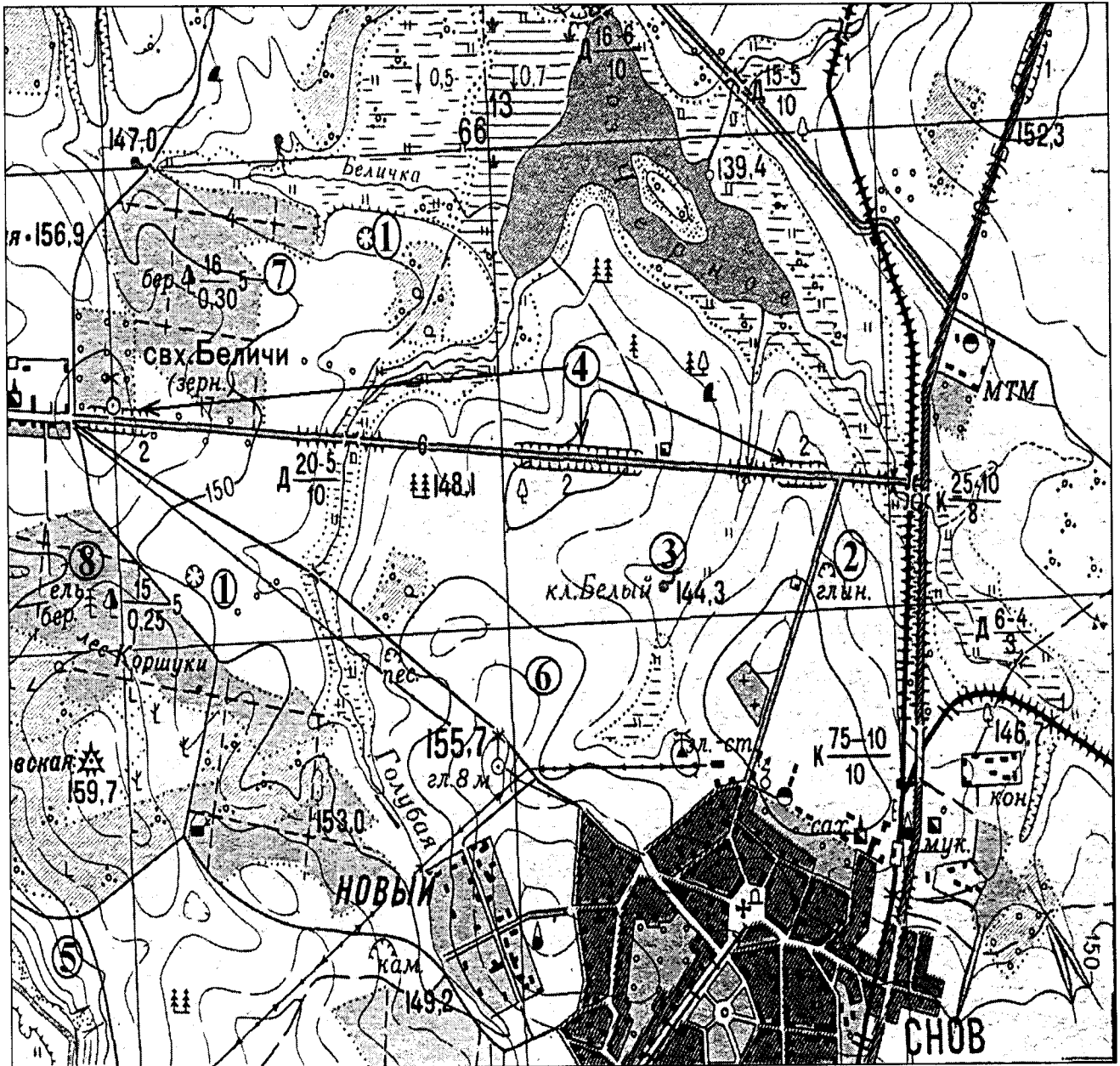


Рис. 1. Участок местности для задания 1

КОЛИЧЕСТВО БАЛЛОВ – 15

8,5

**Задание 2. «Озера России и мира».**

1. На карте, представленной на рисунке 2, цифрами отмечены некоторые крупнейшие и известные озера мира. Вам предстоит вспомнить названия этих озер и вписать их названия в предложенную ниже таблицу 1.

В качестве так любимыми Вами подсказок предоставляется список озер в алфавитном порядке, из которого Вам и предстоит выбрать названия озер, изображенных на карте: *Аральское море, Байкал, Большое Медвежье, Большое Невольничье, Верхнее, Виктория, Виннипег, Гурон, Каспийское море, Маракайбо, Мертвое море, Мичиган, Ньяса, Онтарио, Танганьика, Титикака, Чад, Эйр, Эри*. Вы можете потренироваться и подписать эти озера на представленной Вам карте, но проверяться будут только названия в таблице 1!

2. В таблице 2 представлены некоторые свойства и характеристики озер и их групп. Внимательно изучите их и впишите названия озер, особенности, соответствующие этим характеристикам или озерам, названия озер.

Таблица 1

№ озера на карте	Название	№ озера на карте	Название
1	<i>Онтарио</i>	11	<i>Маракайбо</i>
2	<i>Виктория</i>	12	<i>Чад</i>
3	<i>Виннипег</i>	13	<i>Большое Невольничье</i>
4	<i>Мичиган</i>	14	<i>Танганьика</i>
5	<i>Ньяса</i>	15	<i>Каспийское море</i>
6	<i>Эри</i>	16	<i>Аральское море</i>
7	<i>Гурон</i>	17	<i>Байкал</i>
8	<i>Титикака</i>	18	<i>Большое Медвежье</i>
9	<i>Верхнее</i>	19	<i>Эйр</i>
10	<i>Мертвое море</i>		

Таблица 2

№	Характеристика озер или их групп	Ваш ответ
1.	Как называется группа озер, отмеченных цифрами 3, 4, 5, 6, 7?	<i>озера, образованные потоками реки наливом бассейнов реки</i>
2.	Между какими странами проходит государственная граница по озерам группы 3, 4, 5, 6, 7?	1. <i>Канада</i> 1 2. <i>США</i> 1
3.	В этом море-озере отмечен один из самых высоких показателей солености в мире (достигает 350‰)	<i>Мертвое море</i> 1
4.	На территории каких трех стран располагается озеро, обозначенное числом 16?	1. <i>Судан</i> 2. <i>Марокко</i> 3. <i>Египет</i>
5.	Какое из указанных озер является самым глубоким озером мира. Напишите его название.	<i>Байкал</i> 1
6.	Какая особенность гидрологического режима характерна для озер, обозначенных числами 14 и 19?	<i>оба воссылают, но в склоне вода накапливается в дождь</i> 1
7.	Каким по происхождению является озеро под цифрой 9?	
8.	Какое из озер имеет выход к территории таких стран как Россия, Казахстан, Туркменистан, Иран, Азербайджан?	

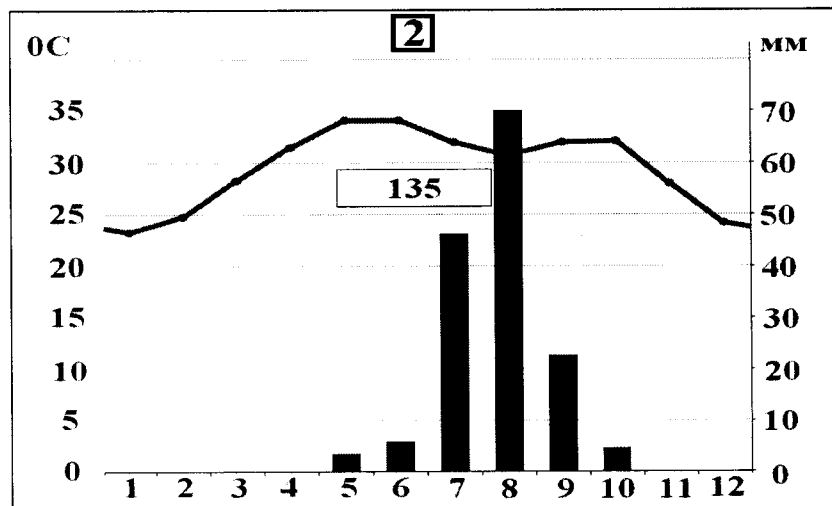
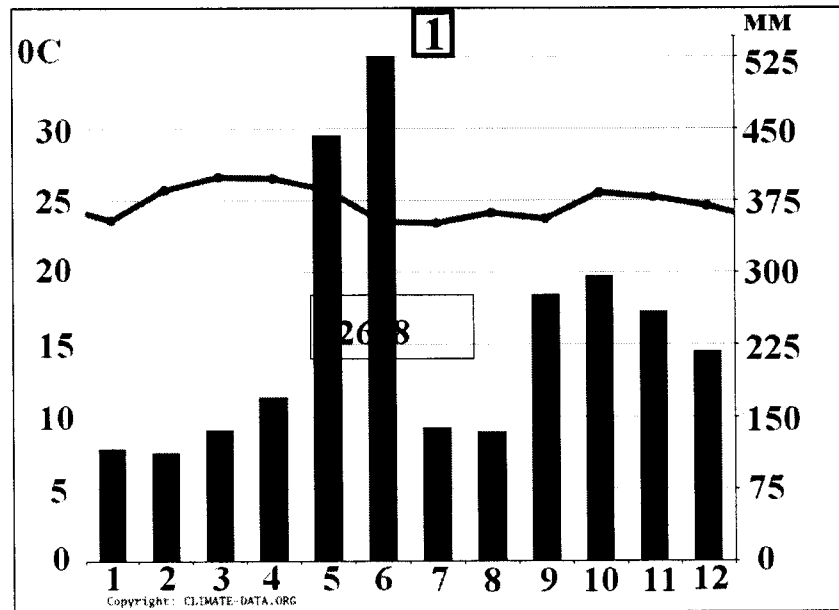
№	Характеристика озер или их групп	Ваш ответ
9.	Как называется море-озеро, от акватории которого практически ничего не осталось (исчезающее озеро)?	<i>Мёртвое море</i>
10.	Озеро, название которого переводится с языка индейцев как «свинцовая гора».	
11.	Каково происхождение группы озер 3, 4, 5, 6, 7?	<i>Были частями рек, пока те не нашли другой путь</i>
12.	Какое озеро названо в честь королевы Великобритании (XIX в.)?	<i>Озеро святой королевы Виктории</i>

КОЛИЧЕСТВО БАЛЛОВ – 25

68

**Задание 3. «Климатическая прогулка».**

1. Вам представлены на рассмотрение три диаграммы различных типов и подтипов климата Африки (1, 2 и 3). Внимательно изучите их и впишите номера диаграмм в соответствующие этим типам климата квадраты на карте Африки (рис. 3).



Шифр

Крупнейшие озёра

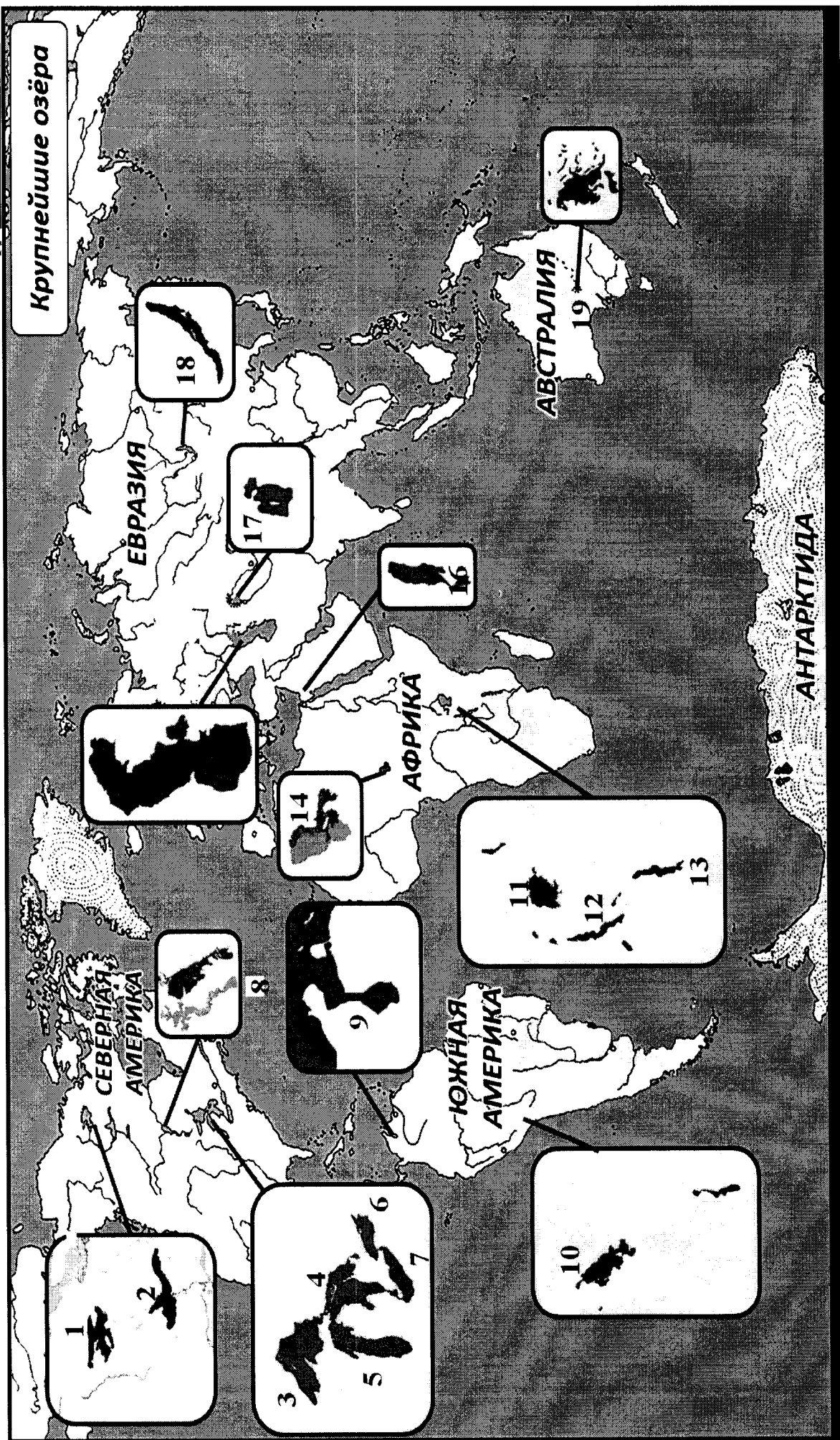
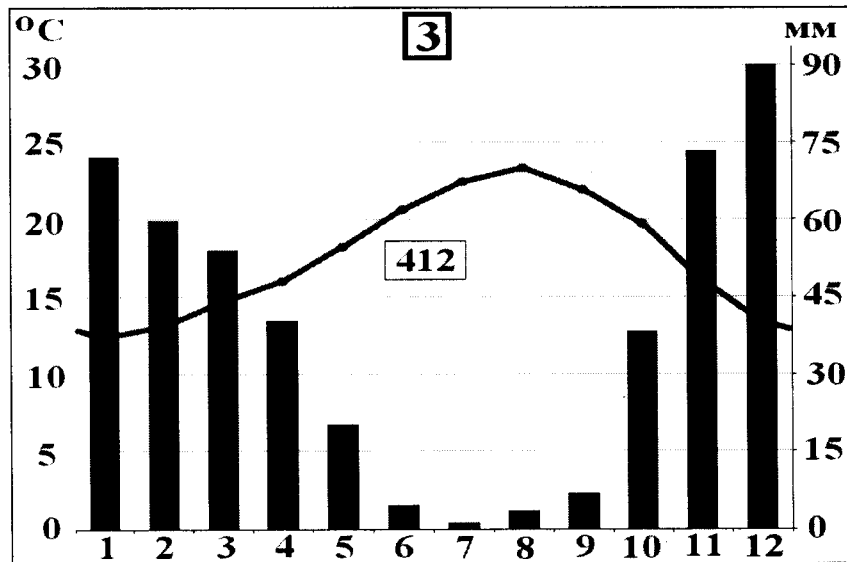


Рис. 2. Крупнейшие озёра мира



2. Проведя исследование климатограмм, заполните таблицу 3.

Таблица 3

№ климатограммы	Определение параметров климата	Вывод о типе/подтипе климата
1	1. Годовое количество осадков: <u>2683</u> мм; <u>0,5</u> 2. Температура самого теплого месяца: <u>40</u> °C; 3. Температура самого холодного месяца: <u>4</u> °C; 4. Годовая амплитуда температуры: <u>25</u> °C	<i>Климат переменно-зимний, много осадков.</i>
2	1. Годовое количество осадков: <u>135</u> мм; <u>0,5</u> 2. Температура самого теплого месяца(ев): <u>35</u> °C; 3. Температура самого холодного месяца: <u>3</u> °C; 4. Годовая амплитуда температуры: <u>35</u> °C	<i>Климат ж-в больше осадков, мало осадков.</i>
3	1. Годовое количество осадков: <u>472</u> мм; <u>0,5</u> 2. Температура самого теплого месяца(ев): <u>30</u> °C; 3. Температура самого холодного месяца: <u>2</u> °C; 4. Годовая амплитуда температуры: <u>23</u> °C; 5. Месяц с максимальным количеством осадков: <u>72 - 90 мм</u> ; 6. Месяц с минимальным количеством осадков: <u>7 - 0 мм</u> .	<i>Климат переменно-летний, среднее количество осадков.</i>



Рис. 3. Африка

3. Ответьте на вопросы, связанные с формированием некоторых типов климата на изучаемой территории. Свои выводы запишите в таблицу 4 в соответствующие ячейки.

Таблица 4

№	Вопрос	Ответ
1.	Объясните, с чем связано различие значений температур и количества выпадаемых осадков в теплый и холодный период времени?	<i>Различия во времени года. Жарко</i>



№	Вопрос	Ответ
2.	С чем связано большое и постоянное по месяцам количество осадков в типе, климата, изображенном на диаграмме под номером 1?	
3.	Как можно оценить суточные амплитуды температуры воздуха климата, представленного на диаграмме 2? С чем связаны такие значения суточных амплитуд?	
4.	На климат каких территорий Африки оказывают значительное влияние холодные океанические течения? Назовите эти течения. В чем проявляется их влияние на климат?	Территории: 1. _____; 2. _____; 3. _____. Течения: 1. _____; 2. _____; 3. _____. Влияние:
5.	Назовите ветры, которые дуют в Африке из тропических широт в экваториальные и имеют северо-восточное и юго-восточное направление (в зависимости от полушария).	<i>Муссоны.</i> <div style="text-align: right;">0</div>



КОЛИЧЕСТВО БАЛЛОВ – 25




1,50

**Задание 4. «Виртуальная прогулка по странам».**

Вам предстоит виртуальная прогулка по некоторым странам мира. В таблице 5 представлены описания или фото-миниатюры особенностей или достопримечательностей некоторых стран мира. Вам необходимо ознакомиться с этими особенностями на миниатюрах и ответить на вопросы.

Таблица 5

№	Особенности и миниатюры	Вопросы
1.	<p>По ряду представленных фотографий определите, о какой стране идет речь.</p> 	<p>1. Название достопримечательности: _____.</p> <p>2. Страна: <u>Англия Великобритания</u> 0,5</p> <p>3. Столица: <u>Лондон</u> 0,5</p> <p>4. Река, омывающая достопримечательность: _____.</p> <p>5. Название моста на 2 рисунке: _____.</p> <p>6. Как называются проливы между островами, на котором находится страна, и основной территорией Европейского континента:                      1) _____;                      2) _____.</p>
2.	<p>Какая страна изображена на фотографии-миниатюре?</p> 	<p>1. Страна: <u>Япония</u> 0,5</p> <p>2. Столица этой страны: <u>Токио</u> 0,5</p> <p>3. Название священной горы (вулкана) этой страны: <u>Фудзияма</u> 0,5</p> <p>4. Название большого количества островов, расположенных на небольшом расстоянии друг от друга (характерно для этой страны): _____.</p> <p>5. Цветок, воспеваемые в культуре этой страны и связанный со многими традициями: <u>сакура</u> 0,5</p> <p>6. Популярный ядовитый рыбный деликатес страны: <u>усоба суши</u> 0,5</p> <p>7. Формальный глава этой страны: _____.</p> <p>8. Традиционная одежда этой страны: <u>кимоно</u> 0,5</p> <p>9. Традиционный вид борьбы в стране: <u>Карате-Сумо</u> 0,5</p>

№	Особенности и миниатюры	Вопросы
		
3.		<p>1. Эта страна находится на полуострове, расположенном между Аравийским морем и Бенгальским заливом. <u>индийский</u>                  Название полуострова: <u>Аравийский</u>.</p> <p>2. Название страны: <u>Судан Индия</u>.</p> <p>3. Столица этой страны: _____.</p> <p>4. Священное животное в этой стране: <u>копота</u>.</p> <p>5. Главная административно-территориальная единица страны: _____.</p> <p>6. Известный мавзолей-мечеть, расположенный в этой стране: <u>Тадж-Махал</u>.</p> <p>7. Как называют жителей этой страны, приверженцев индуизма: <u>индусы</u>.</p> <p>8. Как называется островное государство, расположенное к югу от полуострова, на котором расположена исследуемая страна (остров имеет такое же название, как и страна): <u>Индия</u>.</p>
4.	<p>Эта страна находится на севере и западе самого большого полуострова Европы. Флаг этой страны – синий крест на красном фоне.</p> 	<p>1. Название самого большого полуострова Европы: <u>С</u>.</p> <p>2. Название страны: <u>Норвегия</u>.</p> <p>3. Столица этой страны: <u>Осло</u>.</p> <p>4. Самый большой северный сосед этой страны (страна): _____.</p> <p>5. Северный народ, живущий издревле на территории этой страны и упомянутом полуострове: <u>Норвежцы викинги</u>.</p> <p>6. Как называется корабль этого народа: _____.</p>

Шифр 10-07-11

№	Особенности и миниатюры	Вопросы
		

КОЛИЧЕСТВО БАЛЛОВ – 15 *8,05*

КОЛИЧЕСТВО БАЛЛОВ ЗА АНАЛИТИЧЕСКИЙ РАУНД – 80

ОБЩЕЕ КОЛИЧЕСТВО БАЛЛОВ – 100