

ФР - 08 - 01

**БЛАНК К ОТВЕТАМ**  
**ВСЕРОССИЙСКАЯ ОЛИМПИАДА ШКОЛЬНИКОВ**  
**МУНИЦИПАЛЬНЫЙ ЭТАП**

7 – 8 класс

**ТЕОРЕТИКО-МЕТОДИЧЕСКОЕ ЗАДАНИЕ**

Фамилия, Имя, Отчество \_\_\_\_\_

368 + 48 = 408

Субъект Федерации \_\_\_\_\_ Город, \_\_\_\_\_ школа \_\_\_\_\_ класс \_\_\_\_\_

Номер вопроса	Ответ	Номер вопроса	Ответ												
1.	A +1	13.	Г +1												
2.	B +1	14.	A, B, B, L +2												
3.	A -	15.	фолон +2												
4.	B +1	16.	изгиб -												
5.	Г +1	17.	физика физ. упражнений +2												
6.	Г -	18.	42 км 195 м +2												
7.	B +1	19.	скалоз. -												
8.	B +1	20.	9x18 +2												
9.	Г +1	21.	построение +2												
10.	A +1	22.	киберспорт +2												
11.	B +1	23.	<table border="1"> <tr> <td>1.</td><td>2.</td><td>3.</td><td>4.</td></tr> <tr> <td>б</td><td>з</td><td>а</td><td>в</td></tr> <tr> <td>+</td><td>+</td><td>+</td><td>+</td></tr> </table>	1.	2.	3.	4.	б	з	а	в	+	+	+	+
1.	2.	3.	4.												
б	з	а	в												
+	+	+	+												
12.	Г +1														

4

24. Укажите каким пиктограммам соответствует вид спорта

№ рисунка	Название
Рис.1	Триатлон ↑↑

Рис.2	Метание меча	—
Рис.3	Каное на лодке	+ 1
Рис.4	Притики в воду	+ 1

+3

25. Запишите графически перечисленные исходные положения....

№ рисунка	Название	
Рис.1	(стойка ноги врозь (на ширине плеч)	+
Рис.2	Сог. ушом руки в стороны	+
Рис.3	Упор леза правым боком (на лев. руку)	+
Рис.4	Скрестившая стойка.	+

+4

Оценка 36 Б

Подпись жюри:

*Рол*

78 - 08 - 02

**БЛАНК К ОТВЕТАМ**  
**ВСЕРОССИЙСКАЯ ОЛИМПИАДА ШКОЛЬНИКОВ**  
**МУНИЦИПАЛЬНЫЙ ЭТАП**

7 – 8 класс

**ТЕОРЕТИКО-МЕТОДИЧЕСКОЕ ЗАДАНИЕ**

Фамилия, Имя, Отчество \_\_\_\_\_

Субъект Федерации \_\_\_\_\_ Город, \_\_\_\_\_ школа \_\_\_\_\_ класс \_\_\_\_\_

350 + 5 = 408

Номер вопроса	Ответ	Номер вопроса	Ответ												
1.	a +1	13.	г +1												
2.	b +1	14.	a, d, b, g +2												
3.	a —	15.	фаланг +2												
4.	д +1	16.	изгиб —												
5.	г +1	17.	техника физ. упражнений +2												
6.	г —	18.	42 км 195 м. +2												
7.	b +1	19.	испрямляющие —												
8.	д +1	20.	3x18 +2												
9.	г +1	21.	построение +2												
10.	a +1	22.	Киндерспорт +2												
11.	д +1	23.	<table border="1"> <tr> <td>1.</td><td>2.</td><td>3.</td><td>4.</td></tr> <tr> <td>д</td><td>г</td><td>a</td><td>b</td></tr> <tr> <td>+1</td><td>+1</td><td>+1</td><td>+1</td></tr> </table>	1.	2.	3.	4.	д	г	a	b	+1	+1	+1	+1
1.	2.	3.	4.												
д	г	a	b												
+1	+1	+1	+1												
12.	г +1														

24. Укажите каким пиктограммам соответствует вид спорта

№ рисунка	Название
Рис.1	Прыжки +1

22. Какой из современных видов спорта предполагает использование компьютерных игр \_\_\_\_\_

23. В каком виде спорта каждый из перечисленных спортсменов добились высоких спортивных результатов.

1. Елена Исинбаева	а) фигурное катание
2. Виктор Ан	б) легкая атлетика
3. Алина Загитова	в) лыжные гонки
4. Александр Большунов	г) шорт-трек

1	2	3	4



24. Установите соответствие между классификацией физических упражнений и их признаками.



Признак	Классификация
1) по признаку спортивной специализации	а) упражнения для мышц ног, рук, туловища
2) по анатомическому признаку	б) силовые упражнения, скоростно-силовые упражнения, скоростные упражнения
3) по биомеханическому признаку	в) общеподготовительные упражнения, специально-подготовительные, соревновательные упражнения
4) по преимущественному проявлению отдельных физических качеств	г) циклические, ациклические, смешанные упражнения

1	2	3	4
a	b	c	d





25. Перечислите коньковые виды спорта Хоккей, фигурное катание, шорт-трек, хоккей с мячом, конькобежный спорт.

26. Укажите каким пиктограммам соответствует вид спорта

1		
2		

3		
4		

**27. Впишите название положений**

фю - 08-02

Рис.2	Метание мяча	—
Рис.3	Гребля и каное	+ 1
Рис.4	Прыжки в воду	+ 1

25. Запишите графически перечисленные исходные положения....

№ рисунка	Название	
Рис.1	Исходное положение ноги на ширине плеч, руки вдали туловища	—
Рис.2	Упор сидя углом (сидя углом) руки отведены в стороны.	+ 1
Рис.3	Упор лёжа на правом боку	+ 1
Рис.4	Стойка скрестка	+ 1

Оценка

35 + 50 6/1

Подпись жюри:

ДЗР 6/1

Р-08-03

228

**БЛАНК К ОТВЕТАМ**  
**ВСЕРОССИЙСКАЯ ОЛИМПИАДА ШКОЛЬНИКОВ**  
**МУНИЦИПАЛЬНЫЙ ЭТАП**  
**7 – 8 класс**  
**ТЕОРЕТИКО-МЕТОДИЧЕСКОЕ ЗАДАНИЕ**

Фамилия, Имя, Отчество \_\_\_\_\_

Субъект Федерации \_\_\_\_\_ Город, \_\_\_\_\_ школа \_\_\_\_\_ класс \_\_\_\_\_

Номер вопроса	Ответ	Номер вопроса	Ответ
1.	б -	13.	2 +1
2.	б +1	14.	а б в г +2
3.	а -	15.	продетская -
4.	б +1	16.	скользя -
5.	а -	17.	- -
6.	а +1	18.	ч 2 км 500 м -
7.	2 -	19.	- -
8.	б +1	20.	9/8 м +2
9.	б -	21.	задача -
10.	а +1	22.	киберспорт +2
11.	б +1	23.	1. б 2. 2 3. б 4. а
12.	2 +1		+1 +1 - -

24. Укажите каким пиктограммам соответствует вид спорта

№ рисунка	Название
Рис.1	триатлон +1

22. Какой из современных видов спорта предполагает использование компьютерных игр Киберспорт

23. В каком виде спорта каждый из перечисленных спортсменов добились высоких спортивных результатов.

1. Елена Исинбаева	а) фигурное катание
2. Виктор Ан	б) легкая атлетика
3. Алина Загитова	в) лыжные гонки
4. Александр Большунов	г) шорт-трек

1	2	3	4
б	2	в	а



24. Установите соответствие между классификацией физических упражнений и их признаками.

Признак	Классификация
1) по признаку спортивной специализации	а) упражнения для мышц ног, рук, туловища
2) по анатомическому признаку	б) силовые упражнения, скоростно-силовые упражнения, скоростные упражнения
3) по биомеханическому признаку	в) общеподготовительные упражнения, специально-подготовительные, соревновательные упражнения
4) по преимущественному проявлению отдельных физических качеств	г) циклические, ациклические, смешанные упражнения

1	2	3	4
а	б	2	в



25. Перечислите коньковые виды спорта фигурное катание, каток, катание на коньках, шорттрек, бег на коньках

26. Укажите каким пиктограммам соответствует вид спорта





1		—
2		Силовые упражнения



ф. 08-05

3		метание копья
4		—

27. Впишите название положений

	И.п. ноги врозь
	сид. руки за ступни, <del>ноги</del> ноги <del>вверх</del>
	<del>руки на поясе</del> <del>одна, ноги вместе</del> плотная на одной руке
	И.п. руки на поясе ноги крестом

Ф-08-035

Рис.2	Силовое упражнение —
Рис.3	Метание копья —
Рис.4	— —

25. Запишите графически перечисленные исходные положения....

№ рисунка	Название
Рис.1	И.п. ноги врозь. —
Рис.2	Сед. руки за <del>голову</del> спину, ноги врозь. —
Рис.3	Планка на одной руке. —
Рис.4	И.п. руки на пояс, ноги вместе. +1

Оценка

225

*В.В. ЗВ*

Подпись жюри:

7-08-03

(240) + 50 =  
(290)

**БЛАНК К ОТВЕТАМ**  
**ВСЕРОССИЙСКАЯ ОЛИМПИАДА ШКОЛЬНИКОВ**  
**МУНИЦИПАЛЬНЫЙ ЭТАП**  
**7 – 8 класс**  
**ТЕОРЕТИКО-МЕТОДИЧЕСКОЕ ЗАДАНИЕ**

Фамилия, Имя, Отчество \_\_\_\_\_

Субъект Федерации \_\_\_\_\_ Город \_\_\_\_\_ школа \_\_\_\_\_ класс \_\_\_\_\_

Номер вопроса	Ответ	Номер вопроса	Ответ												
1.	Г -	13.	Г +1												
2.	в +1	14.	абвг +2												
3.	а -	15.	пол +2												
4.	б +1	16.	скалоз -												
5.	Г +1	17.	техника исполнения <del>42 км 500 м</del> +2												
6.	в -	18.	42 км 500 м -												
7.	б -	19.	-												
8.	б +1	20.	9.20 м -												
9.	а -	21.	построение +2												
10.	Г -	22.	киберспорт +2												
11.	б +1	23.	<table border="1"> <tr> <td>1.</td><td>2.</td><td>3.</td><td>4.</td></tr> <tr> <td>б</td><td>Г</td><td>а</td><td>б</td></tr> <tr> <td>-</td><td>+1</td><td>+1</td><td>- +2</td></tr> </table>	1.	2.	3.	4.	б	Г	а	б	-	+1	+1	- +2
1.	2.	3.	4.												
б	Г	а	б												
-	+1	+1	- +2												
12.	б -														

24. Укажите каким пиктограммам соответствует вид спорта

№ рисунка	Название
Рис.1	триатлон +1

22. Какой из современных видов спорта предполагает использование компьютерных игр Киберспорт

23. В каком виде спорта каждый из перечисленных спортсменов добились высоких спортивных результатов.

1. Елена Исинбаева	а) фигурное катание
2. Виктор Ан	б) легкая атлетика
3. Алина Загитова	в) лыжные гонки
4. Александр Большунов	г) шорт-трек

1	2	3	4
в	б	а	г



24. Установите соответствие между классификацией физических упражнений и их признаками.

Признак	Классификация
1) по признаку спортивной специализации	а) упражнения для мышц ног, рук, туловища
2) по анатомическому признаку	б) силовые упражнения, скоростно-силовые упражнения, скоростные упражнения
3) по биомеханическому признаку	в) общеподготовительные упражнения, специально-подготовительные, соревновательные упражнения
4) по преимущественному проявлению отдельных физических качеств	г) циклические, ациклические, смешанные упражнения

1	2	3	4
в	а	г	б



25. Перечислите коньковые виды спорта Метание коньков, фигурное катание,

26. Укажите каким пиктограммам соответствует вид спорта





1		
2		Метание мяча

48.

1

3		
4		

27. Впишите название положений

	искожное положение
	
	стойка на одной руке
	

бр-08-03

Рис.2	метание мела с места -
Рис.3	цебляна камол + 1
Рис.4	прыжки в воду + 1

25. Запишите графически перечисленные исходные положения....

№ рисунка	Название
Рис.1	исходное положение стойка ноги врозь +1
Рис.2	сид упирам руки по сторонам +1
Рис.3	стойка на одной руке -
Рис.4	стойка крестом +1

Оценка

245 + 5

бр

Рис

Подпись жюри:

БЛАНК К ОТВЕТАМ  
ВСЕРОССИЙСКАЯ ОЛИМПИАДА ШКОЛЬНИКОВ  
МУНИЦИПАЛЬНЫЙ ЭТАП  
7 – 8 класс  
ТЕОРЕТИКО-МЕТОДИЧЕСКОЕ ЗАДАНИЕ

Ф-01-01

16,50

Фамилия, Имя, Отчество \_\_\_\_\_

Субъект Федерации \_\_\_\_\_ Город, \_\_\_\_\_ школа \_\_\_\_\_ класс \_\_\_\_\_

Номер вопроса	Ответ	Номер вопроса	Ответ								
1.	г 0	13.	г 0								
2.	б 1	14.	а, в, г. 1,50								
3.	а 0	15.	а, б, в 20								
4.	а 0	16.	0								
5.	г 1	17.	0								
6.	б 0	18.	42 км 500 м. 0								
7.	г 0	19.	Экстрим 0								
8.	а 0	20.	9.6 0								
9.	г 1	21.	поп (полице) 20								
10.	б 0	22.	киберспорт 20								
11.	г 0	23.	<table border="1"> <tr> <td>1.</td><td>2.</td><td>3.</td><td>4.</td></tr> <tr> <td>г -</td><td>г -</td><td>а +</td><td>б + 20</td></tr> </table>	1.	2.	3.	4.	г -	г -	а +	б + 20
1.	2.	3.	4.								
г -	г -	а +	б + 20								
12.	г 1										

24. Укажите каким пиктограммам соответствует вид спорта

№ рисунка	Название
Рис.1	Лёгкая атлетика

0

24. 1-a

2-г

3-б

4-8

25. флуорное вещество,



22. Какой из современных видов спорта предполагает использование компьютерных игр \_\_\_\_\_

23. В каком виде спорта каждый из перечисленных спортсменов добились высоких спортивных результатов.

1. Елена Исинбаева	а) фигурное катание
2. Виктор Ан	б) легкая атлетика
3. Алина Загитова	в) лыжные гонки
4. Александр Большунов	г) шорт-трек

1	2	3	4

24. Установите соответствие между классификацией физических упражнений и их признаками.



Признак	Классификация
1) по признаку спортивной специализации	а) упражнения для мышц ног, рук, туловища
2) по анатомическому признаку	б) силовые упражнения, скоростно-силовые упражнения, скоростные упражнения
3) по биомеханическому признаку	в) общеподготовительные упражнения, специально-подготовительные, соревновательные упражнения
4) по преимущественному проявлению отдельных физических качеств	г) циклические, ациклические, смешанные упражнения



1	2	3	4
а -	г -	б -	в +

10





25. Перечислите коньковые виды спорта фигурное катание, г  
корейск. спорт + 20

26. Укажите каким пиктограммам соответствует вид спорта

1		
2		

3		
4		

27. Впишите название положений

Рр - 07-04

Рис.2	мимание мхи
Рис.3	
Рис.4	синтетическое плывание

25. Запишите графически перечисленные исходные положения....

№ рисунка	Название
Рис.1	мимание чужд миме миме миме.
Рис.2	
Рис.3	
Рис.4	

Оценка 16,50

Подпись жюри:

*Б. Б. Б.*

БЛАНК К ОТВЕТАМ  
ВСЕРОССИЙСКАЯ ОЛИМПИАДА ШКОЛЬНИКОВ  
МУНИЦИПАЛЬНЫЙ ЭТАП

7 – 8 класс

ТЕОРЕТИКО-МЕТОДИЧЕСКОЕ ЗАДАНИЕ

Фамилия, Имя, Отчество \_\_\_\_\_

Субъект Федерации \_\_\_\_\_ Город, \_\_\_\_\_ школа \_\_\_\_\_ класс \_\_\_\_\_

Номер вопроса	Ответ	Номер вопроса	Ответ								
1.	а 1	13.	г 1								
2.	б 1	14.	а 0,5								
3.	г 0	15.	гол 2								
4.	б 1	16.	0								
5.	г 1	17.	0								
6.	г 0	18.	42000 км. 195 м. 20								
7.	б 0	19.	0								
8.	б 1	20.	9х18 20								
9.	г 1	21.	0								
10.	а 1	22.	киберспорт. 20								
11.	б 0	23.	<table border="1"> <tr> <td>1.</td><td>2.</td><td>3.</td><td>4.</td></tr> <tr> <td>а -</td><td>г. +</td><td>б -</td><td>в. + 20</td></tr> </table>	1.	2.	3.	4.	а -	г. +	б -	в. + 20
1.	2.	3.	4.								
а -	г. +	б -	в. + 20								
12.	г 1										

26. Укажите каким пиктограммам соответствует вид спорта

№ рисунка	Название
Рис.1	

22. Какой из современных видов спорта предполагает использование компьютерных игр \_\_\_\_\_

23. В каком виде спорта каждый из перечисленных спортсменов добились высоких спортивных результатов.

1. Елена Исинбаева	а) фигурное катание
2. Виктор Ан	б) легкая атлетика
3. Алина Загитова	в) лыжные гонки
4. Александр Большунов	г) шорт-трек

1	2	3	4



24. Установите соответствие между классификацией физических упражнений и их признаками.



Признак	Классификация
1) по признаку спортивной специализации	а) упражнения для мышц ног, рук, туловища
2) по анатомическому признаку	б) силовые упражнения, скоростно-силовые упражнения, скоростные упражнения
3) по биомеханическому признаку	в) общеподготовительные упражнения, специально-подготовительные, соревновательные упражнения
4) по преимущественному проявлению отдельных физических качеств	г) циклические, ациклические, смешанные упражнения

1	2	3	4
а -	б -	в -	г +





25. Перечислите коньковые виды спорта Хоккей, фигурное катание, шорт-трек.

26. Укажите каким пиктограммам соответствует вид спорта

1		
2		

3		
4		

27. Впишите название положений

10-07-03

Рис.2	
Рис.3	
Рис.4	синхронное плавание.

24. Запишите графически перечисленные исходные положения....

№ рисунка	Название
Рис.1	стойка ноги брось
Рис.2	
Рис.3	
Рис.4	

Оценка

24,50

Подпись жюри:

Б.В.С.

БЛАНК К ОТВЕТАМ  
ВСЕРОССИЙСКАЯ ОЛИМПИАДА ШКОЛЬНИКОВ  
МУНИЦИПАЛЬНЫЙ ЭТАП

7 – 8 класс

ТЕОРЕТИКО-МЕТОДИЧЕСКОЕ ЗАДАНИЕ

7-08-09  
13,50

Номер вопроса	Ответ	Номер вопроса	Ответ								
1.	б 0	13.	а 0								
2.	б 1	14.	б, г 0,5								
3.	а 0	15.	Технический ораг 2,5								
4.	б 0	16.	-								
5.	а 0	17.	-								
6.	г 0	18.	-								
7.	б 1	19.	-								
8.	б 1	20.	-								
9.	г 1	21.	-								
10.	а 1	22.	-								
11.	б 1	23.	<table border="1"> <tr> <td>1.</td><td>2.</td><td>3.</td><td>4.</td></tr> <tr> <td>б</td><td>б</td><td>а</td><td>г</td></tr> </table>	1.	2.	3.	4.	б	б	а	г
1.	2.	3.	4.								
б	б	а	г								
12.	г 1										

24.

1. б -	2. а 1	3. г 1	4. б -
--------	--------	--------	--------

25. Фигурное катание, хоккей

1,5

2,5



26. Укажите каким пиктограммам соответствует вид спорта

№ рисунка	Название
Рис.1	
Рис.2	
Рис.3	
Рис.4	

27. Запишите графически перечисленные исходные положения....

№ рисунка	Название
Рис.1	Статическое
Рис.2	
Рис.3	
Рис.4	

Оценка 13,55

Подпись жюри:

