

**БЛАНК К ОТВЕТАМ**  
**ВСЕРОССИЙСКАЯ ОЛИМПИАДА ШКОЛЬНИКОВ**  
**МУНИЦИПАЛЬНЫЙ ЭТАП**  
 7 – 8 класс  
**ТЕОРЕТИКО-МЕТОДИЧЕСКОЕ ЗАДАНИЕ**

Ф0 - 07 - 04

Номер вопроса	Ответ	Номер вопроса	Ответ								
1. 1	a +	13.	b -								
2. 1	b +	14. 0,5	b 0,25								
3.	δ -	15. 2	Роль. 2								
4. 1	δ +	16.	-								
5.	a -	17.	Тяжелость -								
6.	b -	18.	42,800 -								
7.	δ -	19.	Восстановительные.								
8. 1	δ +	20.	95 -								
9. 1	2 +	21.	-								
10. 1	a +	22. 2 28	Киберспорт.								
11.	2 -	23. 1/2	<table border="1"> <thead> <tr> <th>1.</th> <th>2.</th> <th>3.</th> <th>4.</th> </tr> </thead> <tbody> <tr> <td>δ +</td> <td>2 +</td> <td>a +</td> <td>b. +</td> </tr> </tbody> </table>	1.	2.	3.	4.	δ +	2 +	a +	b. +
1.	2.	3.	4.								
δ +	2 +	a +	b. +								
12. 1	2 +										

24.

1	2	3	4
b +	2 -	a -	+ δ

25

25. Фигурное катание, хоккей, керлинг

---



---



---

10-07-07


26. Укажите каким пиктограммам соответствует вид спорта

№ рисунка	Название
Рис.1	
Рис.2	Фильхование.
Рис.3	Байдарочный слалом.
Рис.4	Синхронное плавание.

27. Запишите графически перечисленные исходные положения....

№ рисунка	Название
Рис.1	Исходное положение.
Рис.2	Вис.
Рис.3	
Рис.4	

Оценка 16,25 18,5

Подпись жюри:  Герашимов А.И.

**БЛАНК К ОТВЕТАМ**  
**ВСЕРОССИЙСКАЯ ОЛИМПИАДА ШКОЛЬНИКОВ**  
**МУНИЦИПАЛЬНЫЙ ЭТАП**  
 7 – 8 класс  
**ТЕОРЕТИКО-МЕТОДИЧЕСКОЕ ЗАДАНИЕ**

70-08-02  
1

Номер вопроса	Ответ	Номер вопроса	Ответ
1.		13.	
1	a +	1	2 +
2.		14.	
	б -		-
3.		15.	
1	в +	2	Фалом 2
4.		16.	
	в -	2	Кифос 2
5.		17.	
1	г -		-
6.		18.	
1	д +	2	42 км 195 м -
7.		19.	
1	в +		-
8.		20.	
1	д -		-
9.		21.	
1	г +	2	построеше -
10.		22.	
1	а +		
11.		23.	
1	д -	1.	2.
		а	б
		в	г
12.		д	
1	г +		

24.

1 д -	2 г -	3 в -	4 а -
-------	-------	-------	-------

1/5 25. Фигурное катание, хоккей

---



---



---

26. Укажите каким пиктограммам соответствует вид спорта

№ рисунка	Название
Рис.1	
Рис.2	
Рис.3	
Рис.4	Серфинг
	Плавание

27. Запишите графически перечисленные исходные положения....

№ рисунка	Название
Рис.1	
Рис.2	
Рис.3	Книжка
Рис.4	Угол

Оценка 18 5 ~~20~~

Подпись жюри: Розей А.У.

70 - 08 - 06  
1

**БЛАНК К ОТВЕТАМ**  
**ВСЕРОССИЙСКАЯ ОЛИМПИАДА ШКОЛЬНИКОВ**  
**МУНИЦИПАЛЬНЫЙ ЭТАП**  
**7 – 8 класс**  
**ТЕОРЕТИКО-МЕТОДИЧЕСКОЕ ЗАДАНИЕ**

Фамилия, Имя, Отчество \_\_\_\_\_

Субъект Федерации \_\_\_\_\_ Город, \_\_\_\_\_ школа \_\_\_\_\_ класс \_\_\_\_\_

Номер вопроса	Ответ	Номер вопроса	Ответ
1.	в -	13. 1	2 +
2. 1	в +	14. 0,5	8 0,25
3. 1	в +	15. 2	фамилия 18
4. 1	8 +	16.	крупные стана -
5.	а -	17.	-
6.	г -	18.	42,7 -
7.	а -	19.	циклические -
8. 1	8 +	20.	9.6 -
9. 1	г +	21.	<del>вопрос</del> -
10. 1	а +	22. 2	лидбспорт 2
11.	в -	23. 2	1. B + 2. B - 3. A + 4. Г -
12. 1	г +		

24. Укажите каким пиктограммам соответствует вид спорта

№ рисунка	Название
Рис.1	—

22. Какой из современных видов спорта предполагает использование компьютерных игр киберспорт

23. В каком виде спорта каждый из перечисленных спортсменов добились высоких спортивных результатов.

1. Елена Исинбаева	а) фигурное катание
2. Виктор Ан	б) легкая атлетика
3. Алина Загитова	в) лыжные гонки
4. Александр Большунов	г) шорт-трек

1	2	3	4
б	в	а	г



24. Установите соответствие между классификацией физических упражнений и их признаками.

Признак	Классификация
1) по признаку спортивной специализации	а) упражнения для мышц ног, рук, туловища
2) по анатомическому признаку	б) силовые упражнения, скоростно-силовые упражнения, скоростные упражнения
3) по биомеханическому признаку	в) общеподготовительные упражнения, специально-подготовительные, соревновательные упражнения
4) по преимущественному проявлению отдельных физических качеств	г) циклические, ациклические, смешанные упражнения



1	2	3	4
в	г	а	б

25. Перечислите коньковые виды спорта фигурное катание, хоккей, парное катание





26. Укажите каким пиктограммам соответствует вид спорта

1		—
2		метание —

Фд - 08-06

3			сёрфинг	-
4		1	прыжки в воду	1

27. Впишите название положений

		широкая стойка	-
			
		широкая на одной руке	-
			


70-08-06  
1

Рис.2	— метание
Рис.3	сёрфинг —
Рис.4 1	прыжки в воду + 1

25. Запишите графически перечисленные исходные положения....

№ рисунка	Название
Рис.1	широкая стойка —
Рис.2	
Рис.3	планка на одной руке —
Рис.4	

Оценка 15,25 16,5

Подпись жюри:  P. A. U.



**БЛАНК К ОТВЕТАМ**  
**ВСЕРОССИЙСКАЯ ОЛИМПИАДА ШКОЛЬНИКОВ**  
**МУНИЦИПАЛЬНЫЙ ЭТАП**  
 7 – 8 класс  
**ТЕОРЕТИКО-МЕТОДИЧЕСКОЕ ЗАДАНИЕ**

*20-08-05*  
*1*

Номер вопроса	Ответ	Номер вопроса	Ответ								
1. <i>1</i>	<i>a +</i>	13. <i>1</i>	<i>z +</i>								
2. <i>1</i>	<i>b +</i>	14.	-								
3. <i>1</i>	<i>b +</i>	15. <i>2</i>	<i>фасол 2</i>								
4.	<i>b -</i>	16. <i>2</i>	<i>кисис 2</i>								
5. <i>1</i>	<i>z +</i>	17.	<i>комплекс -</i>								
6. <i>1</i>	<i>δ +</i>	18.	-								
7. <i>1</i>	<i>b +</i>	19.	-								
8. <i>1</i>	<i>δ +</i>	20.	<i>15 -</i>								
9. <i>1</i>	<i>z +</i>	21.	-								
10. <i>1</i>	<i>a +</i>	22. <i>2</i>	<i>киберспорт 2</i>								
11. <i>1</i>	<i>δ +</i>	23. <i>45</i>	<table border="1" style="width: 100%; border-collapse: collapse;"> <tr> <td style="width: 25%;">1.</td> <td style="width: 25%;">2.</td> <td style="width: 25%;">3.</td> <td style="width: 25%;">4.</td> </tr> <tr> <td><i>δ</i></td> <td><i>z</i></td> <td><i>a</i></td> <td><i>b</i></td> </tr> </table>	1.	2.	3.	4.	<i>δ</i>	<i>z</i>	<i>a</i>	<i>b</i>
1.	2.	3.	4.								
<i>δ</i>	<i>z</i>	<i>a</i>	<i>b</i>								
12. <i>1</i>	<i>z -</i>										

24.

<i>1. b +</i>	<i>2. 2 -</i>	<i>3. a -</i>	<i>4. δ +</i>
---------------	---------------	---------------	---------------

*25*

25. *фигурное катание, санный спорт, хоккей*

---



---



---

26. Укажите каким пиктограммам соответствует вид спорта

№ рисунка	Название
Рис.1	
Рис.2	
Рис.3	
Рис.4	

27. Запишите графически перечисленные исходные положения....

№ рисунка	Название
Рис.1	
Рис.2	
Рис.3	
Рис.4	

Оценка 130 25

Подпись жюри: А.В. Рогов и др.

70-07-03

**БЛАНК К ОТВЕТАМ**  
**ВСЕРОССИЙСКАЯ ОЛИМПИАДА ШКОЛЬНИКОВ**  
**МУНИЦИПАЛЬНЫЙ ЭТАП**

7 – 8 класс

**ТЕОРЕТИКО-МЕТОДИЧЕСКОЕ ЗАДАНИЕ**

Фамилия, Имя, Отчество \_\_\_\_\_

Субъект Федерации \_\_\_\_\_ Город, \_\_\_\_\_ школа \_\_\_\_\_ класс \_\_\_\_\_

Номер вопроса	Ответ	Номер вопроса	Ответ
1.	B -	13.	B -
2.	A -	14. 1	B, B 0,5
3.	Г -	15. 2	Фон 20
4.	B -	16.	Искривление -
5. 1	Г +	17.	-
6.	Г -	18.	42 км 50 м -
7.	A -	19.	-
8. 1	B +	20.	9 * 12 м -
9. 1	Г +	21.	команда -
10. 1	A +	22.	-
11.	A -	23.	1. a 2. B 3. D 4. z
12.	B -		

26

24. Укажите каким пиктограммам соответствует вид спорта

№ рисунка	Название
Рис.1	Плавание, Хлопчатобумажный, бел.

24. 1-2, 2-в, 3-а, 4-б

25. Фигурное катание, хоккей.

Рис.2	Борьба
Рис.3 1	Плавание на каноях
Рис.4	Нырание

27

25. Запишите графически перечисленные исходные положения....

№ рисунка	Название
Рис.1	Исходное положение
Рис.2	
Рис.3	
Рис.4	

Оценка

8,5 9

Подпись жюри:

А.А. Рудой А.И.